

Adı:
Soyadı:

Oku - Anla - Yorumla

Aşağıdaki metni okuyunuz. Soruları yanıtlayınız.



BACAKLAR VE BOYNUZLAR



Bay geyik, pınarda su içiyormuş. Suda kendi yansımasını görmüş. Alımlı boynuzlarına hayran olmuş. Sonra gözü, kuru ve ince bacaklarına takılmış. O sırada, bir panterin üzerine doğru geldiğini fark etmiş. Hızla ormana kaçmış. Uzun ve güçlü bacakları sayesinde hızlı koşabiliyormuş. Ama boynuzları sürekli ağaçların dallarına takıldığı için hızlanıp uzaklaşamıyormuş. Çok geçmeden pantere yakalanmış. O zaman bacaklarının değerini anlamış. Boynuzlarının sadece görüntüsü gösterişliymiş.



Ezop Masalları

1 Metnin ana düşüncesini işaretleyiniz.

- Gösteriş peşinde koşanların sevgisi zorladır.
- Gösterişi sevenler, kendini övmeyi de sever.
- Gösterişi olan değil, yararı olan değerlidir.

2 Metnin konusunu işaretleyiniz.

- Geyiğin gözlerinin iyi görmesi
- Geyiğin boynuzları yüzünden pantere yakalanması ve ayaklarının değerini anlaması
- Geyiğin boynuzlarının alımlı olması ve boynuzları ile gurur duyması

3 Aşağıdaki soruları metne göre yanıtlayınız.

a. Bay geyik; neye, nerede hayran olmuş?

? _____

b. Bay geyiğin hızını kesen nedir?

? _____

4 Aşağıdaki sözcükleri sözlük sırasına göre numaralandırınız

Sözcükler	Sıra	Sözcükler	Sıra
? üzüm		? mavi	
? elma		? pembe	
armut	1	? yeşil	
? dergi		? sarı	

Aşağıdaki tabloyu örnekteki gibi tamamlayınız.

Sözcükler	İnce Ünlüler	Kalın Ünlüler	Ünsüzler
televizyon	e - i	o	t - l - v - z - y - n
sinema			
Karagöz			
aktör			
komedi			
dekor			

Aşağıdaki tablolarda verilen birleşik sözcükleri örnekteki gibi hecelerine ayırınız.

Sözcükler	Hecelenişi	Sözcükler	Hecelenişi
başöğretmen	ba-şög-ret-men	gecekondu	?
ilkokul		Beşiktaş	?
hanımeli		Fenerbahçe	?
Keloğlan		Galatasaray	?

Sözcükler	Hecelenişi	Sözcükler	Hecelenişi
kaynata		pazartesi	?
Bakırköy		karniyarik	?
yayınevi		bilgisayar	?

Aşağıdaki yüzer ritmik saymalarda verilmeyen sayıları yazınız.

1. 1200 ⇒ 1300 ○ ○ ○ 1600 ○ ○

2. 2700 ⇒ ○ ○ 2900 ○ ○ ○ 3200 ○ ○

Aşağıdaki biner ritmik saymalarda verilmeyen sayıları yazınız.

1. 300 ⇒ 1300 ○ ○ ○ ○ 5300 ○ ○

2. 2140 ⇒ ○ ○ 4140 ○ ○ ○ ○ 8140 ○ ○

Beş Basamaklı Doğal Sayıların Bölükleri, Basamak Adları ve Basamak Değerleri

Aşağıdaki tablolarda verilen doğal sayıları bölüklerine ayırınız.

a.

25 417	38 458	57 135	84 548
Binler Bölüğü Birler Bölüğü	Binler Bölüğü Birler Bölüğü	Binler Bölüğü Birler Bölüğü	Binler Bölüğü Birler Bölüğü
25 417	?	?	?

b.

70 100	86 018	90 099	48 008
Binler Bölüğü Birler Bölüğü	Binler Bölüğü Birler Bölüğü	Binler Bölüğü Birler Bölüğü	Binler Bölüğü Birler Bölüğü
?	?	?	?

Tablolardaki sayıların basamaklarındaki rakamların verilmeyen basamak adlarını kısaltarak yazınız.

a. 5 4 1 7 5 b. 3 4 7 1 8 c. 6 2 3 7 9

Obn	Bn	Y	O	B
Obn			O	
Obn		Y		B

Aşağıdaki tablolarda verilen doğal sayıları bölüklerine ayırınız.

a.

145 765	224 417	548 816	373 548
Binler Bölüğü Birler Bölüğü	Binler Bölüğü Birler Bölüğü	Binler Bölüğü Birler Bölüğü	Binler Bölüğü Birler Bölüğü
145 765	?	?	?

b.

440 040	906 806	602 500	700 070
Binler Bölüğü Birler Bölüğü	Binler Bölüğü Birler Bölüğü	Binler Bölüğü Birler Bölüğü	Binler Bölüğü Birler Bölüğü
?	?	?	?

Tablolardaki sayıların basamaklarındaki rakamların verilmeyen basamak adlarını kısalarak yazınız.

a.	8	2	7	6	4	3	b.	8	0	6	6	0	8	c.	4	0	5	0	5	0
Ybn	Obn	Bn	Y	O	B	?	Ybn		Y				?		Bn	O				

Aşağıdaki verilen kartlardan doğru bilgi yazılanları işaretleyiniz.

Kayaçlar karaları oluşturur.

Kayaçların en büyük ve sert olan kitlelerine kaya denir.

Kayaçlardan küçük kütlelere kaya veya taş adı verilir.

Ekonomik değeri olan kayaçlara toprak denir.

Kayaçlar; birçok mineralin bir araya gelmesiyle oluşur.

Altın, gümüş, bor ve demir madenlere örnektir.

Aşağıda verilen maddelerden maden olanları işaretleyiniz.



Plastik



Krom



Kömür



Odun



Elmas



Altın



Demir



Toprak

Aşağıda fosillerin oluşum aşamaları sırasıyla verilmiştir. İfadelerde boş bırakılan yerleri verilen sözcüklerden uygun olanı ile tamamlayınız.

fosiller

aşınması

basınç

fosil

- a. Ölen canlıların kalıntıları; rüzgâr, yağmur gibi olayların etkisiyle sürüklenerek oluşumunu başlatır.
- b. Üst üste oluşan kayaç tabakaları kemiklere _____ uygular.
- c. Üstteki tabakaların sertleşmesi ve çeşitli minerallerin etkisiyle canlı kalıntıları taşlaşır. Bu sayede _____ oluşur.
- ç. Fosiller, zamanla üstteki kayaçların _____ veya çeşitli nedenlerle toprak üstüne çıkabilir.

Aşağıda, Atatürk'ün yaşamı ve Türk milletini yakından ilgilendiren olayların tarihleri verilmiştir. Bu tarihlerde hangi olayların gerçekleştiğini eşleştirerek gösteriniz.

1881

Cumhuriyeti kurdu.

1922

Selânik'te doğdu.

1919

Türkiye Büyük Millet Meclisini açtı.

1920

Samsun'a çıkarak Kurtuluş Savaşı'nı başlattı.

1923

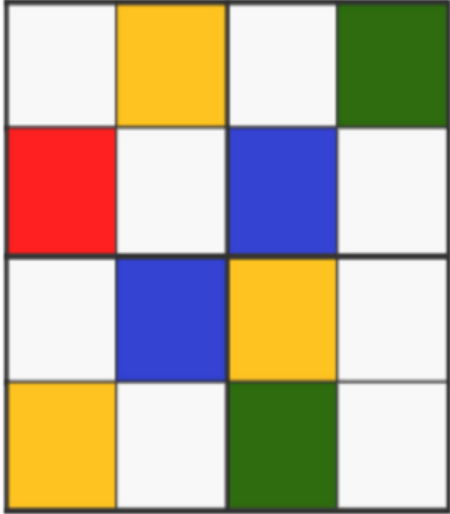


Kurtuluş Savaşı zaferle sonuçlandı.

1938


İstanbul'da hayata gözlerini yumdu.

Boyamalı Sudoku

Ad Soyad : _____



Aşağıdaki İstanbul resmini boyayalım.



istanbul

✓ Beyazları boyayarak yukarıdan aşağı, soldan sağa 4 farklı rengi oluşturmalısın.

Her küpte 4 çeşit renk bulunmalıdır.

4/A SINIFI ÇALIŞMALARI