

Adı Soyadı: \_\_\_\_\_

Sınıfı: \_\_\_\_\_



# 19 MAYIS

19 Mayıs günü,  
Yaşıyor kalbimizde,  
Atatürk güneş gibi,  
Her zaman içimizde.



Ülkü verir, hız verir.  
Bize 19 Mayıs.  
Yurdumuzu kurtaran,  
Ata'yı unutmayız.

Tembellik yasak bize,  
Parolamız ileri,  
Dünyaya örnek olsun,  
Çalışkan Türk gençleri.

Tembellik yasak bize,  
Parolamız ileri,  
Dünyaya örnek olsun,  
Çalışkan Türk Gençleri.



1. Kalbimizde ne yaşıyor?

---

---

---

3. Bize yasak olan şey nedir?

---

---

---

2. Yurdumuzu kurtaran kimdir?


---

---

4. Dünyaya kim örnek olacak?

---

---

 Aşağıdaki cümlelerle ilgili 5N1K sorularını cevaplayalım.



→ Okuldan çıktıktan sonra eve gidelim.

★ Nereye gidelim?

---

★ Ne zaman gidelim?

---



→ Can kitap okuduğu için başarılı oldu.

★ Kim başarılı oldu?

---

★ Niçin başarılı oldu?

---



→ Yarın okulda tören yapılacak.

★ Ne yapılacak?

---

★ Ne zaman yapılacak?

---



→ Faruk havuzada iyi yüzüyor.

★ Kim yüzüyor?

---

★ Nasıl yüzüyor?

---



→ Okullar üç hafta sonra kapanacak.

★ Ne kapanacak?

---

★ Ne zaman kapanacak?

---



→ Arkadaşım Adana'da oturuyor.

★ Kim oturuyor?

---

★ Nerede oturuyor?

---

➔ Aşağıda verilen harflerle ilgili kelimeler bulalım.

A

İsim	
Şehir	
Hayvan	
Meyve	
Eşya	

E

İsim	
Şehir	
Hayvan	
Meyve	
Eşya	

S

İsim	
Şehir	
Hayvan	
Meyve	
Eşya	

\*\*\*\*\*

➔ Aşağıdaki adların ortak adını örnekteki gibi yazalım.

elma, ayva, kavun, karpuz

➔

meyve

papatya, gül, orkide, lale

➔

sarı, pembe, siyah, kırmızı

➔

kuş, köpek, aslan, zebra

➔

mart, nisan, mayıs, haziran

➔

# Bayrađımız

Ařađıda kutulara istenilenleri yazın.

Ülkemizin Adı

Başkentimiz

Bayrađımızın Rengi

Bulutlarda verilenlerden bayrađımızla ilgili olanları boyayın.

Kare  
şeklindedir.

Dikdörtgen  
şeklindedir.

Zemini kırmızı, ay  
ve yıldızı beyazdır.

Ay ve yıldız  
vardır.

Bayramlarla kutlandıkları tarihleri eşleştirin.

Cumhuriyet Bayramı

23 Nisan

Zafer Bayramı

19 Mayıs

Ulusal Egemenlik ve Çocuk Bayramı

30 Ağustos

Atatürk'ü Anma Gençlik ve Spor Bayramı

29 Ekim

Yaprađını dökmeyen ağacı işaretleyin.



Aşağıda verilen paraların toplam miktarını yazalım.



.....



.....



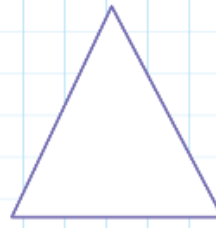
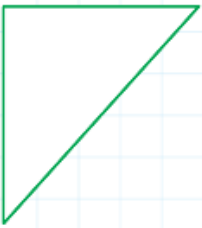
.....



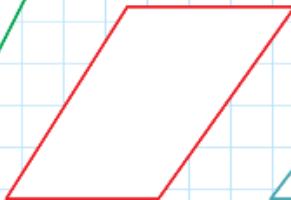
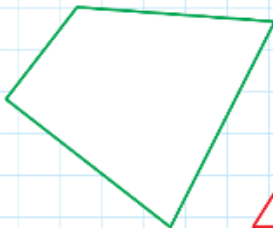

.....

## Geometrik Şekilleri Sınıflandırma



Aşağıdaki şekillerden üç kenarlı olanları boyayın.



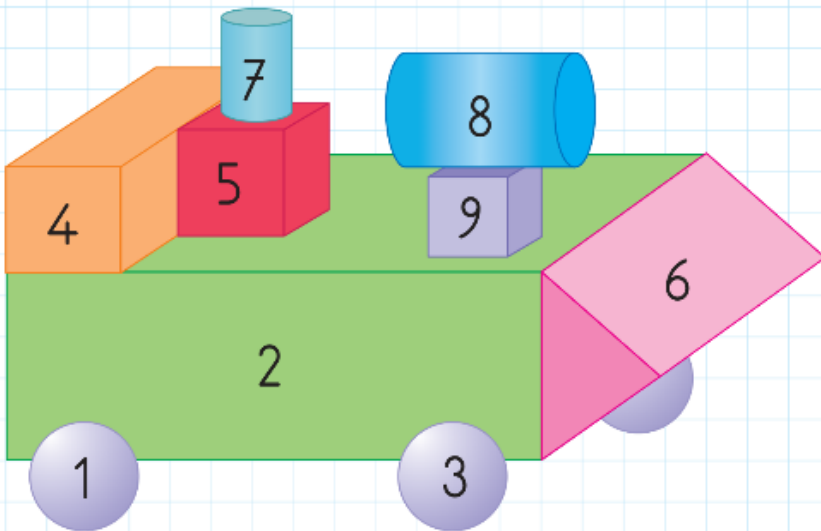
Aşağıdaki şekillerden dört kenarlı olanları boyayın.



Tabloda verilen geometrik şekillerin adlarını işaretleyin.

Şekiller	Kare	Dikdörtgen	Üçgen	Çember
				
				
				
				
				

Aşağıdaki yapıyı oluşturan geometrik cisimler numaralandırılmıştır. Cisimlerin özelliklerine göre numaralarını ilgili yerlere yazın.



Köşeli Olanlar

? \_\_\_\_\_

Köşesiz Olanlar

? \_\_\_\_\_

Yuvarlanabilenler

? \_\_\_\_\_