

Adı :

Soyadı:

TÜRKÇE

OKUMA ANLAMA

3.SINIF



Yanda verilen metne göre aşağıdaki soruları cevaplayalım.

1. Metne uygun bir başlık veriniz.

2. Metnin türü nedir?

3. Metnin ana duygusu nedir?

4. Şiir kaç kıtadan oluşmaktadır?

5. Şiir kaç dizeden oluşmaktadır?

6. Şiirde geçen aşağıdaki sözcüklerin anlamlarını araştırıp yazalım.

- zafer:
- şan:
- yedi düvel:
- asil:
- ecdat:
- yar:
- kut:

7. Yanda verilen şiire bir dördlük de biz yazalım.

.....
Çanakkale'de sıçradı zaferin şanı,
Toprağa düştü her bir kahraman kanı.
Denizler şahit oldu vatan sevdasına,
Yüreklerde yandı on beşliler arkasına.

Yedi düvele karşı durdu bu toprak,
Yüreklerde coşkuyla dirildi bayrak.
Yılmadı asil millet, direndi vatan,
Döküldü toprağa damardan asil kan.


Kutlu destan yazdı ecdat bu topraklarda,
Göğsünde şanlı bayrağıyla vatanda.
Toprağa düşse de bedenler, ruhları mevcut,
Ölümsüzleşti isimleri, yıldızlara kondu kut.

Çanakkale, bir destanın adı,
Binlerce şehit verildi, nice vatan evladı.
Toprağın altında nice yar vardı
Adları Mehmet'ti, şanları aslı.

Çanakkale'yi düşmana geçirmedi
Vatan sevgisiyle dolduk, yenilmedik,
Nice kan döktük devrilmedik
Bir destan yazdık biz bu toprakta.

.....
.....
.....
.....

Aşağıdaki verilen alana sesli (ünlü) harflerimizi örnekteki gibi yazalım.



Aşağıdaki verilen sözcüklerin harf sayılarını örnekteki gibi yazalım.

Astronot

8

Kelebek

Dinozor

Akvaryum

Tekerleme

Eskişehir

Televizyon

Anıtkabir

Aşağıdaki etkinliği alfabe sırasına dikkat ederek örnekteki gibi yapalım.



Aşağıdaki sözcüklerin harf sayısını bulup yazalım. Altta verilen uygun yerlere aynı harf sayısından oluşan yeni sözcükler yazalım.

6

balina

salata

kitaplık

istirap

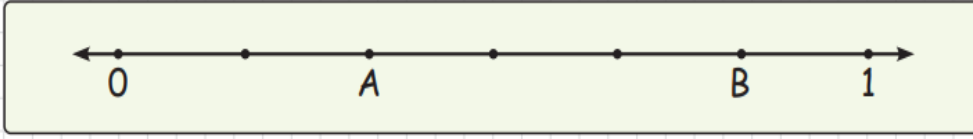
kapıcı

öğretmen

kapıcı

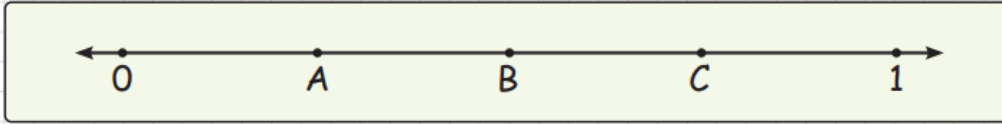
KONU: Kesirleri Sayı Doğrusunda Gösterelim

A. Aşağıda istenilen kesirleri yazalım.



1 Sayı doğrusunu inceleyelim. A noktasını ifade eden kesri yazalım:

2 B noktasını ifade eden kesri yazalım:



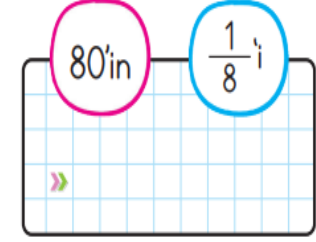
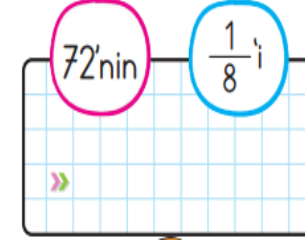
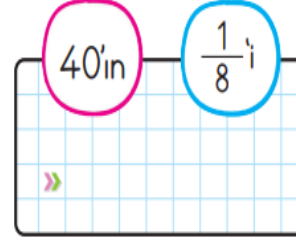
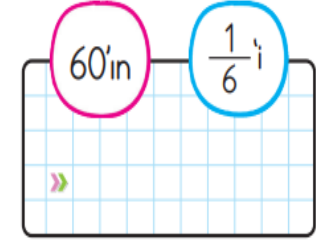
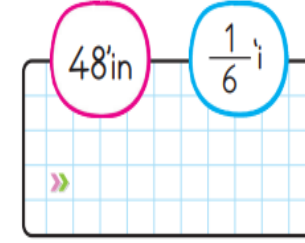
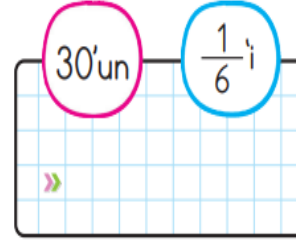
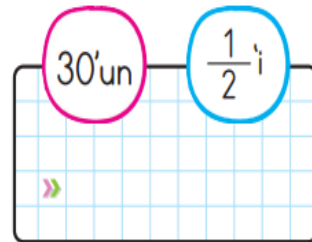
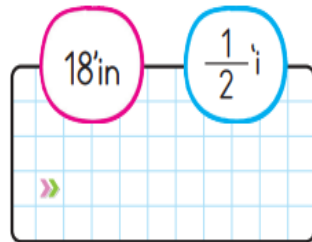
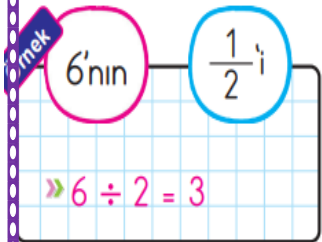
1 Sayı doğrusunu inceleyelim. A noktasını ifade eden kesri yazalım:

2 B noktasına karşılık gelen kesri yazalım:

3 C noktasına karşılık gelen kesri yazalım:

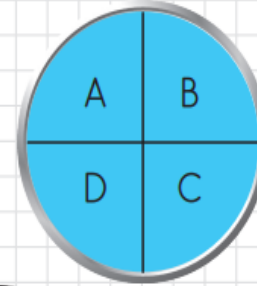
KONU: Belirtilen Kesir Kadarını Bulalım

A. Aşağıdaki sayıların belirtilen kesir kadarını bulalım.

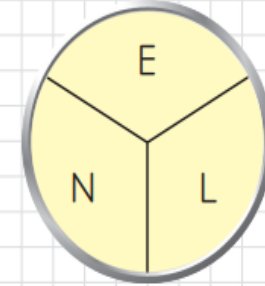


YENİ NESİL SORU ÇÖZ

Aşağıdaki demir levhaları inceleyelim.



24 kg



60 kg

- Yukarıdaki mavi levha 4 eşit parçaya ayrılmıştır.

- Yukarıdaki turuncu levha 3 eşit parçaya ayrılmıştır.

Yukarıdaki parçalardan A, B, E ve L parçalarının toplamı kaç kilogramdır?

A. 52 kg

B. 42 kg

C. 62 kg

Aşağıdaki saatlerin öğleden sonraki karşılıklarını yazalım.

ÖĞLEDEN ÖNCE	ÖĞLEDEN SONRA
03:10
11:45
07:25

Aşağıdaki saatlerin öğleden önceki karşılıklarını yazalım.

ÖĞLEDEN SONRA	ÖĞLEDEN ÖNCE
17:45
13:15
23:35

Aşağıdaki saatlerin okunuşlarını örnekteki gibi yazalım.

07:10 : 7'yi on geçiyor.	03:15 :
09:05 :	07:10 :
14:25 : 2'yi yirmi beş geçiyor.	18:05 :
11:15 :	22:30 :
13:20 :	14:15 :
08:10 :	23:05 : 11'i beş geçiyor.
17:05 :	00:10 :

A. Aşağıda okunuşları verilmiş olan saatleri harfleri kullanarak dijital saatlerle eşleştirelim. Şifreyi bulalım.

a

E : Sekize on var.	V : Altıya yirmi var.
İ : Dokuzaya beş var.	C : Üç çeyrek var.
N : İki çeyrek geçiyor.	G : Biri yirmi geçiyor.
R : On bir buçuk.	Ü : Yediye yirmi beş var.

.....

01:20 06:35 05:40 07:50 11:30 14:45 08:55 02:15


b

K : Dördü beş geçiyor.	R : Dokuzaya çeyrek var.
A : İkiye yirmi var.	O : Beşi beş geçiyor.
L : Yedi çeyrek geçiyor.	T : Üç yirmi beş var.
P : Sekize on var.	A : On bir buçuk.

.....

07:50 05:05 08:45 02:35 11:30 04:05 01:40 07:15

Aşağıdaki saatlere göre soruları cevaplandıralım.

 <p>a. 10 dakika sonra saat kaç olur?</p> <p>.....</p>	 <p>a. 20 dakika önce saat kaçtı?</p> <p>.....</p>	 <p>a. Kaç dakika önce saat 4'tü?</p> <p>.....</p>	 <p>a. 15 dakika önce saat kaçtı?</p> <p>.....</p>
---	---	---	---

