

Adı:
Soyadı:



Matematik
2/A Çalışma Kağıdı



---Mini Test---

1.
?



Verilen sayıdan başlayarak ileriye doğru ikişer ritmik sayma yapıldığında en son armuda hangi sayı yazılır?

- A) 24 B) 26 C) 28


2.
?



Yukarıdaki ritmik saymada "?" yerine hangi sayı yazılmalıdır?

- A) 16 B) 17 C) 18

3.
?



Verilen sayıdan başlayarak geriye doğru birer ritmik sayma yapıldığında "?" yerine hangi sayı gelir?

- A) 18 B) 17 C) 16

4. İleriye doğru ikişer ritmik sayarken 48'den önce hangi sayıyı söyleriz?

- A) 46 B) 47 C) 37

5.
?



3'ten başlayıp ileriye doğru üçer ritmik saydığımızda dördüncü olarak hangi sayıyı söylerim?

- A) 15 B) 12 C) 9

6.



?

Yukarıda verilen ritmik saymada hangi sayı unutulmuştur?

- A) 12 B) 13 C) 15

7.

?

18'den başlayarak ileriye doğru üçer ritmik saydığımızda hangi sayıyı söylemeyiz?

- A) 21 B) 25 C) 27

8.

?

Aşağıdakilerden hangisinde dörder ritmik sayma yapılmıştır?

- A) 24 - 28 - 32 - 36 - 40
B) 10 - 15 - 20 - 25 - 30
C) 4 - 6 - 8 - 10 - 12

9.

?

100'den başlayarak geriye doğru beşer ritmik saydığımızda 45'ten sonra hangi sayıyı söyleriz?

- A) 55 B) 50 C) 40

10.


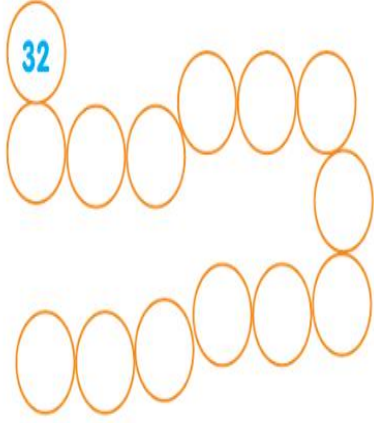
?



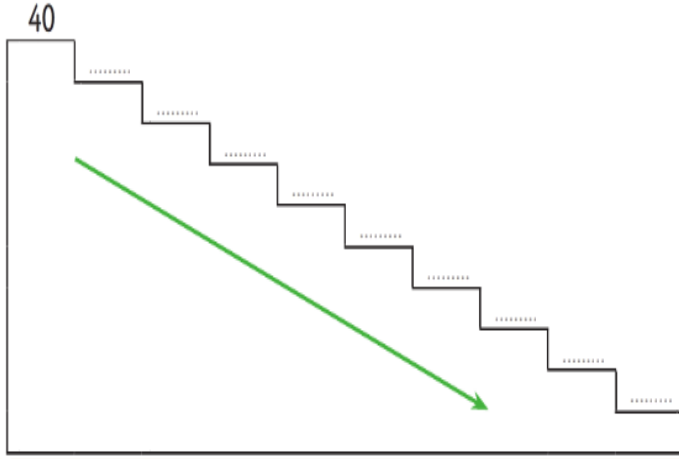
Yukarıda kaçar ritmik sayma yapılmıştır?

- A) Onar B) Beşer C) Üçer

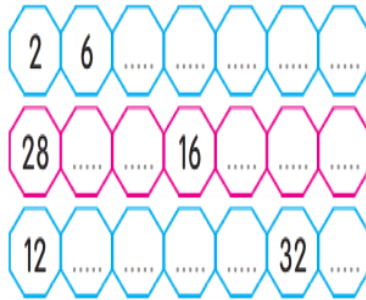
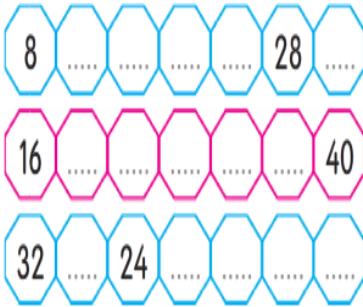
Her şekilde verilen sayıdan başlayarak geriye doğru ikişer ritmik sayınız.
Saydığınız her bir sayıyı uygun kutucuğa yazınız.




40'tan başlayarak geriye doğru dörder ritmik sayarken söylediğiniz sayıları noktalı yerlere yazınız.



Her bir şekilde verilen sayılardan başlayarak dörder ritmik sayınız. Boş bırakılan yerlere gelmesi gereken sayıları yazınız.



7'den başlayarak onar ritmik sayma yapıldığında aşağıdaki sayılardan hangilerini söyleriz? Bu sayıları boyayınız.



SAYI ÖRÜNTÜLERİ

Aşağıdaki sayı örüntülerinin kuralını bulalım örnekteki gibi yazalım.

• $1 \xrightarrow{+3} 4 \xrightarrow{+3} 7 \xrightarrow{+3} 10 \xrightarrow{+3} 13 \xrightarrow{+3} 16$

Örüntü kuralı: Sayılar üçer artıyor.

• $5 - 10 - 15 - 20 - 25$

Örüntü kuralı:

• $12 - 16 - 20 - 24 - 28$

Örüntü kuralı:

• $13 - 23 - 33 - 43 - 53$

Örüntü kuralı:

• $24 - 22 - 20 - 18 - 16$

Örüntü kuralı: