

Oku - Anla - Yorumla

Aşağıdaki şiiri okuyunuz. Soruları yanıtlayınız.

ÖĞRETMENİM

Sizden ayrıldığı gün,
İçim yanacak benim,
Meleklerin meleği,
Biricik öğretmenim!

O zaman hangi eller,
Okşayacak başımı?
Hangi tatlı bakışlar,
Silecek gözyaşımı?

Söyle bana ne olur?
Rahat etsin yüreğim.
Dünya durdukça yaşa,
Biricik öğretmenim!






Reyhan DURSUN

- 1 Şiirin ana duygusunu işaretleyiniz.
 Okul sevgisi Yaşama sevinci Öğretmen sevgisi
- 2 Öğretmen neye benzetilmiştir?
 Çiçeğe Meleğe Ateşe
- 3 Şair "İçim yanacak." sözüyle hangisini anlamak istemektedir?
 Üzüleceğim. Özleyeceğim. Sevineceğim.
- 4 Şiirde geçen "biricik" sözcüğünün eş anlamlısı hangisidir?
 Çok Eşsiz Tek
- 5 Şiirde geçen "biricik" sözcüğü dizeye hangi anlamı katmıştır?
 Sevgi Acıma Özlem

Varlıkların Sayısı

Görsellerdeki varlıkları sayılarıyla eşleştiriniz.



27

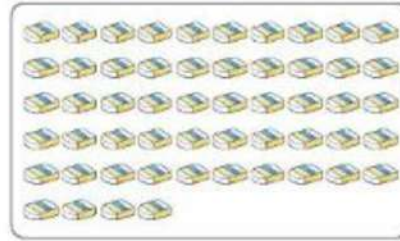

48

54

36

60

43



Tablolardaki doğal sayıların okunuşlarını yazınız.

Sayı	Okunuşu
34	
45	
58	
63	

?

Sayı	Okunuşu
75	
90	
89	
97	

?

?

?

Aşağıdaki ifadelerden doğru olanları işaretleyiniz.

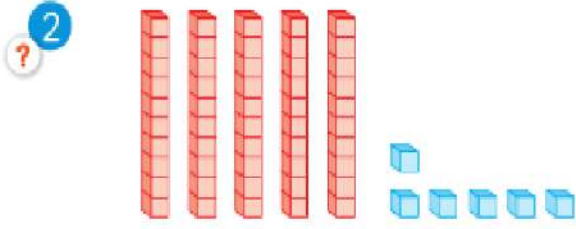
- Bütün insanlar çok güzel şiir okuyabilirler.
- Fiziksel özellikleri farklı olan kişilerle arkadaşlık kurmamalıyız.
- Farklılıklar bizi özel yapar.
- Benzerlik ve farklılıklara hoşgörülü olmalıyız.
- İnsanların yapmaktan hoşlandıkları şeyler aynıdır.

Kazanım Değerlendirme

Test 1

1 Aşağıdaki doğal sayılardan hangisi 2 onluk 6 birlikten oluşmuştur?

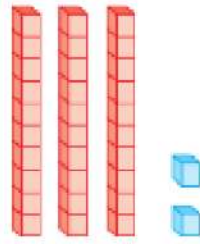
- A. 66 B. 62 C. 26



Onluk taban bloklarıyla modellenen sayının okunuşu hangisidir?

- A. elli altı
B. altmış beş
C. altmış altı

3 Yanda onluk taban bloklarıyla modellenen sayı hangisidir?




- A. 22 B. 32 C. 42

4 7 onluk 5 birlikten oluşan sayıdan **bir sonra** gelen sayı kaçtır?

- A. 74 B. 76 C. 77

5 Aşağıdaki sayıların hangisinde onlar basamağındaki rakam, birler basamağındaki rakamdan büyüktür?

- A. 45 B. 54 C. 69



Onluk taban bloklarıyla modellenen sayıdan **bir sonra** gelen sayı kaçtır?

- A. 80 B. 79 C. 78


7 87 sayısının onluk ve birlikleri hangisinde doğru gösterilmiştir?

- A. 7 onluk 8 birlik
B. 8 onluk 8 birlik
C. 8 onluk 7 birlik


8 3 onluk 4 birlikten oluşan sayıdan **bir önce** gelen sayı kaçtır?

- A. 33 B. 35 C. 37


Aşağıdaki varlıkların sayısını onluk ve birliklerine ayırınız.



__ onluk	__ birlik



__ onluk	__ birlik



__ onluk	__ birlik



__ onluk	__ birlik

Aşağıda verilen kelimeleri sözlükteki sırasına göre sıralayalım.

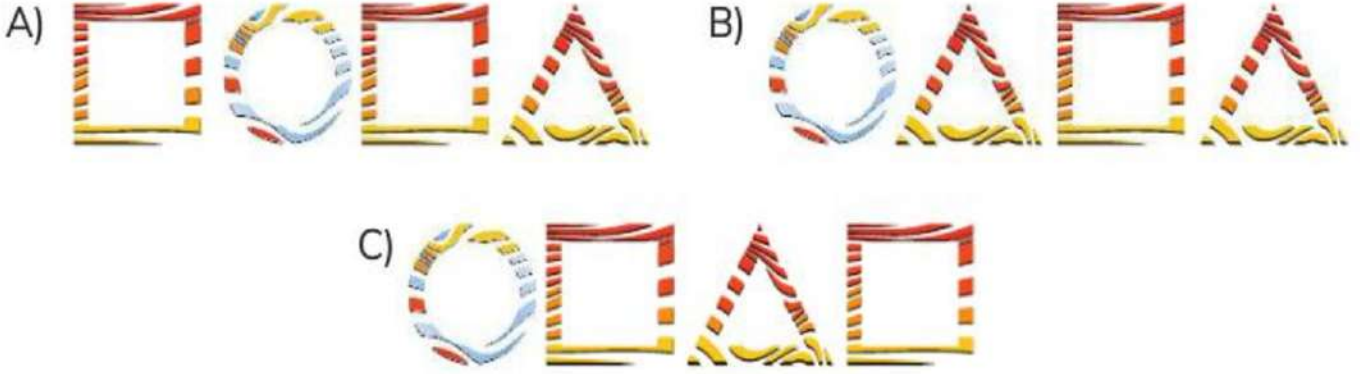
1	2	3					
1	2	3					
kedi	silgi	bardak	bardak	-	kedi	-	silgi
söğüt	lale	menekşe	?	?	?		
defter	kalem	açacak	?	?	?		
sinema	tiyatro	sirk	?	?	?		

ZEKA SORUMUZ

Aşağıda "KAYA" kelimesinin karşısına o kelimenin her harfine karşılık gelen geometrik bir şekil verilmiştir.



Buna göre "YAKA" kelimesi hangi geometrik şekiller ile yazılabilir?



HECE BİLGİSİ

A. Aşağıdaki kelimeleri örnekteki gibi hecelerine ayıralım.

kardanadam  kar - da - na - dam


şaşkın 

fular 

sehpa 


fritöz 


oyun 

elbise 

minder 

aslanagözü 

misafir 

kırkayak 

kömür 

zeytinli 


Aşağıdaki sözcükleri bulmacada bulup işaretleyelim.


GÜNAYDIN	YARDIMSEVER
GÜVENİLİR	İYİ GÜNLER
BENCİLLİK	NAZIKLIK
DÜRÜSTLÜK	İYİMSERLİK
OYUNBOZANLIK	ADİL


O	Y	U	N	B	O	Z	A	N	L	I	K
Y	A	R	D	I	M	S	E	V	E	R	L
G	Ü	V	E	N	İ	L	İ	R	N	R	S
N	A	Z	İ	K	L	İ	K	N	S	T	A
D	Ü	R	Ü	S	T	L	Ü	K	L	M	D
İ	Y	İ	M	S	E	R	L	İ	K	A	İ
B	E	N	C	İ	L	L	İ	K	Y	Y	L
D	L	M	N	S	T	K	S	K	A	R	Ş
İ	Y	İ	G	Ü	N	L	E	R	U	R	S
G	Ü	N	A	Y	D	I	N	A	K	L	Z

MINİ TEST

Aşağıdaki öğrencilerden hangisi yapmak istediklerinden söz etmiştir?

A)  Çok parçalı yap-bozlarla oynayabiliyorum.

B)  İleride başarılı bir sporcu olmak istiyorum.

C)  Sınıfta en güzel şiiri ben okudum.

Aşağıdakilerden hangisi fiziksel özellik değildir?

- A) Uzun boylu olmak
- B) Sarı, kıvrıkcık saçlı olmak
- C) Müzik dinlemekten hoşlanmak

- Başkalarının düşüncelerini sabırla dinlemek
- Görev paylaşımında adil olmak
- İş bölümü sırasında haksızlık yapmamak

Yukarıdakilerden kaçını sınıf içi etkinliklerini belirlerken yapılması gerekenlerdendir?

- A) 3
- B) 2
- C) 1

1. Ders	2. Ders	3. Ders
Hayat Bilgisi	Türkçe	Matematik
4. Ders	5. Ders	6. Ders
Matematik	Görsel Sanatlar	Serbest Etkinlikler

Ege'nin pazartesi gününe ait ders programı yukarıda verilmiştir.

Buna göre Ege, aşağıdakilerden hangisini çantasına koyarsa çantasını gereksiz ağırlaştırmış olur?

- A) 
- B) 
- C) 