

Adı:  
Soyadı:



**Türkçe**  
**3/A Sınıfı Çalışmaları**



Yüz binlerce şehit verilerek ve nice kanlar dökülerek alınan bu vatan, Türk gençliğine emanet edilmiştir. Ülkenin bütünlüğü ve bağımsızlığı tehlikeye düşerse, gençlik, içinde bulunulan durumun kötülüğüne bakmadan cumhuriyeti her türlü tehlikeye karşı koruyacaktır. Gençliğin ihtiyaç duyacağı güç kaynağı, damarlarındaki asil kan olacaktır. Türk gençliği, Ata'nın emaneti olan inkılapların yılmaz bekçileridir. Atatürk'ün ideallerinden haz ve ilham alan ve alacak olan Türk gençliği, vatanın bütünlüğü, milletin birliği için çalışacaktır.

1. Bu vatan nasıl alınmıştır?  
A. parayla  
B. şehit verilerek  
C. mirasla
2. Cumhuriyeti korumak için gençlerin ihtiyacı olan güç, aşağıdakilerden hangisidir?  
A. silah  
B. uçak  
C. damarlarındaki asil kan
3. Atatürk, Türk gençliğine aşağıdakilerden hangisini emanet etmiştir?  
A. inkılapları  
B. silahları  
C. çocukları
4. Türk gençliği, aşağıdakilerden hangisinden haz ve ilham almaktadır?  
A. Şiirlerden  
B. Atatürk'ün ideallerinden  
C. Türkiye Büyük Millet Meclisinden
5. Metnin başlığı aşağıdakilerden hangisi olamaz?  
A. Gençlik  
B. Asil Kan  
C. Atatürk'ün Hayatı

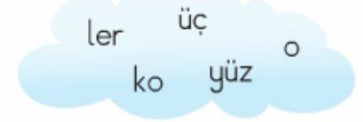
"Gelin, kat, muz, kara."

Yukarıdaki kelimelerden kaç tanesi eş seslidir?

- A. iki B. üç C. dört

"Gül," kelimesi hangi cümlede "çipek," anlamında kullanılmamıştır?

- A. Çiçekçiden bir demet gül aldım.  
B. Herkes gibi sen de gül.  
C. Bahçedeki gül solmuş.



Bulut üzerindeki kaç hecenin tek başına anlamı vardır?

- A. 5 B. 4 C. 3

Aşağıdaki özel adların hangisinin yazımında yanlışlık yapılmıştır?

- A. Türkçe  
B. Sevgi hanım  
C. Anıtkabir

Aşağıdaki kelimelerden hangisi varlığın özelliğini belirtmez?

- A. küçük  
B. yuvarlak  
C. kadar

"Okuyacak," fiilinin zamanı aşağıdakilerden hangisidir?

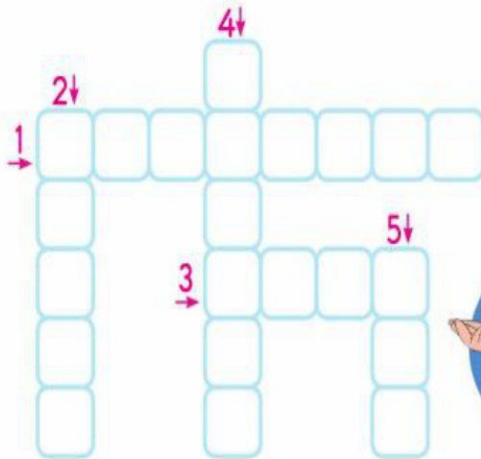
- A. gelecek zaman  
B. şimdiki zaman  
C. geçmiş zaman

Aşağıdakilerin hangisinde nokta yanlış yerde kullanılmıştır?

- A. 2.inci  
B. 23.05.2006  
C. Mah.

Aşağıdaki kelimelerin zıt anlamlarını bulalım. Bulmacayı dolduralım.

- 1 üzülmek
- 2 sıcak
- 3 uzun
- 4 güzel
- 5 tatlı



Adı:  
Soyadı:



## Matematik

### 3/A Sınıfı Çalışmaları

### Çeyrek Geçiyor

Aşağıdaki saatler "çeyrek geçeye" göre modellenmiştir. Bu saatlerin belirttiği zamanı altlarına yazınız.



Aşağıdaki saatlerin belirttiği zamanı örnekteki gibi altlarına yazınız.



3'e çeyrek var.  
2'yi 45 geçiyor.



### Öğleden Önce, Öğleden Sonra

Tablolarda modellenen saatlerin "öğleden önce" ve "öğleden sonra" kaç gösterdiğini yazınız.



|               |  |  |  |  |
|---------------|--|--|--|--|
| Öğleden önce  |  |  |  |  |
| Öğleden sonra |  |  |  |  |

A. Aşağıda verilen trafik işaret levhalarını anlamları eşleştiriniz.



Mecburi  
Bisiklet  
Yolu

Yaya  
giremez

Kontrolsüz  
demir yolu  
geçidi

Yaya  
geçidi

Okul  
geçidi

Bisiklet  
giremez

Aşağıda verilen durumlarda oluşabilecek kaza türlerini eşleştiriniz.

yaralanma

boğulma

kesik

yanma

Ayla tek başına  
derin yerde yüzüyor.

Derya merdiven-  
lerde koşuyor.

Cem mangalda  
et pişiriyor.

Ahmet bıçakla  
ekmek dilimliyor.



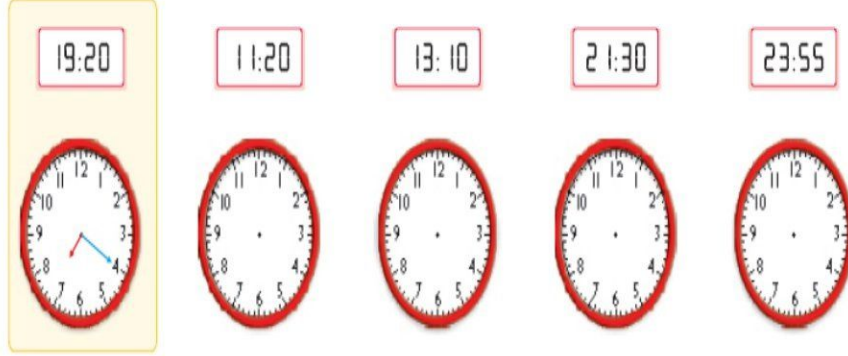
Adı:  
Soyadı:

## Matematik

**Atasözünün Anlamını Öğren**  
**Bugünün işini yarına bırakma !!!**

### Saat Kaç?

Verilen saatlere göre modellerdeki saatlerin akrep ve yelkovanını örnekteki gibi çiziniz.



Aşağıdaki ses ve ışık kaynaklarını özellikleriyle eşleştirelim.

|           |           |            |            |
|-----------|-----------|------------|------------|
| Kuş       | Ampul     | Güneş      | Davul      |
| Doğal ses | Yapay ses | Doğal ışık | Yapay ışık |

Aşağıdaki canlılarla özelliklerini eşleştiriniz.

|                                      |   |                                    |
|--------------------------------------|---|------------------------------------|
| Yumurtlayarak çoğalır.               |  | Boşaltım yapar.                    |
| Doğurarak çoğalır.                   |  | Kendisine benzer canlılar doğurur. |
| Terleme yoluyla boşaltım yapar.      |  | Nefes alıp verirler.               |
| Dışarıdan gelen seslere tepki verir. |  | Beslenirler.                       |
| Belli bir yaşa ulaşınca ölür.        |  | Kendi besinlerini üretirler.       |

Aşağıdaki ifadelerin doğru ve yanlışlık olma durumlarına göre uygun kutuyu işaretleyiniz.

| Cümle   | Doğru                    | Yanlış                   |
|---|--------------------------|--------------------------|
| Tanımadığımız kişilere güvenebiliriz.                                     | <input type="checkbox"/> | <input type="checkbox"/> |
| Okulumuzda acil bir durum olduğunda acil çıkış planına uymalıyız.         | <input type="checkbox"/> | <input type="checkbox"/> |
| Bizi tehdit eden birisini kimseye söylememeliyiz.                         | <input type="checkbox"/> | <input type="checkbox"/> |
| Okul gezisinde grubumuzdan ayrılmamalıyız.                                | <input type="checkbox"/> | <input type="checkbox"/> |
| Birisi bizi takip ederse en yakın güvenli alana kaçmalıyız.               | <input type="checkbox"/> | <input type="checkbox"/> |
| Deprem sırasında çök, kapan, tutun pozisyonuna geçmeliyiz.                | <input type="checkbox"/> | <input type="checkbox"/> |
| Yollar, oyun oynayabileceğimiz alanlardır.                                | <input type="checkbox"/> | <input type="checkbox"/> |
| Oyun alanlarında sağlığımızı tehlikeye atacak hareketlerden kaçınmalıyız. | <input type="checkbox"/> | <input type="checkbox"/> |
| Bisiklet sürerken kask takmamıza gerek yoktur.                            | <input type="checkbox"/> | <input type="checkbox"/> |
| Parklar sadece erkek çocuklar içindir.                                    | <input type="checkbox"/> | <input type="checkbox"/> |

Adı:  
Soyadı:

## Matematik

Anlamını Öğren

Bugünün işini yarına bırakma

→ Aşağıdaki süreleri örnekteki gibi zihinden hesaplayıp dakika cinsinden yazalım.

1 1 saat + 45 dakika = 60 dakika + 45 dakika = 105 dakika

2 4 saat + 15 dakika = ..... dakika + ..... dakika = ..... dakika

3 5 saat + 30 dakika = ..... dakika + ..... dakika = ..... dakika

4 3 saat + 50 dakika = ..... dakika + ..... dakika = ..... dakika

5 4 saat + 10 dakika = ..... dakika + ..... dakika = ..... dakika

6 2 saat + 5 dakika = ..... dakika + ..... dakika = ..... dakika

→ Aşağıda okunuşları verilen saatleri çizelim.



A 22.45



B 10.30



C 07.15



D 17.30



E 21.00

## ÖLÇME

## Zamanı Ölçme

1 2 gün kaç saattir?



2 Bir hafta bir gün kaç saattir?

3 7 hafta 4 gün kaç gündür?



4 Üç buçuk saat kaç dakikadır?

5 Sekiz saatin içinde kaç yarım saat vardır?



6 10 çeyrek saat kaç dakika eder?

## PROBLEMLER

1 Alp, 6 dakikada 4 problem çözebilmektedir. Alp, 20 problemi kaç dakikada çözer?

2 3 çeyrek saat ve 15 dakika toplam kaç saattir?

3 Günde üç çeyrek saat kitap okuyan bir kişi, haftada ne kadar süre kitap okumuş olur?

4 Bülent, dişlerini 2 dakikada fırçalamaktadır. Bülent, günde 3 kere dişlerini fırçaladığına göre bir haftada dişlerini fırçalamak için kaç dakika zaman ayırır?

5 Yarım saatte 40 kilometre giden bir otobüs, 9 çeyrek saatte kaç kilometre gider?

6 Engin, 2 çeyrek saat futbol oynadı. Kaç dakika daha futbol oynasaydı, 1 saat futbol oynamış olurdu?