

Adı:  
Soyadı:



3/A Çalışma Kağıdı

Tarih  
...../...../2023

## MINİK KUŞ

Güzel bir yaz mevsiminin ardından sonbahar gelmiş. Havalar serinlemiş, yağmurlar başlamış.

Kış mevsimi gelmeden yola çıkmak için kuşlar göç hazırlıklarına başlamışlar. Yuva yaptıkları ağaçlarla vedalaşmışlar. Gitme saati geldiğinde bakmışlar ki kuşlardan biri ortalıkta yok.

Öğrenmişler ki bu minik kuşmuş. Kanadı kırıldığı için ormanda kalacaktı. Arkadaşları çıkmışlar yola. Minik kuş öyle üzülmüş ki bu ayrılığa, göz yaşları hiç dinmemiş. Soğuk kış mevsimi gelmeden kendine bir yer bulmalıymış. Aklına meşe ağacı gelmiş. Varmış meşe ağacına:

- Meşe kardeş , kış mevsimi geçene kadar dallarının arasında kalmama izin verir misin?

Meşe oralı olmamış.

- Sen benim güzel palamutlarımı yersin, deyip savmış başından.

İlk 3 soruyu metne göre cevaplayınız.

1. Metinde olayın geçtiği mevsim aşağıdakilerden hangisidir?

- A.yaz
- B. ilkbahar
- C.sonbahar

2. Kuşların göç hazırlıklarına başlamasının sebebi hangisidir?

- A.Yaz mevsiminin başlaması
- B. Kış mevsiminin yaklaşması
- C.Sonbahar mevsiminin yaklaşması

3. Minik kuşun üzülmesinin sebebi aşağıdakilerden hangisidir?

- A.Meşe ağacının ona yardımcı olmaması
- B. Kanadının kırılması
- C.Arkadaşlarından ayrılması

Ali çözümü olanaksız bir soru sordu ama Ayhan .....

4. Yukarıdaki cümlede altı çizili kelimenin eş anlamlısı hangisidir?

- A.mümkün
- B. imkansız
- C.zor

5. Yukarıdaki cümlenin aşağıdakilerden hangisiyle devam ettirilmesi doğru olur?

- A.bu soruyu çözemedi.
- B. bu soruyu çözdü.
- C.bu soruyu çok beğendi.

Aşağıdaki resimlerle çağrıştırdığı kelimeleri eşleştirelim.



- ◇ otomobil
- ◇ sandalye
- ◇ makas



- ◇ banka
- ◇ deniz
- ◇ pilot



- ◇ kümes
- ◇ orman
- ◇ deniz



- ◇ yarışma
- ◇ sınav
- ◇ durak



- ◇ uydu
- ◇ gezegen
- ◇ yıldız



- ◇ inek
- ◇ lokanta
- ◇ kahvaltı

### Ünlem İşaretinin Anlamı

Cümleler	Sevinç	Şaşma	Korku	Seslenme
Ne mutlu sana!	?			
Yaşasın, denize gidiyoruz!	?			
Yok artık! Yine mi geç kaldı?	?			
Hey! Buraya gelir misin?	?			
Herkese iyi akşamlar!	?			
Eyvah, ödevimi evde unuttum!	?			
Oley, sınavdan yüksek aldım!	?			
Ayşe! Haydi, parka gidelim!	?			
Aa! Biraz önce buradaydı!	?			

Aşağıdaki sözcüklerin satır sonuna sığmadıklarında kısa çizgi ile nasıl bölüneceklerini altlarına yazalım.

yarışma	karanlık	samanyolu	deneyim
.....	.....	.....	.....
.....	.....	.....	.....

## Eldeli Çarpma İşlemi Yapalım

$$\begin{array}{r} ? \\ 43 \\ \times 7 \\ \hline \end{array}$$

$$\begin{array}{r} ? \\ 47 \\ \times 5 \\ \hline \end{array}$$

$$\begin{array}{r} ? \\ 69 \\ \times 7 \\ \hline \end{array}$$

$$\begin{array}{r} ? \\ 54 \\ \times 7 \\ \hline \end{array}$$

$$\begin{array}{r} 25 \\ \times 13 \\ \hline \end{array}$$

$$\begin{array}{r} 42 \\ \times 12 \\ \hline \end{array}$$

$$\begin{array}{r} 34 \\ \times 21 \\ \hline \end{array}$$

$$\begin{array}{r} 13 \\ \times 14 \\ \hline \end{array}$$

$$\begin{array}{r} + \\ \hline ? \\ \hline \end{array}$$

$$\begin{array}{r} + \\ \hline ? \\ \hline \end{array}$$

$$\begin{array}{r} + \\ \hline ? \\ \hline \end{array}$$

$$\begin{array}{r} + \\ \hline ? \\ \hline \end{array}$$

$$\begin{array}{r} 62 \\ \times 16 \\ \hline \end{array}$$

$$\begin{array}{r} 48 \\ \times 18 \\ \hline \end{array}$$

$$\begin{array}{r} 54 \\ \times 17 \\ \hline \end{array}$$

$$\begin{array}{r} 21 \\ \times 26 \\ \hline \end{array}$$

$$\begin{array}{r} + \\ \hline ? \\ \hline \end{array}$$

$$\begin{array}{r} + \\ \hline ? \\ \hline \end{array}$$

$$\begin{array}{r} + \\ \hline ? \\ \hline \end{array}$$

$$\begin{array}{r} + \\ \hline ? \\ \hline \end{array}$$

$$\begin{array}{r} ? \\ \hline \end{array}$$

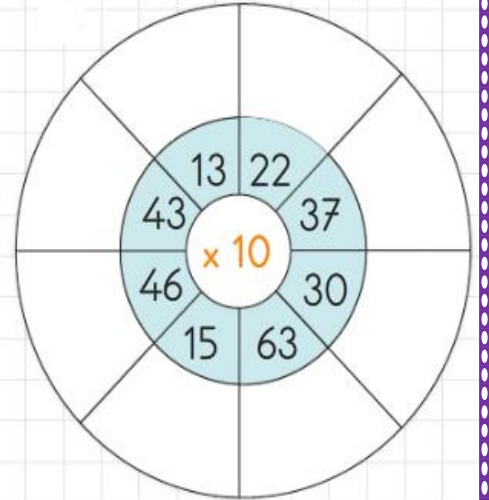
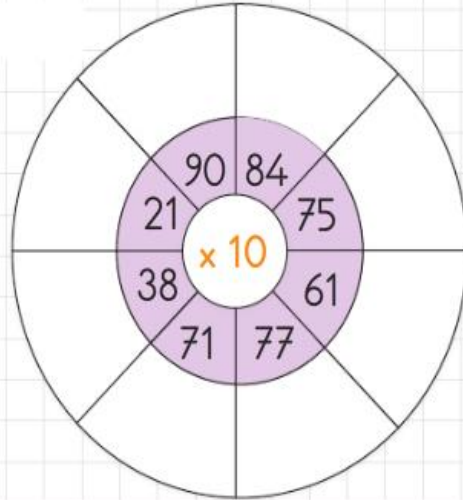
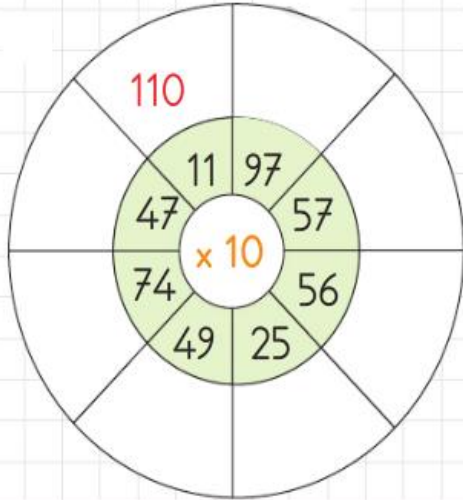
$$\begin{array}{r} ? \\ \hline \end{array}$$

$$\begin{array}{r} ? \\ \hline \end{array}$$

$$\begin{array}{r} ? \\ \hline \end{array}$$

## KISA YOLDAN ÇARPMA İŞLEMİ

Aşağıda verilen çarklardaki sayılar ile çarkın ortasındaki sayıyı kısa yoldan örnekteki gibi çarpalım.



28		?
16	$\times 10$	?
51		?

26		?
66	$\times 10$	?
32		?

38		?
54	$\times 10$	?
48		?

1. Bir okulun kantininde 13 masa ve 42 sandalye vardır. Kantindeki masa ve sandalyelerin ayak sayılarının toplamı kaçtır?

2. Okan, 7 ay boyunca ayda 115 TL para biriktirmiştir. Biriktirdiği paranın 525 TL'si ile kendisine tablet almıştır. Buna göre geriye kaç TL'si kalmıştır?

3. Hasan dakikada 127, Levent ise 78 sözcük okumaktadır. 4 dakika sonra her iki arkadaşın okuduğu sözcükler arasındaki fark kaçtır?

4. Bir otoparkta 48 otomobil, 18 kamyonet vardır. Bir otomobilin 4, bir kamyonetin 6 tekerleği olduğuna göre otoparktaki araçların tekerlek sayıları toplamı kaçtır?

5. Bir öğrenci servisi, beş günde toplam 875 TL tutarında benzin almıştır. Servis dört gün boyunca her gün 185 TL'lik benzin aldığına göre beşinci günde kaç TL tutarında benzin almıştır?

6. Bir depodaki kolileri beş işçi kamyonla yüklemektedir. Her biri 112 koli taşımış ve kamyonunda toplam 800 koli olmuştur. Buna göre işçiler, kolileri taşımadan önce kamyonunda kaç koli vardı?

7. 84 yolcusu olan bir tren Ankara'dan İzmir'e hareket etmiştir. Uğradığı 6 tren garının her birinden 38 yolcu almış ve İzmir'e ulaşmıştır. Tren İzmir'e ulaştığında toplam kaç yolcusu bulunmaktadır?

8. Sınava hazırlanan Gaye, 13 gün boyunca her gün 58 soru çözmüştür. Test kitabında 800 soru olduğuna göre Gaye'nin kitabı bitirmesi için çözmesi gereken kaç soru kalmıştır?

## Planlı Olmanın Faydaları

## 2. Ünite

Aşağıdakilerden hangisi planlı olmanın yaşantımıza olumlu etkilerindedir? İşaretleyelim.

Başarımız artar.



Dinlenemeyiz.



Sağlıklı oluruz.



Huzurlu oluruz.



Telaşlı oluruz.



Enerjik oluruz.



Oyun için zamanımız olur.



Uykusuz oluruz.



Sinirli oluruz.



Aşağıda verilen ifadelerden doğru olanları "✓", yanlış olanları "x" ile işaretleyelim.



Planlı olmak beni daha sağlıklı ve huzurlu yapar.



Oyun oynamak istiyorsam planıma sadık kalmalıyım.



Plan yapmak zaman kaybına neden olur.



Plan yaparsam dinlenmeye de zamanım kalır.



Planlı olursam derslerdeki başarım artar.



Planlı olursam ödevlerim için zamanım kalmaz.




Arda ve annesi, Arda'nın zamanını daha dikkatli ve özenli kullanabilmesi için ona günlük plan yaptılar. Plana göre Arda, 22.00'de uyumalıydı. Ama Arda, belirledikleri saatte uyumadı. Geç yattı. Uyumadan önce çantasını hazırlaması gerekirken çantasını hazırlamadı. Sabah okula geç kaldı. Üstelik geç yattığı için başı çok ağrıyordu. Sınıfa girdiğinde arkadaşları, akşam hazırladıkları proje ödevlerini sergiliyorlardı. Arda, plandaki ödev saatinde oyun oynamıştı. Bu yüzden proje ödevini tamamlayamamıştı. Okulda öğretmeninden, evde annesinden özür diledi. O günden sonra her gün yaptığı plana uydu. Mutlu ve sağlıklı bir çocuk oldu.



Aşağıdaki soruları metne göre cevaplayalım.

Arda'nın hatası nedir?

Sizce planlı olmak size ne kazandırır?



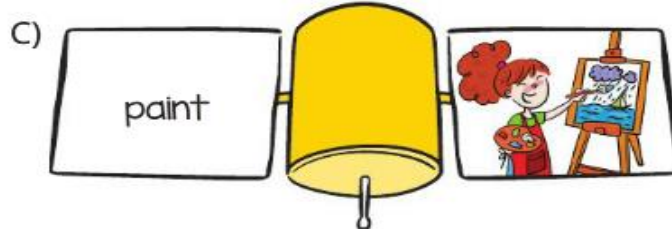
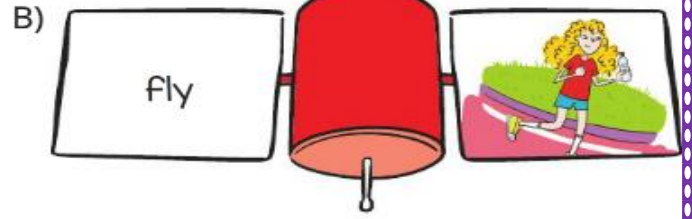
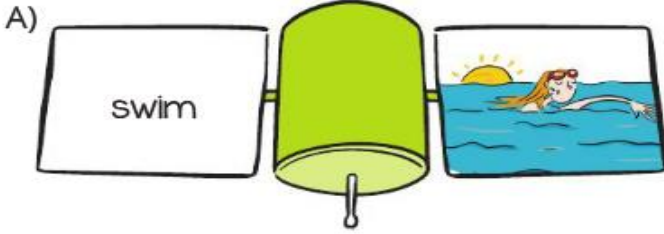
Örüntüyü **bozan** görselin ifade ettiği kelime hangisidir?

A) small

B) strong

C) big

Aşağıdaki eşleştirmelerden hangisi **yanlıştır**?



Tırtıl hangi yaprakları yediğinde duygularını söylemiş olur?



Ayının yediği ballar bizi hangi görsele götürür?

