



1)



Nuray, pasta yapmak için bir malzeme listesi hazırlıyor. Bu malzemeleri alfabetik sıraya göre kâğıda yazıyor.

Hangisi bu kâğıtta en sonda yazar?

- a) yağ b) süt c) yumurta

2) Aşağıdaki cümlelerin hangisinde gereksiz bir kelime kullanılmıştır?

- a) Dün Leyla'yla ile oyun oynadık.
b) Gözlüğünü evde mi unuttun?
c) Koyunlar ülkesinde yaşayan bir çoban varmış



3) "Yel" kelimesinin eş anlamlısı kaç numaralı zarftadır?

- a) 1 b) 2 c) 3

4) Hangi cümlede bir yazım yanlışı vardır?

- a) Canım ülkem Türkiyem !
b) Dün Antalya'da mıydın?
c) İstiklâl Marşı töreni ne zaman?

5) Hangi cümlede nokta işareti diğerlerinden farklı bir görevde kullanılmıştır?

- a) Saat 12.00 'de orada olacak mısın?
b) Bayramın 1. günü bize gelecek misin?
c) Tuğba 5. katta mı oturuyor?

6) Aşağıdakilerden hangisi karşıdan karşıya geçerken kullandığımız güvenli yollardan biri değildir?

- a) Yaya geçidi
b) Alt geçit
c) En kalabalık yol

7) Dayısı, 2.sınıfa giden Yağız'ı arabası ile okula bırakacak. Buna göre Yağız'ın, arabadaki davranışı nasıl olmalıdır?

- a) Arka koltuğa oturmalıdır.
b) Ön koltuğa oturmalıdır.
c) Arka koltuğa oturup emniyet kemeri takmalıdır.

8) Hangisi yolculuk sırasında yapılması doğru bir davranıştır?

- a) Araca sırayla binmeliyiz.
b) Ayakta yolculuk yapmamalıyız.
c) Trafik ışıklarındaki renklerin anlamını öğrenmeliyiz.

9)



- a) slide b) walk c) jump

10)

.....


Thank you.

- a) You're welcome
b) I'm sorry.
c) Thanks.





11)



Emre'nin ifade ettiği çarpma işlemi hangisidir?


- a) $3 + 5$
b) 3×5
c) $5 - 3$



12) Yukarıda modellenen çarpma işlemi hangisidir?


- a) 4×3 b) 3×4 c) $4 + 3$

13)



Görseldeki tavukların ayak sayılarını ifade eden işlem hangisidir?

- a) 6×4
b) 2×4
c) 6×2



Hasan



Hale



Hakan

14) Hangi iki öğrencinin işlem sonucu birbirine eşittir?

- a) Hasan - Hakan
b) Hale - Hakan
c) Hasan - Hale

$$6 \times 4 = 4 \times \star$$

15) Yukarıdaki eşitlikte \star yerine hangi sayı yazılmalıdır?

- a) 6 b) 10 c) 14

$$5 \times 5 = 25$$

$$8 \times 1 = 9$$

$$6 \times 2 = 12$$

16) Yukarıda verilen işlemlerden kaç tanesi doğrudur?

- a) 1 b) 2 c) 3

17) Çarpma işlemine ait terimlerin ismi, yukarıdan aşağıya doğru hangi seçenekte verilmiştir?

$$\begin{array}{r} 4 \longrightarrow \dots\dots\dots \\ \times 2 \longrightarrow \dots\dots\dots \\ \hline 8 \longrightarrow \dots\dots\dots \end{array}$$

- a) çarpan - çarpan - çarpım
b) çarpan - çarpım - çarpım
c) çarpım - çarpım - çarpan

18) Her gün 2 saat basketbol oynayan Alper, bir haftada kaç saat basketbol oynar?

- a) 10 b) 14 c) 16



19) Hangisi simetrik bir sayıdır?

- a) 0 b) 9 c) 1



20) En fazla köşe sayısına sahip nesne hangisidir?

- a) kalemlik b) top c) zar