


Adım Soyadım: \_\_\_\_\_



2. SINIF / MİNİ DENEME SINAVI - 17




van gölünü gördün mü?

1) Yukarıdaki cümledeki yazım hatalarını düzelttiğimizde doğru cümle hangisi olur?

- a) Van gölünü gördün mü?
- b) Van Gölü'nü gördün mü?
- c) Van Gölünü gördün mü?

2) Aslında bilirsin beni.  
Tüm işaretlerin en güzeli.  
Biri sorarsa sana,  
Bu şekeri kim yedi?  
Tanımaz mısın,  
Cümle sonunda beni?

Yukarıdaki şiir hangi noktalama işaretine aittir?


- a)  (kesme işareti)
- b)  (soru işareti)
- c)  (nokta)

3) Aşağıdakilerden hangisi hikâyede kahraman olamaz?

- a) Tuğçe
- b) Ecrin
- c) Okul

4) Hangi kelimenin zıt anlam-  
lısı tahtada yoktur?

- a) kuru
- b) üst
- c) dolu



...?..... do-

5) Satır sonuna sığmayan bu kelime hangisi olamaz?

- a) dolap
- b) domates
- c) dondurma

Uçak kullanan kişiye ▲, tren kullanan kişiye ●, tramvay kullanan kişiye ■ denir.

6) Şekillerle gösterilen yerlere hangi kelimeler yazılmalıdır?

- |    |       |          |          |
|----|-------|----------|----------|
|    | ▲     | ●        | ■        |
| a) | pilot | makinist | kaptan   |
| b) | pilot | kaptan   | makinist |
| c) | pilot | makinist | vatman   |

7) Hangi seçenekteki araçların tamamı deniz yolu taşıtıdır?

- a) Feribot, şilep, sandal
- b) Gemi, tramvay, deniz otobüsü
- c) Vapur, metro, tren

8) Aşağıdakilerden hangisi doğru bir bilgidir?

- a) Bir yerden başka bir yere gitmeye ulaşım denir.
- b) Otobüs demir yolu taşıtıdır.
- c) Ulaşım amacıyla kullandığımız araçlara yolcu denir.

9) It is a.....




- a) purple eraser.
- b) pink pencil.
- c) yellow ruler.


10)



- a) play tennis
- b) walk
- c) sing




11) 9 rakamının simetri eksenine göre simetriği hangisidir?



12) Dikdörtgen şeklindeki bahçenin kısa kenarına 15; uzun kenarına 30 gül fidanı dikildi. Buna göre bahçeye kaç gül fidanı dikilmiştir?

a) 45 b) 60 c) 90

13)



Yukarıdaki şekle göre verilen bilgilerden hangisi doğrudur?

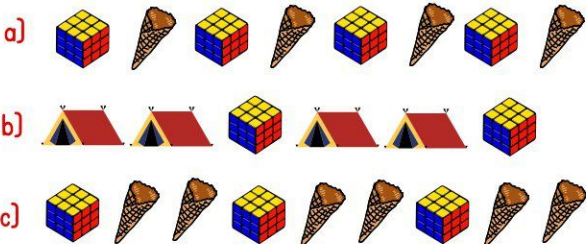
- a) Üçgen dairenin içinde dikdörtgenin dışındadır.  
b) Dikdörtgen dairenin içinde üçgenin dışındadır.  
c) Dairenin içinde üçgen ve kare vardır.

14) Taner sınıf listesinde baştan 4. sondan 18. sıradadır. Buna göre sınıf mevcudu kaçtır?

- a) 21 b) 22 c) 23



15) Hangi örüntünün kuralı, yukarıdaki örüntünün kuralı ile aynıdır?



$$45 + \dots = 90 - 21$$




16) Yukarıdaki eşitlikte ..... yere hangi sayı yazılmalıdır?

- a) 45 b) 69 c) 24

17) Hangisi simetrik bir harf değildir?



18) Yandaki şekli çizmek için hangi geometrik cisim kullanabilirim?



	A	

19. ve 20 soruları yukarıdaki tabloya göre cevaplayınız.

19) A noktasından başlayıp 1 kutu sağa, ardından 1 kutu yukarı gidersek hangi şekle ulaşırız?



20) A noktasından başlayıp 1 kutu sola, ardından 2 kutu aşağı gidersek hangi şekle ulaşırız?

