








- 1 Her sabah 5 yumurta yiyen bir aile, 6 günde toplam kaç yumurta yer?



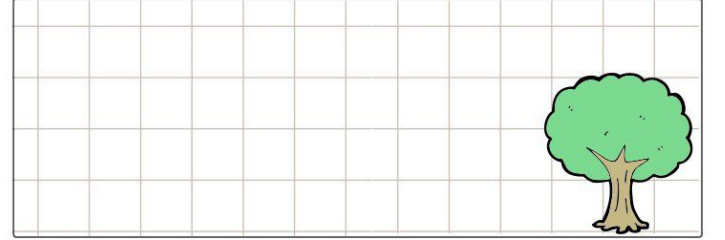
- 5 Dedemin ineği günde 2 litre süt veriyor. 10 günde toplam kaç litre süt verir?




- 2 Annem bana her gün 10 lira harçlık verir. Bir hafta boyunca harçlıklarımı biriktirdim. Toplam kaç TL param oldu?




- 6 Bahçemizde 7 tane kayısı ağacı var. Her kayısı ağacından dörder tane kayısı topladım. Toplam kaç kayısı topladım?



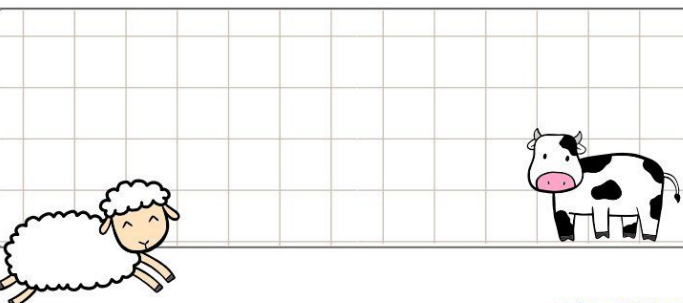
- 3 Bir bebek her gün 5 biberon süt içiyor. Buna göre bir haftada kaç biberon süt içer?




- 7 Doktor Murat bir saatte 5 hasta muayene ediyor. Buna göre 5 saatte kaç hasta muayene eder?



- 4 Bir çiftlikte 3 inek, 3 koyun vardır. Bu çiftlikteki hayvanların toplam kaç ayağı vardır?

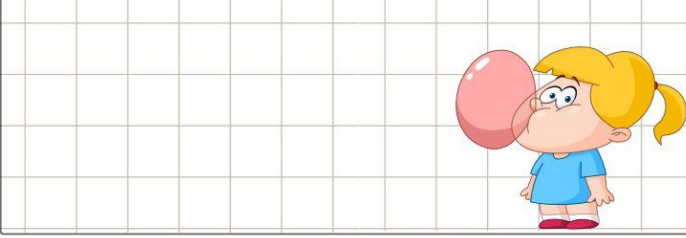


- 8 9 katlı bir apartmanın her katında 3 daire vardır. Apartmanda toplam kaç daire vardır?







- 1 Sakız çiğnemeyi seven Fatma , marketten bir paket sakız almıştır. Her pakette 8 tane sakız olduğuna göre, Fatma kaç tane sakız almıştır?



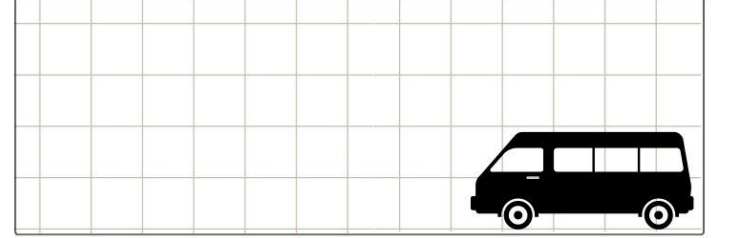
- 5 Aşelerin kümesinde 6 tavuk vardır. Bu kümesteki tavukların ayak sayıları toplamı kaçtır?




- 2 Günde 10 sayfa kitap okuyan Canan bir haftada okuduğu sayfa sayısını bir kâğıda yazıyor. Bu sayının birler basamağındaki rakamı yazmayı unutuyor. Buna göre kâğıtta yazan sayı kaçtır?




- 6 Bir minibüste 8 koltuk vardır. Her koltukta 2 yolcu oturuyor. Buna göre minibüsteki toplam yolcu sayısı kaçtır?




- 3 Nehir bir kutudaki balonlardan 6 arkadaşına üçer tane veriyor. Kutuda kalan 2 balonu da kendisi alıyor. Buna göre başlangıçta kutuda kaç tane balon vardı?




- 7 Bir manavda içinde onar tane havuç bulunan paketlerden bir deste satılıyor. Buna göre satılan toplam havuç sayısı kaçtır?



- 4 Ömer babasının yaşını bulmak için kendi yaşıyla 5'i çarpıyor ve çıkan sayıya bir onluk ekliyor. Ömer 7 yaşında olduğuna göre babası kaç yaşındadır?



- 8 Feyza 6 yaşındadır. Annesinin yaşı, Feyza'nın yaşının 3 katından 15 fazladır. Feyza'nın annesi kaç yaşındadır?









1 Oğuz Bey günde 5 bardak çay içiyor. Buna göre bir haftada kaç bardak çay içer?

- a) 35                      b) 25                      c) 15




2 Bir büfeye sabah 8 kasa ekmek geldi. Her kasada 10 ekmek vardır. Ekmeklerin 40 tanesi satıldığına göre geriye kaç ekmek kalmıştır?

- a) 40                      b) 50                      c) 60

3 Bahçemizde 2 tane kümes var. Her kümeste 6 tavuk yaşıyor. Tavukların toplam sayısının 18 olması için kaç tavuk daha almak gerekir?

- a) 4                      b) 6                      c) 8



4 Bir çiftlikte 10 inek, 8 koyun vardır. Bu çiftlikteki hayvanların toplam kaç ayağı vardır?

- a) 32                      b) 40                      c) 72



5 Ali manavdan kilogramı 4 lira olan limonlardan 5 kilo, kilogramı 5 lira olan domateslerden 3 kilo almıştır. Ali manava kaç lira ödemelidir?

- a) 15                      b) 20                      c) 35

6 Uğur tanesi 5 lira olan simitlerden 5 tane aldı. Simitçiye 40 lira veren Uğur kaç lira para üstü alır?

- a) 25                      b) 15                      c) 5



7 Evimizde 6 tane yumurta vardı. Annem her birinde 10 yumurta bulunan 2 kutu yumurta daha aldı. Buna göre evimizde toplam kaç yumurta olmuştur?

- a) 16                      b) 20                      c) 26

8 Nihal 6 yaşındadır. Babasının yaşı ise Nihal'in yaşının 4 katından 8 fazladır. Babası, Nihal'den kaç yaş büyüktür?

- a) 24                      b) 26                      c) 32

