


## 2.SINIF KESİR PROBLEMLERİ

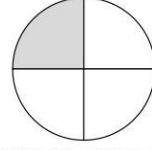
- Aşağıdaki soruları örnekteki gibi cevaplayalım.

10 sayısının yarısı kaçtır?



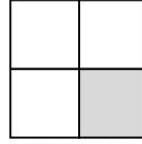
$$10 \div 2 = 5$$

4 sayısının çeyreği kaçtır?




$$\dots \div \dots = \dots$$

12 sayısının çeyreği kaçtır?



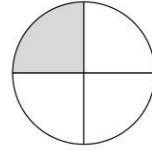
$$\dots \div \dots = \dots$$

18 sayısının yarısı kaçtır?



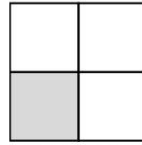
$$\dots \div \dots = \dots$$

20 sayısının çeyreği kaçtır?



$$\dots \div \dots = \dots$$

24 sayısının çeyreği kaçtır?



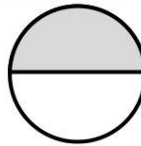
$$\dots \div \dots = \dots$$

20 sayısının yarısı kaçtır?



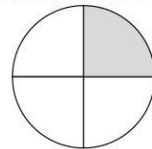
$$\dots \div \dots = \dots$$

16 sayısının yarısı kaçtır?



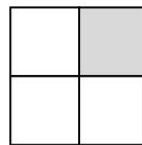
$$\dots \div \dots = \dots$$

16 sayısının çeyreği kaçtır?



$$\dots \div \dots = \dots$$

28 sayısının çeyreği kaçtır?



$$\dots \div \dots = \dots$$