

1) Nilay, bahçede yavaş yavaş yürüyordu.

Yukarıdaki cümlede hangi sorunun cevabını bulamayız?

- a) Kim?
- b) Niçin?
- c) Nasıl?

6) 1.Kendi tabağımızdan yemeliyiz.

2.Ağzımızı kapatarak yemek yemeliyiz.

3.Sofraya herkesle beraber oturmalıyız.

Yukarıda verilenlerden hangileri sofrada uyumamız gereken görgü kurallarındandır?

- a) 1 - 2
- b) 2 - 3
- c) 1 -2- 3

2) Aşağıdaki cümlelerden hangisi soru cümlesidir?

- a) Akşam yemeğinde köfte yedim
- b) Akşam yemeğinde köfte mi yedin
- c) Akşam yemeğinde köfte yemedim

7) Yandaki öğün listesini hazırlayan

Melike, daha çok hangi besin grubundan yararlanmışır?

- a) Bitkisel besinler
- b) Hayvansal besinler
- c) Sağlıksız besinler

ÖĞÜN LİSTEM	
• Bal	• Salatalık
• Peynir	• Tavuk
• Süt	• Ekmek

3)



Yukarıdaki gibi görseli olan bir metnin konusu ne olabilir?

- a) Dostluk
- b) Aile sevgisi
- c) Doğa sevgisi

8) Hangi seçenekte kişisel bakımımızla ilgili bir durumdan bahsedilmemiştir ?

- a) Oyuncaklarımızı toplamak.
- b) Tırnaklarımızı kesmek.
- c) Banyo yapmak.

4) 'Damla' kelimesi hangi cümlede özel isim olarak kullanılmıştır?

- a) Damla, bu sabah çok geç uyandı.
- b) Musluktan su damlıyordu.
- c) Damlaya damlaya göl olur.

9) Close the

- a) door
- b) cake
- c) window

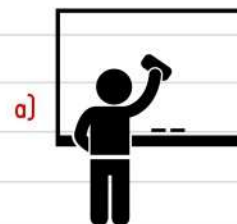


Seviyorsan canını
Vücuduna iyi bak
Kuvvetlendir kanını
İstersen çok yaşamak.

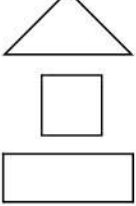
5) Yukarıdaki şiirin konusu ne olabilir?

- a) Sağlık
- b) Sevgi
- c) Saygı

10) Clean the board, please.

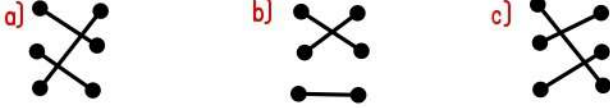




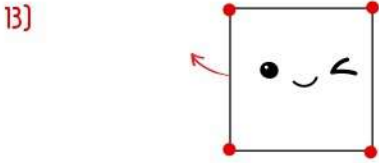
- 11)  • • Kare
• • Üçgen
• • Dikdörtgen

Yukarıdaki geometrik şekiller kendi adlarıyla eşleştiriliyor.

Doğru eşleştirme sonucu ortaya çıkan şekil nasıl olmalıdır?



- 12) Hangi sayı 55'ten büyük 64'ten küçüktür?
a) 66 b) 54 c) 61



Bu şekil ile ilgili aşağıdaki ifadelerden hangisi yanlıştır?

- a) ● ile gösterilen yere 'köşe' denir.
b) Tüm kenarları birbirine eşittir.
c) ← ile gösterilen yere 'yüzey' denir.

- 14) Ahırımızda bulunan 2 ineğin her biri günde birer kova süt veriyor. Buna göre ineklerimiz bir haftada toplam kaç kova süt verir?

- a) 14 b) 10 c) 7

15)
$$\begin{array}{r} 53 \\ - 19 \\ \hline \end{array}$$

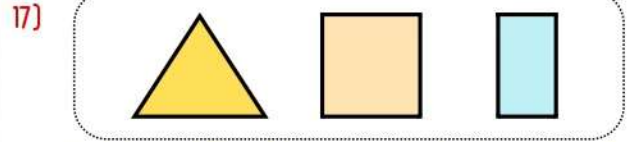
$$\begin{array}{r} ? \\ + 12 \\ \hline \end{array}$$

Yukarıdaki işlemde ? yerine ne yazılmalıdır?

- a) 34 b) 22 c) 15

- 16) Üç deste gül ve bir düzine lalenin olduğu sepete 13 tane de papatya eklenmiştir. Buna göre sepetteki çiçek sayısı kaçtır?

- a) 30 b) 44 c) 55



Yandaki şekillerin köşe sayıları toplamı kaçtır?

- a) 10 b) 11 c) 12

18)



Benim yaşım alfabemizdeki harf sayısından 8 eksiktir.


Buna göre Yusuf kaç yaşındadır?

- a) 21 b) 22 c) 23

- 19) Aşağıdaki eşitliklerden hangisi yanlıştır?

- a) $44 + 36 = 90 - 10$
b) $8 + 7 = 30 - 15$
c) $57 - 17 = 50 - 20$

20)



Yandaki havuzu, aşağıdaki kaplardan hangisini kullanarak daha kısa sürede doldurabiliriz?

