

Adım Soyadım: _____



2. SINIF / MİNİ DENEME SINAVI - 16

1) Aşağıdaki kelimelerden hangisi "kitaplık" kelimesi ile aynı hece sayısına sahiptir?

- a) tren
- b) trafik
- c) kulaklık

2) Özel isimler dostumdur benim,
Bir ek yanaşmak isterse,
Ben araya girerim.

Yukarıdaki şiir hangi noktalama işaretine aittir?

- a) ' (kesme işareti)
- b) ? (soru işareti)
- c) . (nokta)

3) Ne zaman yemek yedin?

Yukarıdaki soruya hangi seçenekteki cevabı doğru kabul ederiz?

- a) Evde yemek yedim.
- b) Akşam yemek yedim.
- c) Hızlı hızlı yemek yedim.

4) Manavdan iki kilo  aldık.

Cümledeki görselin adının doğru yazılışı hangisidir?

- a) sovan
- b) sogan
- c) soğan

5) Aşağıdaki olaylardan hangisi diğerlerinden daha önce olmuştur?


- a) Eve gelirken marketten üç ekmek aldı.
- b) Tostunu afiyetle yedi.
- c) Bir tane sucuklu tost yapmaya başladı.

6) Doktorlara yardımcı olur. Ateş ölçme, iğne yapma, yaralara pansuman yapma gibi görevleri vardır.

Yukarıda görev tanımı verilen sağlık çalışanı kimdir?

- a) Eczacı
- b) Hemşire
- c) Sekreter

7) Hangisi kahvaltı için uygun bir menü değildir?



8) Aşağıdakilerden hangisi doğru bir bilgi değildir?

- a) Sınıfımızı her teneffüs havalandırmalıyız.
- b) Çöpü istediğimiz yere atabiliriz.
- c) Atık maddeleri geri dönüşüm kutusuna atmamız.

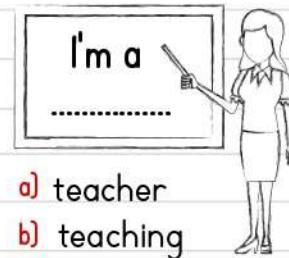
9)



$$6 + 5 = ?$$

- a) ten
- b) seven
- c) eleven

10)

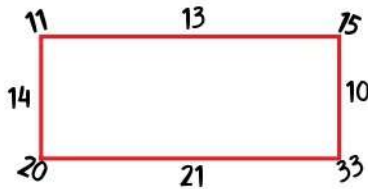



- a) teacher
- b) teaching
- c) school



- 11) Turan amca üçgen şeklindeki bahçesinin her kenarına 25 ağaç fidanı dikiyor. Buna göre Turan amca toplam kaç ağaç fidanı dikmiştir?
a) 25 b) 50 c) 75

- 12) Babam masadaki kaselere üçer kepçe çorba koyuyor. Tencerede 2 kepçe çorba kalıyor. Buna göre babamın yaptığı çorba toplam kaç kepçedir?
a) 14 b) 12 c) 7



- 13) Yukarıdaki dikdörtgen şeklindeki masanın çevresine bazı sayılar yazılıyor. Şeklin kenarlarında yazan sayıların toplamı kaçtır?
a) 79 b) 66 c) 58

- 14) $7 \star$ küçüktür 79 'dan

- Öğretmen tahtaya yukarıdaki ifadeyi yazıp küçük sayının birler basamağını yıldız koyarak kapatıyor. Buna göre \star yerine yazılabilen en küçük sayı kaçtır?
a) 8 b) 5 c) 0

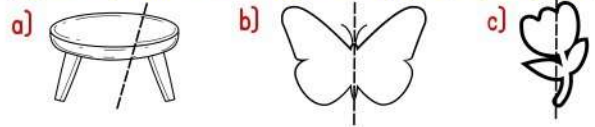
- 15) Aşağıdaki eşitliklerden hangisinde '=' işareti yanlış kullanılmıştır?
a) $50 + 15 = 60 + 5$
b) $45 - 5 = 40 + 10$
c) $22 - 10 = 15 - 3$

- 16) Bir çıkarma işleminde fark 37; çıkan 29 olduğuna göre eksilen sayı kaçtır?


a) 66 b) 62 c) 55

- 17) Bir sınav süresi 60 dakikadır. Sınava 10 dakika geç başlayan Ege, sınav başladıktan 40 dakika sonra sınavı bitirmiştir. Buna göre Ege, sınavını sınav süresinden kaç dakika önce bitirmiştir?
a) 10 b) 11 c) 12

- 18) Aşağıdaki şekillerden hangisi iki eş parçaya ayrılmıştır?



- 19) Yandaki şekli çizmek isteyen Elif, hangi geometrik cisim kullanarak çizebilir?
a) küp b) silindir c) küre



- 20) • Küp
 • Üçgen prizma
 • Koni

Yukarıdaki geometrik şekillere benzeyen nesnelere kendi adlarıyla eşleştiriliyor.

Doğru eşleştirme sonucu ortaya çıkan şekil nasıl olmalıdır?

