

ADI SOYADI: TÜRKÇE



Aç aç etrafta gezinen Tilki, uzaktan gelen horozun sesiyle irkilmiş. Sese doğru gidince, çitin üzerine tünemiş olan horozu görmüş. Horozu yemek için kurnazca bir plan yapıp usulca horozu yaklaştırmış. "Affedersiniz, uzun bir yoldan geliyorum. Dinlenmek için bir yer var mı burarda?

Horoz" Ormanda ağaç kovuklarında kalabilirsin. Burada kalma, çiftlik sahibi sana zarar verebilir." demiş. Bunun üzerine tilki "Peki ormandaki ağaç kovuklarını gösterir misiniz?" dedi. Horoz, tilkinin kötü niyetini anlamış. "Tabi ki gösteririm. Sen burada bekle, arkadaşım Karabaşı çağırıp hemen geliyorum." deyince tilki durumun kötüleşeceğini anlayınca hemen oradan kaçmış.

(İlk üç soruyu metne göre cevaplandırınız.)

1- Tilki, horozu nerede görmüş?
A) Çitin üzerinde B) Ağaç kovuğunda
C) Kümeste

2- Tilkinin horozdan yardım istemesinin asıl amacı aşağıdakilerden hangisidir?
A) Dinlenecek yer bulmak.
B) Horozu kandırıp, yemek.
C) Horozla arkadaş olmak.

3- Horoz, tilkinin tuzağından nasıl kurtulmuş?
A) Sahibine haber vererek kurtulmuş.
B) Ağaç kovuğuna saklanarak kurtulmuş.
C) Çiftlikteki Karabaşı çağırarak kurtulmuş.

1- Sözcükteki sesli harf sayısı ile hece sayısı aynıdır.

2- Sesli harfler tek başına hece olabilir.

3- Alfabemizde 21 ünsüz, 8 ünlü harf vardır.

4- Yukarıdaki ifadelerden hangileri doğrudur?
A) Yalnız 1 B) 1 ve 2 C) 1, 2 ve 3

5- Annem ünlü harfle başlayıp ünlü harfle biten meyveyi yiyebileceğimi söylediğine göre hangi meyveyi yiyebilirim?

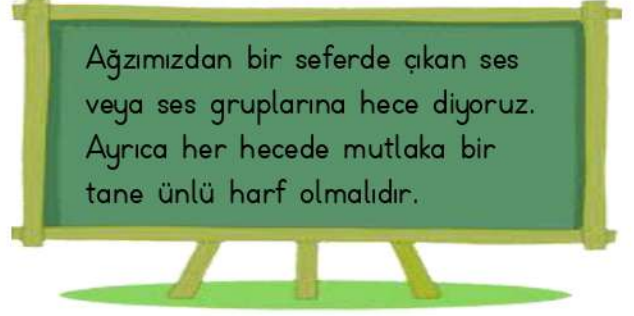
A)  B)  C) 



Alfabemizde 29 tane vardır.

6- Yukarıdaki cümlenin anlamına uygun olarak aşağıdaki kelimelerden hangisi yazılamaz?
A) harf B) hece C) ses

7- Aşağıdaki cümlelerin hangisinde "nerede" sorusunun cevabı vardır?
A) Annem ve babam uçakla gitti.
B) Herkes kırmızı çantasını çok beğendi.
C) Alper ödevini odasında yapıyor.



Ağzımızdan bir seferde çıkan ses veya ses gruplarına hece diyoruz. Ayrıca her hecede mutlaka bir tane ünlü harf olmalıdır.

8- Yukarıdaki açıklamaya göre aşağıdakilerden hangisi doğru hecelenmiştir?
A) s-por-cu B) e-lek-t-rik
C) ha-nı-me-li

bin	sabun	koyun
okul	kız	baba
dolu	şeker	kara

9- Eyüp, sesteseş olmayan kelimelere çarpı attığı zaman tablonun görünümü nasıl olur?

A)

	X	
X		X
	X	

B)

X		X
X		X

C)

X		X
	X	
X		

Sevgili Arkadaşım Oğuz Sınıftan ayrılman başka okula gitmen haber vermemen sınıftakileri üzdü. Özellikle Kerem Emirhan Enes çok üzüldü. En kısa zamanda görüşmek dileğiyle.

10- Yukarıdaki paragrafta virgüller konulmamıştır. Paragrafta kaç virgül kullanılmalıdır?

A) 2 B) 4 C) 6



- 1.Baca
- 2.Balık
- 3.Başak
- 4.Bayrak

Eylül



- 1.Metal
- 2.Makas
- 3.Müze
- 3.Mira

Berra



- 1.Arda
- 2-Taha
- 2.Miraç
- 4.Yağız

Eyüp




11-Yukarıdaki öğrencilerden hangisi, sözcükleri sözlük sırasına göre doğru sıralamıştır?

- A)Eylül B)Berra C)Eyüp

Bir cümle içinde iki tane eş anlamlı kelime bir arada kullanılamaz.



12-Hangi öğrenci öğretmeninin uyarısını dikkate **almamıştır**?

- A)  Konuk ve misafirlere ikram dağıttık.
- B)  Kimseyi zengin veya fakir olarak ayıramayız.
- C)  Annem yüz boncuğa yüz lira verdi.

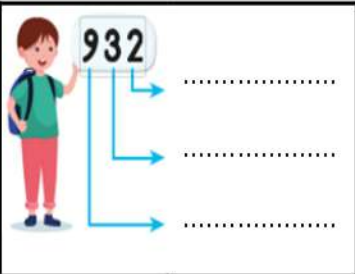
MATEMATİK

5 - 0 - 3

1-Tablodaki rakamlarla yazılabilecek, üç basamaklı en küçük sayı kaçtır?

- A) 530 B) 035 C) 305

2-Ömer, elinde tuttuğu sayıdaki rakamların basamak adlarını sıra-sırla yukarıdan aşağıya doğru yazmak istiyor.



Hangi seçenekteki gibi yazarsa doğru yapmış olur?

- A)

Onlar basamağı
Yüzler basamağı
Birler basamağı

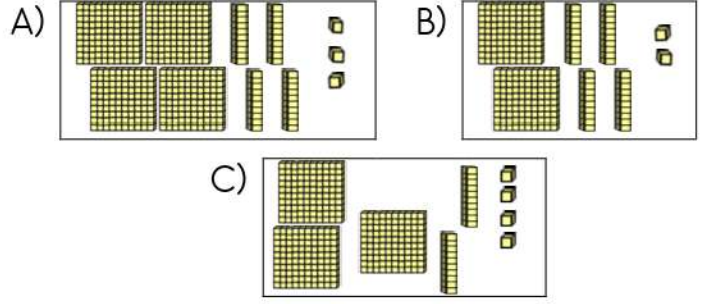
 B)

Birler basamağı
Onlar basamağı
Yüzler basamağı
- C)

Yüzler basamağı
Onlar basamağı

Birler basamağı

3-Aşağıdaki sayı bloklarından hangisi iki yüz kırk iki sayısını ifade etmektedir?



4-İlk mantarda bulunan sayıdan başlanarak 10'ar ritmik sayma saydığımızda son mantara hangi sayı yazılmalıdır?

- A) 401 B) 411 C) 421

5- 1 birlik, 5 yüzlük ve 3 onluktan oluşan sayı kaçtır?

- A) 153 B) 351 C) 531



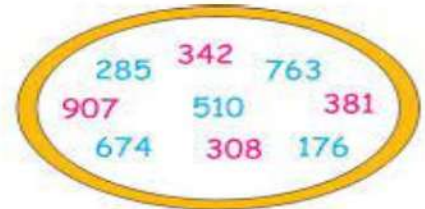
6-Abaküste gösterilen sayının onlar basamağında bulunan rakamın basamak değeri kaçtır?

- A) 500 B) 90 C) 8



7-Poyraz baskülde tartıldığı anda görülen sayının yuvarlanmış hali 40 olduğuna göre aşağıdakilerden hangisi Poyraz'ın kilosu **olamaz**?

- A) 36 B) 42 C) 45



8-Ceylin, yukarıdaki sayıları inceleyerek, kaç tane tek ve çift sayı olduğunu doğru bulduğuna göre aşağıdakilerden hangisi doğrudur?

- A)

tek sayı	4
çift sayı	5

 B)

tek sayı	2
çift sayı	7
- C)

tek sayı	3
çift sayı	6

466 - 325 - 849 - 743 - 458

9-Yukarıdaki sayıları büyükten küçüğe sembolle sıralanışı aşağıdakilerden hangisidir?

- A) $849 > 743 > 466 > 458 > 325$
B) $849 - 743 - 458 - 325 - 466$
C) $325 < 458 < 466 < 743 < 849$

10- 669 sayısı ile ilgili aşağıdaki ifadelerden hangisi **yanlıştır**?

- A) Basamak değeri artmayan tek rakam 9'dur.
B) Yüzler ve onlar basamağındaki 6'ların basamak değeri aynıdır.
C) 6 yüzlük + 6 onluk + 9 birlik şeklinde çözümlenir.

11-Aşağıdaki sayılardan hangisi en yakın onluğa doğru yuvarlanmıştır?

- A) $304 \rightarrow 300$
B) $365 \rightarrow 360$
C) $344 \rightarrow 350$

18 - 24 - 30 - 36 - 42 - 48

12-Yukarıdaki ritmik sayma, hangi tür ritmik saymadır?

- A) İleriye doğru 8'er ritmik sayma
B) Geriye doğru 6'şar ritmik sayma
C) İleriye doğru 6'şar ritmik sayma

HAYAT BİLGİSİ

duyarlı	hoşgörü	adil
Farklılıkların doğal karşılanması.
Tarafsız ve eşit davranmak.
Canlılara yardımcı olmak.

1-Yukarıdaki kelimeler, anlamlarına göre noktalı yerlere doğru sıralanışı aşağıdakilerden hangisidir?

- A)

hoşgörü
adil
duyarlı

 B)

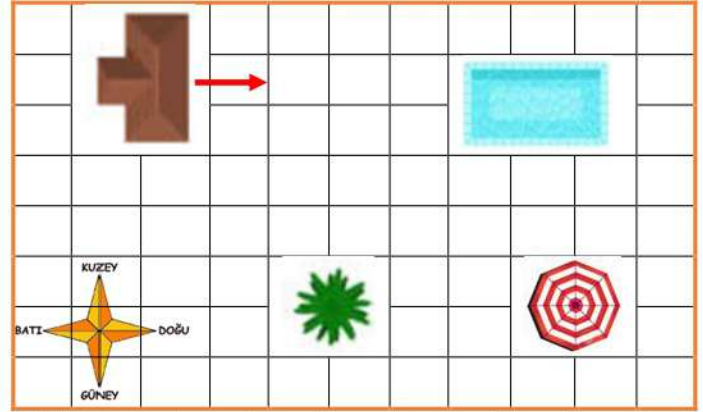
adil
duyarlı
hoşgörü

 C)

duyarlı
hoşgörü
adil

2-Aşağıdakilerden hangisi olumlu bir davranıştır?

- A) Otobüste yaşlılara yer vermemek.
B) Sokak hayvanlarının yemek kaplarını atmak.
C) Sıra bekleyen arkadaşımın arkasına geçmek.



Muhammed ve Ayaz beraber yazlıkta ki evden çıkarak önce havuza yüzmeye sonra güneşlenmek için şemsiyenin altına gitti. Ardından ağaçtan meyve koparıp yediler.

3-Yukarıdaki açıklamaya göre Muhammed ve Ayaz sırasıyla hangi yönleri kullandılar?

- A) Doğu-Güney-Batı B) Kuzey-Güney-Doğu
C) Batı-Doğu-Kuzey

4-Aşağıdakilerden hangisi okulun bizlere kazandırdığı bireysel katkılarında **değildir**?

- A) Alışveriş yapabilmek.
B) Yetenekleri geliştirmek.
C) Özgüveni azaltmak.



5-Yandaki resme göre aşağıdakilerden hangisinin yapılması doğrudur?

- A) Arkadaşımızın karakterine uygun şaka yapmak.
B) Arkadaşımızı korkutan şakalar yapmak.
C) Arkadaşımızı ürkütmek bizi mutlu eder.

6-Aşağıdaki görsellerden hangisi duyarlı bir davranışı **göstermemektedir**?



A)



B)



C)

7-Krokilerle ilgili bilgilerden hangisi **yanlıştır**?

- A) Her kroki, kuşbakışıyla çizilir.
B) Her kroki, ölçüyle çizilir.
C) Her krokide yön okları bulunur.

- I. Demokratik seçim
II. Kitap okuma çalışması
III. Sportif etkinlikler

8-Yukarıdakilerden hangileri okulda yapılan etkinliklere örnektir?

- A) Yalnız I B) I ve II C) I, II ve III

FEN BİLİMLERİ

1.	Biruni	Gemileriyle aynı yöne giderek Dünya'nın yuvarlak olduğunu ispat etmiştir.	...
2.	Macellan	İcat ettiği teleskopla Dünya'nın küreye benzediğini söylemiştir.	...
3.	Pisagor	Dünya'nın küreye benzediğini söyleyen ilk müslüman Türk tür	...
4.	Galileo	Dünya'nın yuvarlak olduğunu ve Güneş'in etrafında dolandığını söyleyen ilk bilim insanıdır.	...

1-Dünya'nın şekli ile ilgili açıklamalarda bulunan bilim insanlarını noktalı doğru eşleştirilmesi aşağıdakilerden hangisidir?

- A)

1
4
2
3

 B)

4
1
3
2

 C)

2
4
1
3

2-Göz sağlığına dikkat eden Beytullah, aşağıdaki besinlerden hangisini biraz daha fazla tüketmesi gerekir?

- A)  B)  C) 

3-Çevremizdeki varlıkların rengini, biçimini ve sayısını algılamamızı sağlayan duyu organı aşağıdakilerden hangisidir?

- A) göz B) burun C) kulak



4-Miraç, uzaydaki uydusundan Dünya'ya baktığında aşağıdaki katmanlardan hangisini görebilir?
A)mağma B)yerkabuğu
C)çekirdek

Gürültülü ortamlar kulak sağlığına fayda verir.



Güneşin zararlı ışınlarından korunmak için güneş gözlüğü takmalıyız.

Bilmediğimiz maddeleri koklamamalıyız.



5-Yukarıdaki çocuklardan hangisi duyu organlarının sağlığıyla ilgili yanlış bir bilgi vermiştir?

- A)  B)  C) 

6-Gözlemlenebilen katmanlarla ilgili bilgilerden hangisi yanlıştır?

- A) Dünya'nın gözlemlenebilir 5 katmanı vardır.
B) Gözlemlenebilen katmanlar iç içedir.
C) Tüm canlılar gözlemlenebilir katmanlarda yaşar.

Özlem hanım televizyonda en sevdiği programı izliyordu. Birden yanık kokusunu hissedince ocaktaki yemeğin yandığını fark etti. Mutfağa koşup heyecanla tencereyi kaldırdı da sıcaktan eli yandı. Dikkatsizliğin cezası biraz ağır oldu.

7-Özlem hanım, hangi duyu organları sayesinde çevresindeki olayları algılamıştır?

- A)

deri
burun
dil

 B)

kulak
göz
burun

 C)

göz
burun
deri

8-Aşağıdakilerden hangisi duyu organı değildir?
A)Kalp B)deri C)burun