



Kelime	Hece Sayısı
Malatya	
Adıyaman	
Kahramanmaraş	

1) Yukarıdaki tabloyu istenilen bilgiye göre doldurduğumuzda hangi seçenekteki gibi olur?

a) 3	b) 3	c) 4
4	4	4
6	5	5

2)  Yandaki kelimenin harfleri hangi seçenekte alfabetik olarak sıralanmıştır?

- a) a-e-l-m      b) e-a-l-m      c) l-a-m-e

..... tav-

3) Yukarıdaki satır sonuna sığmayan kelime hangisi olabilir?

- a) tavuk      b) tava      c) tavşan

Yaz tatilinde nereye gideceksin?

4) Yukarıdaki kelimelerden hangisi eş seslidir?

- a) yaz      b) tatil      c) nereye



5) Yukarıdaki atasözünün anlamı nedir?

- a) Harcamalarımızı mutlaka gelirimize uydurmalıyız.  
b) Bir kimsenin aklına gelmeyen bir çare, başka birinin aklına gelebilir.  
c) Başarıya ulaşmak için birlik olmak gerekir.

Atatürk, Türkiye Büyük Millet Meclisi'nin açıldığı günü ..... bayram olarak armağan etmiştir.

6) Yukarıdaki boşluğa hangisi gelmelidir?

- a) ordumuza  
b) çocuklara  
c) gençlere

- Ramazan Bayramı      • Kadir Gecesi  
• Kurban Bayramı      • Zafer Bayramı

7) Yukarıda verilenlerden kaç tanesi dini bayramımızdır?

- a) 1      b) 2      c) 3

19 Mayıs

Atatürk'ü Anma Gençlik ve Spor Bayramı

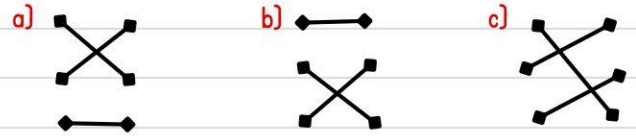
23 Nisan

Cumhuriyet Bayramı

29 Ekim

Ulusal Egemenlik ve Çocuk Bayramı

8) Yukarıda verilen tarihlerle millî bayramlarımız eşleştirildiğinde sonuç nasıl olur?




9)  ..... your eyes.

- a) close  
b) touch  
c) ten

10)  **rabbit**





11) Yukarıda kaç bütün yumurta vardır?

- a) 2      b) 3      c) 4

12) Yandaki bölme işleminde bölüm kaçtır?

$$\begin{array}{r} 14 \phantom{0} \\ \underline{\phantom{0}} \phantom{0} \\ 2 \phantom{0} \end{array}$$

- a) 0      b) 5      c) 7

13) Bölünen: 27  
Bölen: 3  
Bölüm: ? Yanda bir bölme işlemine ait bilgiler verilmiştir. Buna göre bölüm kaçtır?

- a) 9      b) 6      c) 4

$$\begin{array}{r} 15 \phantom{0} \\ \underline{\phantom{0}} \phantom{0} \\ \star \phantom{0} \end{array}$$

$$\begin{array}{r} 20 \phantom{0} \\ \underline{\phantom{0}} \phantom{0} \\ \text{☾} \phantom{0} \end{array}$$

14) Buna göre  $\star \times \text{☾}$  işleminin sonucu kaçtır?

- a) 25      b) 15      c) 10

15) Bir ahırdaki koyunların ayak sayıları toplamı 24'tür. Buna göre ahırdaki kaç koyun vardır?

- a) 4      b) 6      c) 8

$$\begin{array}{r} \phantom{0} \\ \underline{\phantom{0}} \phantom{0} \\ ? \phantom{0} \end{array}$$

16) Yukarıdaki bölme işleminde ? ile gösterilen yere hangi terim yazılmalıdır?

- a) *bölen*      b) *bölüm*      c) *bölünen*

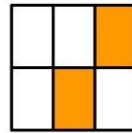
17) İki düzine papatya 3 vazoya eşit şekilde konulacaktır. Her bir vazoya kaç papatya konur?

- a) 6      b) 7      c) 8

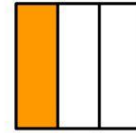
18) Yandaki bölme işleminde bölen ve bölümün toplamı kaçtır?

$$\begin{array}{r} 12 \phantom{0} \\ \underline{\phantom{0}} \phantom{0} \\ 4 \phantom{0} \end{array}$$


- a) 7      b) 6      c) 5



1



2



3

19) Yukarıda kaç numaralı şeklin yarısı boyanmıştır?

- a) 1      b) 2      c) 3



20) Yukarıda kaç bütün pizza vardır?

- a) 4      b) 3      c) 2