

Adı Soyadı:

Öğrenci No.:

...../...../..... - Öğretmen İmzası:

TÜRKÇE

Küçükken en çok resimli kitapları okumayı severdim. Onların o renkli sayfalarını çevirmek bana ayrı bir mutluluk verirdi. Öyle ki o resimli sayfaların içinde kayboluyor, âdeta onların dünyasında buluyordum kendimi. Sanki o resimlerin başkahramanı benmişim, her şey benim etrafımda şekilleniyormuş gibi hissediyordum.

Büyüdüm. Artık küçük bir çocuk değilim ama resimli bir kitap açtığım zaman hâlâ aynı etkiyi, aynı heyecanı hissederim.

Metnin konusu nedir ?

.....
.....

Aşağıdaki metinlere uygun başlıklar yazalım.

O gün kedilerin yaşadığı barınağa gittik. Sayamayacağım kadar çok kedi vardı. Beni en çok sarımsı tüylü, yeşil gözlü kedi etkilemişti. Anneme onu sahiplenmek istediğimi söyledim. Annem kabul etti ve onu sahiplendik.



MINİ TEST

"Almak" sözcüğü aşağıdakilerin hangisinde farklı bir anlamda kullanılmıştır?

- A. Beni evden aldılar, hastaneye götürdüler.
- B. Bugün okuldan beni babam aldı.
- C. Onları deprem bölgesinden biz aldık.
- D. Elimizdeki şişe bir buçuk kilo pekmez aldı.

Aşağıdaki cümlelerden hangisinin sonunda nokta kullanılır?

- A. Kütüphanenin ürkütücü sessizliği
- B. Buradan ne zaman ayrıldın
- C. Yaşanan olaylar herkesi üzdü
- D. Eyvah, peşimdeler

Bir sevgi kelebeği kanat çırpıp yapraktan Kararan yeryüzüne sevgi taşır, can verir, Umutsuz yüreklere konup heyecan verir. Bir sevgi tomurcuğu fışkırarak topraktan, Bir sevgi kelebeği kanat çırpıp yapraktan Verilen şiirin ana duygusu aşağıdakilerden hangisidir?

- A. Sevgi
- B. Hayvan sevgisi
- C. Yurt özlemi
- D. Anne sevgisi

...../...../..... - Veli İmzası:

Bu kelimelerin istenen karşılıklarını yazalım.

Eş Anlamlısı

? Asır →

? Tesir →

? Sevinç →

? Vatan →

? Şehir →

Aşağıda verilen hikâyelerin unsurlarını belirleyelim.

Yaşlı kadın alışverişten dönmüş, evinde oturuyordu. Alışveriş onu yorduğu için dinleniyordu kendince. Bir de sıcak çayını yudumluyordu. Yaşlı kadın çayından bir yudum daha aldı ve kapı çaldı. Kadın kapıyı açtı. Gelen kargo görevlisiydi. O gün pazardı ve kargolar çalışmazdı. Kadın bu duruma şaşırdı ama pek de aldırış etmedi. Kargo görevlisinin getirdiği bir buket çiçeği aldı ve içeri girdi. Çiçeği oğlu göndermişti. Kadın çiçeği koklarken gözleri doldu. Çok mutluydu.

Olay →

Kişi →

Zaman →

Yer →

MATEMATİK

⇒ Aşağıda işlem basamakları verilen bölme işlemlerini yapalım.

?
$$\begin{array}{r} 215 \overline{) 4} \\ \underline{00} \\ 00 \\ \underline{00} \\ 00 \\ \underline{00} \\ 00 \end{array}$$

?
$$\begin{array}{r} 296 \overline{) 14} \\ \underline{00} \\ 00 \\ \underline{00} \\ 00 \\ \underline{00} \\ 00 \end{array}$$

?
$$\begin{array}{r} 4874 \overline{) 6} \\ \underline{00} \\ 00 \\ \underline{00} \\ 00 \\ \underline{00} \\ 00 \end{array}$$

Aşağıdaki bölme işlemlerini yaparak istenen terimlere karşılık gelen sayıları yazalım.

$$265 \overline{) 14}$$

Bölünen:.....
Bölen:.....
Bölüm:.....
Kalan:.....

$$719 \overline{) 26}$$

Bölünen:.....
Bölen:.....
Bölüm:.....
Kalan:.....

$$\begin{array}{r} 6235 \mid 9 \\ \hline \end{array}$$

Bölünen:.....
 Bölün:.....
 Bölüm:.....
 Kalan:.....

$$\begin{array}{r} 4828 \mid 6 \\ \hline \end{array}$$

Bölünen:.....
 Bölün:.....
 Bölüm:.....
 Kalan:.....

Çarpma İşlemi

1. Bir sitede 9 apartman, her apartmanda 5 kat ve her katta 2 daire vardır. Buna göre bu sitede toplam kaç tane daire vardır?

2. Bir pantolonun fiyatı 120 TL'dir. Bir ayakkabıya ödenen para ile 3 tane pantolon alınabilmektedir. Buna göre 2 pantolon ve 2 ayakkabı alan biri kaç TL öder?

3. Bir pazarcı kilogramını 18 TL'ye aldığı bir ürünü 22 TL'ye satmaktadır. Bu üründen 125 kg satan pazarcı kaç TL kâr elde eder?

4. Duru bir günde 18 sayfa, Yelda ise bir günde Duru'dan 5 sayfa fazla kitap okumaktadır. Bir hafta sonra ikisi toplam kaç sayfa kitap okur?

A. Aşağıda verilen çarpma işlemlerini yapalım.

$$\begin{array}{r} 43 \\ \times 26 \\ \hline \square\square\square \\ + \square\square \\ \hline \square\square\square\square \end{array}$$

$$\begin{array}{r} 483 \\ \times 35 \\ \hline \square\square\square\square \\ + \square\square\square\square \\ \hline \square\square\square\square\square \end{array}$$









$$\begin{array}{r} 514 \\ \times 27 \\ \hline \square\square\square\square \\ + \square\square\square\square \\ \hline \square\square\square\square\square \end{array}$$

$$\begin{array}{r} 365 \\ \times 23 \\ \hline \square\square\square\square \\ + \square\square\square \\ \hline \square\square\square\square \end{array}$$

FEN BİLİMLERİ




Olay	Kuvvetin Etkisi
• Bisiklet ile yokuş aşağıya inmek	? → Hızlandırır
• Oyun hamuru ile şekiller oluşturmak	? →
• Badminton raketi ile gelen topa vurmak	? →
• Kızağa tersi yönde kuvvet uygulamak	? →
• Kamyonun frenine basmak	? →
• Duran miskete başka miskele ile vurmak	? →
• Durmakta olan oyuncak arabayı itmek	? →

Aşağıda verilen hava durumu sembollerinin ne anlama geldiğini yazalım.

? Güneşli	?	?	?
			
?	?	?	?
			

Tabloya göre aşağıda verilen ifadelerdeki noktalı yerleri tamamlayalım.

Tablo: Pazar Günü Bazı İllerimizde Görülen Hava Olayları

İller	İzmir	Ağrı	Antalya	Ordu	Adana	Ankara	İstanbul
Pazar							

Verilen iller içinde o gün sadece ..Ağrı..... şehrinde kar yağışı görülmektedir.

Pazar günü ve illerinde parçalı bulutlu bir hava görülecektir.

Rüzgârlı havanın görüleceği tek yer'dur.

Ankara ve İzmir'de bir hava olacaktır.

Pazar günü yurdumuzda sadece ilinde şiddetli yağmur beklenmektedir.

