

Deste

Aynı türden 10 varlığın oluşturduğu topluluğa **deste** denir.





10 papatya, 1 deste papatyadır.






Farklı türden 10 varlık, deste **oluşturmaz**.

1 Varlık sayısı 10 olan elma grubunu işaretleyiniz.



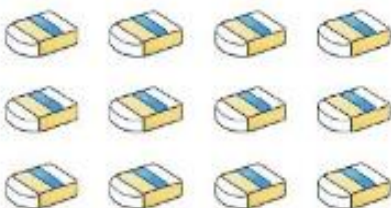
2 Varlık sayısı bir deste olan portakal grubunu işaretleyiniz.



3 Varlık sayısı bir desteden az olan top gruplarını işaretleyiniz.



4 Sayısı bir desteden çok olan varlık gruplarını işaretleyiniz.



Düzine

Aynı türden 12 varlığın oluşturduğu topluluğa **düzine** denir.



12 düğme, 1 düzine düğmedir.






Farklı türden 12 varlık, düzine **oluşturmaz**.

1 Varlık sayısı 12 olan dondurma grubunu işaretleyiniz.



3 Varlık sayısı bir düzineden **az olan** sebze gruplarını işaretleyiniz.



4 Varlık sayısı bir düzineden **çok olan** fincan gruplarını işaretleyiniz.



Tablolarda okunuşları verilen doğal sayıları rakamlarla yazınız.

Okunuşu	Sayı	Okunuşu	Sayı	Okunuşu	Sayı
On yedi	17	Altmış bir		Elli bir	
Kırk üç		Yetmiş yedi		Altmış sekiz	
Elli yedi		Seksen sekiz		Doksan iki	
Kırk sekiz		Doksan üç		Otuz beş	
Elli dört		Doksan		Yetmiş altı	

Kazanım Değerlendirme

Problemler 1

1



Balon sayılarını bir desteye tamamlamak için kaç balon gerekir?

2

Yandaki silgiler bir düzineden kaç tane eksiktir?



3

Bir düzine balonun sayısı, bir deste balonun sayısından kaç tane fazladır?

5

Bir deste kalemin 6 tanesi kırmızı diğerleri sarı renktedir. Sarı renkli kalemlerin sayısı kaçtır?

6

Bir düzine bardağın 5 tanesi kırıldı. Kaç tane sağlam bardak kaldı?

7

İki düzine kalemim vardı. Ablam 5 kalem daha verdi. Kaç kalemim oldu?

8

İki düzine tabağın 4 tanesi kırıldı. Kaç tane sağlam tabak kaldı?

4

2 deste çorabın 6 tanesi siyah, diğerleri beyazdır. Beyaz çorapların sayısı kaçtır?