

Ülkem Nerede?

Kazanım: Harita ve küre üzerinde ülkesini, başkentini ve yaşadığı yeri gösterir.



Ülkemiz Dünya'nın Kuzey Yarım Küresinde, Asya ve Avrupa kıtaları arasında bulunur.



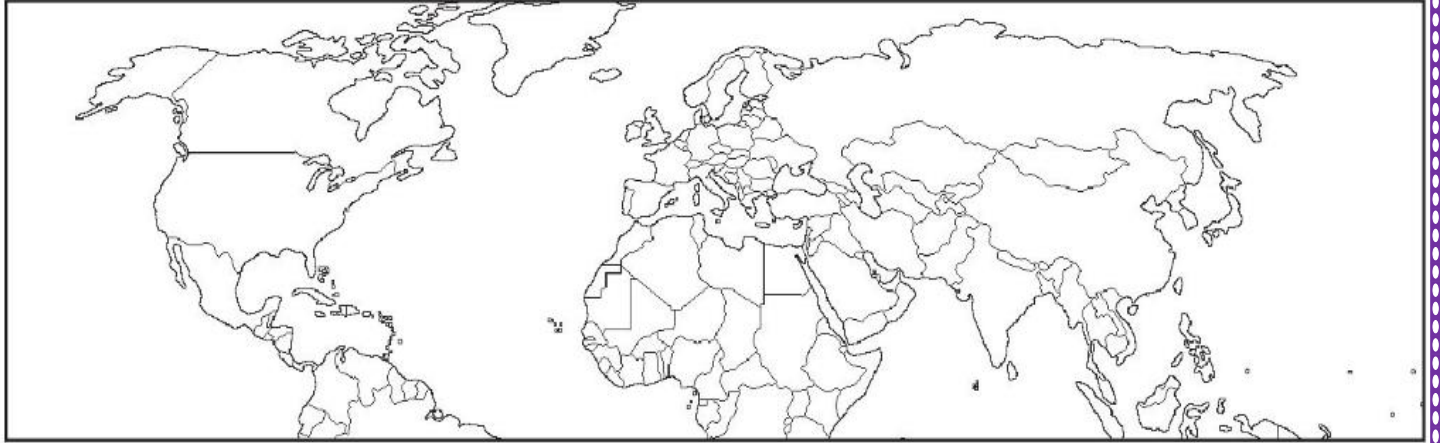
Üç tarafı denizlerle çevrili ülkemize komşu devletler; Bulgaristan, Yunanistan, Gürcistan, Ermenistan, İran, Irak ve Suriye'dir.



Ülkemizde 81 il vardır. Ülkemizin başkenti Ankara'dır.



? Aşağıdaki Dünya haritası üzerinde Türkiye'nin yerini bulalım, kırmızıya boyayalım.




Aşağıdaki Türkiye haritası üzerinde başkentimizi sarıya, yaşadığımız ili yeşile, denizlerimizi maviye boyayalım.



Aşağıda görevleri açıklanan teknolojik ürünlerin adlarını yazalım.

Yiyeceklerin bozulmasını önler.

?



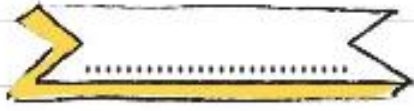
Birbirinden uzak kimseler arasında iletişim sağlar.

?




Bilgi edinmemizi ve iletişim kurmamızı sağlar.

?



Kirli elbiselerin temizlenmesini sağlar.

?



Aşağıdaki teknolojik araç ve gereçlerden hangilerini tek başımıza kullanmamız tehlikelidir? İşaretle-yim.



Aşağıdaki noktalı yerlere, verilen kelimelerden uygun olanlarını yazarak cümleleri tamamlayalım.

misin

de

mı

-da

6.

musunuz

10.30

Sinemaya gidiyor

Okulumuz.... spor salonu var.

Yarın saat 'da satranç kursumuz var.

Bir bardak su verir

Emel mi geliyor?

Ayşeler caddede oturuyor.

Kaleminiz var

 Aşağıda verilen cümlelerle ilgili 5N 1K sorularını cevaplayalım.

 Selçuk okuldan çıktıktan sonra, antrenman yapmak için yürüyerek spor salonuna gitti.

? 1. Kim gitti?

? 2. Ne zaman gitti?

? 3. Nereye gitti?

? 4. Nasıl gitti?

? 5. Niçin gitti?

Aşağıdaki cümleleri, verilen kelimelerden uygun olanını yazarak tamamlayalım.

sökük

kırmızı

acı

çocuğa

okuldan

kardeşime

Ayhan dönmedi.

Kırtasiyeden üç tane kalem aldım.

Hemşire, hasta iğne yaptı.

Sıla çorabını dikti.

Doğum gününde hediye aldım.

Teuzem Urfa'dan biber getirdi.

HİKÂYE UNSURLARI

Çocuklar, pazara giden Nasrettin Hoca'nın etrafını sarmışlar. "Hoca, bana düdük al!" demiş biri. "Bana da bana da!" demiş bir diğeri.

Sadece içlerinden biri Nasrettin Hoca'ya düdük parası vermiş. Hoca, parayı alıp pazara gitmiş.

Hoca, pazardan dönünce çocuklar etrafını sarmış. Her biri düdüğünü istemiş. Cebinden bir düdük çıkaran Hoca, düdüğü parayı veren çocuğa uzatmış.

Diğer çocuklar hep bir ağızdan bağırmışlar:

- Hani bizim düdüğümüz?

Nasrettin Hoca gülerek:

- Parayı veren düdüğü çalar, demiş.

Yukarıdaki metinde aşağıdaki görsellerden hangisinin ifade ettiği hikâye unsuru **yoktur**?

A)



B)



C)



Enes Öğretmen, öğrencilerine hikâye unsurlarını kullanarak (yer, zaman, olay, kahramanlar) bir hikâye yazmalarını söylemiştir.

Sonra üç öğrencisinden yazdıkları hikâyelerdeki hikâye unsurlarını söylemelerini istemiştir.








Buna göre aşağıdakilerden hangisi **söylenemez**?

A) Üç öğrenci de hikâye unsurlarının tamamını kullanmıştır.

B) Anıl ve Jale, hikâye unsurlarının tamamını kullanmıştır.

C) Ece, olay unsurunu kullanmamıştır.

X					
1		2			
2					8
3	9				
4			20		
5				5	

Yukarıda verilen çarpım tablosuna göre  x  işleminin sonucu kaçtır?

A) 12

B) 15

C) 18

YENİ NESİL SORU



2 kilogram

Tavuk



4 kilogram

Sincap



3 kilogram

Kirpi



Benim ağırlığım tavuğun ağırlığının 10 katıdır.



Benim ağırlığım sincabın ağırlığının 6 katıdır.



Benim ağırlığım kirpinin ağırlığının 7 katıdır.

Buna göre çocukların en ağırdan en hafife doğru sıralanışı hangi seçenekte doğru verilmiştir?

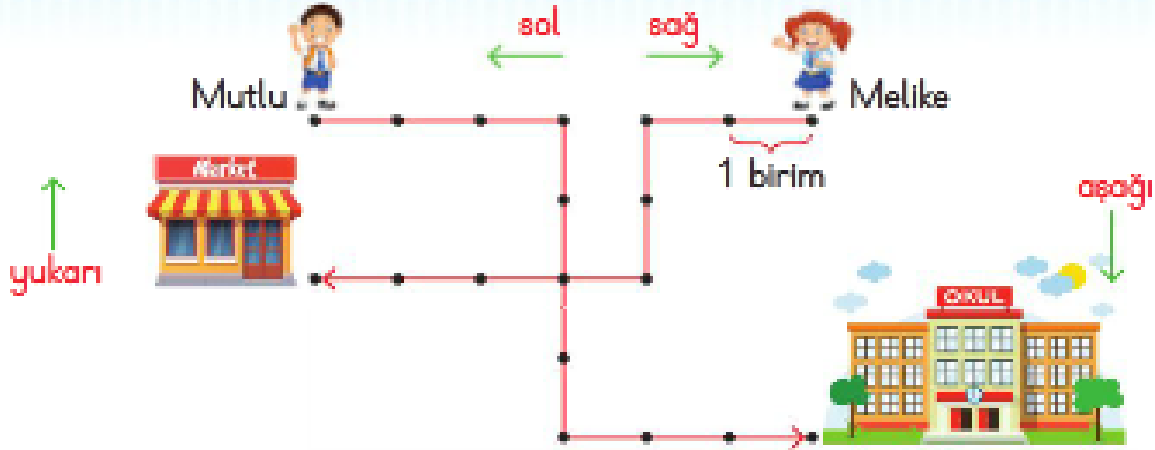




Uzamsal İlişkiler

Problemler

Kazanım: M222.1 M22.2.1



1, 2, 3 ve 4. soruları görsele göre cevaplayalım.

1. Melike 2 birim sola, 2 birim aşağı, 1 birim sola, 2 birim yukarı ve 3 birim sola gittiğinde nereye ulaşır?

--	--	--	--	--	--	--	--	--	--	--	--	--	--	--	--	--	--	--	--

2. Mutlu 3 birim sağa, 2 birim aşağı, 3 birim sola gittiğinde nereye ulaşır?

--	--	--	--	--	--	--	--	--	--	--	--	--	--	--	--	--	--	--	--

3. Mutlu okula ulaşmak için sırasıyla hangi yönler, kaç birim ilerlemelidir?

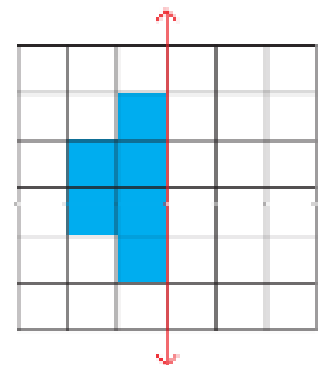
--	--	--	--	--	--	--	--	--	--	--	--	--	--	--	--	--	--	--	--

4. Her birim 10 adım olduğuna göre Melike markete ulaştığında kaç adım atmış olur?

--	--	--	--	--	--	--	--	--	--	--	--	--	--	--	--	--	--	--	--

5. Yanda yarısı verilen şeklin diğer parçası da çizilip boyandığında oluşan şekilde toplam kaç kare olur?

--	--	--	--	--	--	--	--	--	--	--	--	--	--	--	--	--	--	--	--



6. Bir manavda içinde altışar tane limon olan torbalardan bir deste satılıyor. Buna göre satılan toplam limon sayısı kaçtır?



7. Bir kutuda 6 yumurta vardır. Annem bu kutulardan 5 tane aldı. Yumurtaların 7 tanesini kek yapmak için kullandı. Geriye kaç yumurta kalmıştır?



8. Hamdi amca kare şeklindeki tarlasının her kenarına 9 tane ağaç fidanı dikti. Fidanlardan 8 tanesi tutmadığına göre tutan fidan sayısı kaçtır?

9. Nihal bir kutudaki şekerlerden 7 arkadaşına dörder tane veriyor. Kutuda kalan 2 şekeri de kendi alıyor. Buna göre başlangıçta kutuda kaç şeker vardı?

10. Yağmur bir sınavın test bölümündeki 15 sorudan 3 tanesini yanlış cevaplamış, 4 tanesini de boş bırakmıştır. Her bir test sorusu 4 puan olduğuna göre yağmur sınavın test bölümünden toplam kaç puan almıştır?