

Adı:
Soyadı:



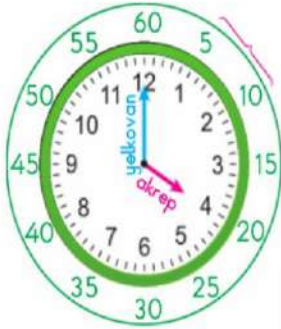
Matematik



Tarih

ZAMAN ÖLÇME

Dakika ve Saat



Saat üzerindeki her sayı arasında 5 dakika vardır.

Günlük zamanı ölçmek için kullanılan araçlara **saat** denir.

Akrep

Saati gösteren kısa koldur.

Yelkovan

Dakikayı gösteren uzun koldur.

1 saat = 60 dakikadır.

Etkinlik

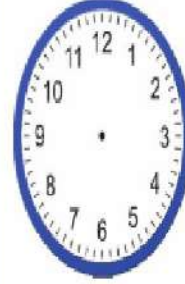
1. Aşağıda verilen saatlerin **öğleden önce** okunuşlarını örnekteki gibi yazınız.



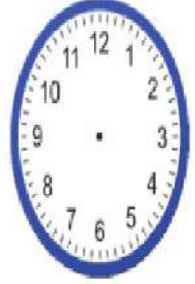
5'i çeyrek geçiyor.



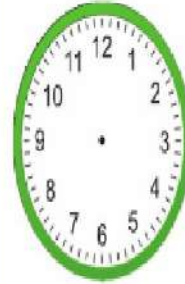
Akrep ve Yelkovanı Çiz



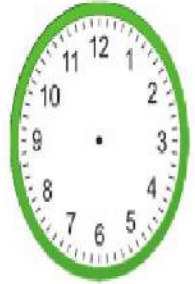
08:15




05:30




23:20



17:10



19:45



16:15



02:15



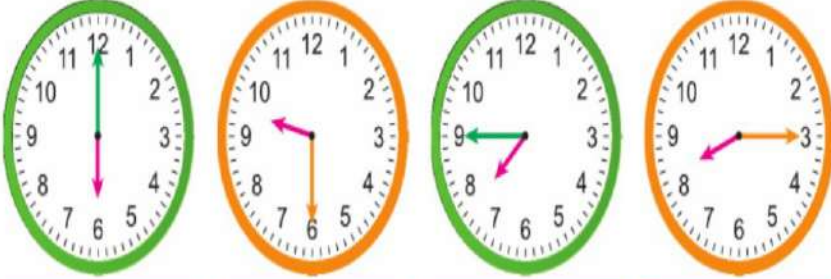
13:45

Adı:
Soyadı:

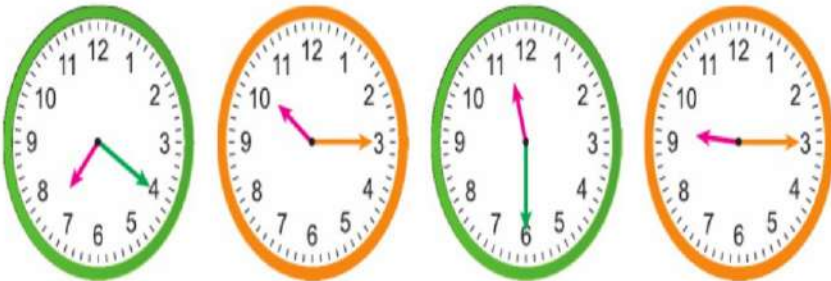
Matematik

Etkinlik

1. Aşağıda verilen saatlerin altına **öğleden önce** okunuşlarını yazınız.

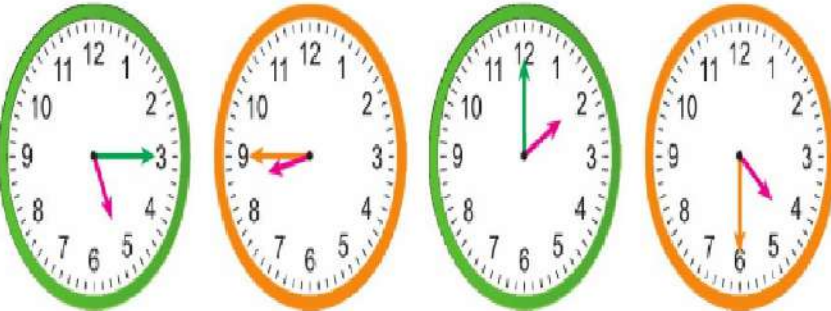


Four empty boxes for writing the times of the first row of clocks.

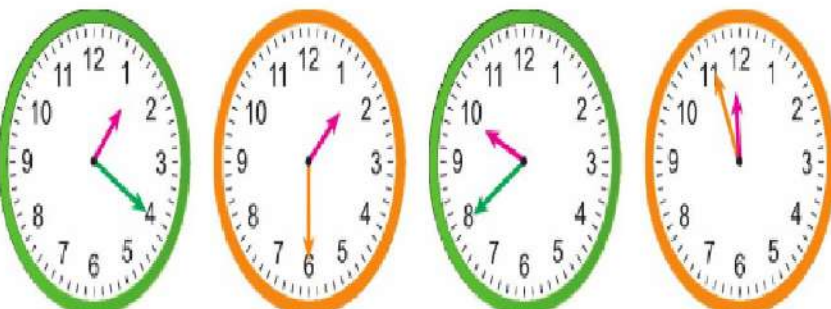


Four empty boxes for writing the times of the second row of clocks.

2. Aşağıda verilen saatlerin altına **öğleden sonra** okunuşlarını yazınız.



Four empty boxes for writing the times of the third row of clocks.



Four empty boxes for writing the times of the fourth row of clocks.

Verilen saat görseliyle, okunan zamanı eşleştirelim.

05:10 • 4'e çeyrek var

03:45 • 9'a 20 var

10:00 • 4'ü 5 geçiyor

13:30 • on

16:05 • 5'i 10 geçiyor

08:40 • bir buçuk

Tablodaki boşlukları dolduralım.

15 dakika önce	Saat	30 dakika sonra
.....	12.00
.....	17.15
.....	09.20
.....	20.30
.....	22.10
.....	13.05