





1. Her birinde 6 düğme bulunan 5 gömlekte toplam kaç düğme vardır?

? 


2. Bir çarpma işleminde çarpanlardan biri 2, çarpım 10 ise diğer çarpan kaçtır?

? 

3. Yiğit 3 yaşındadır. Ağabeyinin yaşı Yiğit'in yaşının 2 katından 3 fazladır. Yiğit'in ağabeyi kaç yaşındadır?

? 

4. Tanesi 4 lira olan kalemlerden 3 tane alan biri kaç lira ödeme yapar?

? 



5. 3 fazlası bir düzine eden atların bacak sayıları toplamı kaçtır?

? 

5. Bir çiftlikte 5 tavuk vardır. Her tavuğun yedişer civcivi olduğuna göre çiftlikte kaç tane civciv vardır?

? 