

Ad-Soyad:

MEYVELER

Vişne der ki üzüm git,
Salkımları altın gibi.
İçim aydınlanır yerken,
Üzüm benim en sevdiğim.

Armut der ki elmaya git,
Kırmızı mayhoş tadı.
Sevinirim gide gide.
Elma benim en sevdiğim.

Hepsi söyler birbirini,
Şeftali, muz, portakal, dut.
Gezerim dört mevsimi ben,
Gide gide yorulmam ki.

Fazıl Hüsnü DAĞLARCA
(Kısaltılmıştır.)

1. Salkımları altın gibi olan meyve hangisidir?
.....

2. Kırmızı renkli ve mayhoş tadı olan meyve hangisidir?
.....

3. Şair, yorulmadan kaç mevsim gidiyormuş?
.....

MİNİ TEST

1. Hangi cümlenin sonuna soru işareti (?) konmaz?
A) Okuldan eve geldim
B) Ne zaman geleceksiniz
C) Manavdan ne alacaksınız
2. "Kalemimi () defterimi ve kitabımı yanıma aldım." cümlesinde () yerine hangi noktalama işareti konmalıdır?
A) Nokta (.) B) Virgül (,)
C) Kısa çizgi (-)
3. Hangi cümlenin sonuna yanlış noktalama işareti konmuştur?
A) Ödevlerimi bitirdim?
B) Annem pazardan döndü.
C) Dur, araba çok yaklaştı!
4. Hangi cümlenin sonuna nokta (.) konmalıdır?
A) Esra geç mi kalacak
B) Hangisi senin kitabın
C) Köpekleri çok severim
5. Hangi cümlenin sonuna ünlem işareti (!) konmalıdır?
A) Yarın sen de gelmelisin
B) Gece güzel bir rüya gördüm
C) Eyvah, okula geç kaldım

YALANCI ÇOBAN

Çoban, bir süredir koyunlarını otlatma işini oğluna bırakmıştı.



Küçük çobanın bir gün canı sıkıldı. Biraz heyecan yaşamak için,

— Kurt geliyor, diye bağırarak köye doğru koştu.

Köylüler, çayıra koşular ama kurt falan yoktu.

Bu oyun, küçük çobanın hoşuna gitmişti. Aynı oyunu ikinci kere tekrarladı. Yine köylüleri aldatmıştı.

Günün birinde bir kurt gerçekten sürüye saldırmıştı. Küçük çoban “Kurt geliyor!” diye feryat ettiyse de bu defa kimseyi kendine inandıramadı. Kurtlar da koyunları afiyetle yedi.

1. Küçük çoban köylüleri nasıl kandırdı?

2. Köylüler çobanın ilk çağrısına nasıl karşılık verdiler?

3. Metindeki olay nerede geçmektedir?

Yazım Kuralları

Yazım hatalarının altını çiz ve kelimeyi düzelt.

Cumhuriyet 29 ekim'de ilan edildi.

Atatürk, 27 aralıkta Ankara'ya geldi.

Biletini 1 kasım Pazar günü almış.

9 Eylül, İzmirin kurtuluş günüdür.

Tahtadaki soruyu yanlış çözdüm.

Semih, Yıldız mahallesinde oturuyor.

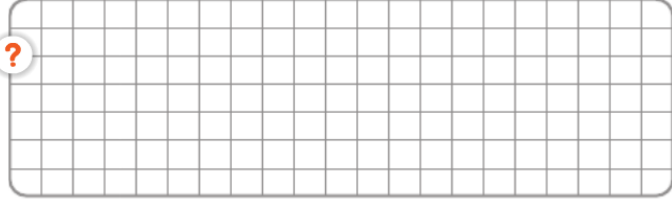
Bir Soru

Aşağıdaki cümlelerin hangisinde yazım yanlış yapılmıştır?

- A) Arabayı garaca park et.
- B) Bol bol meyve yemelisin.
- C) Büyüyünce ressam olacağım.

GENEL TEKRAR YAPALIM

8 onluk 4 birlikten oluşan sayıdan, 3 birlik 5 onluktan oluşan sayıyı çıkaralım.



Aşağıdaki işlemleri yapalım. İşlemleri sonuçları ile eşleştirelim.

$47 - 24 = \dots$

48

$58 - 10 = \dots$

23

$69 - 45 = \dots$

15

$27 - 12 = \dots$

19

$60 - 15 = \dots$

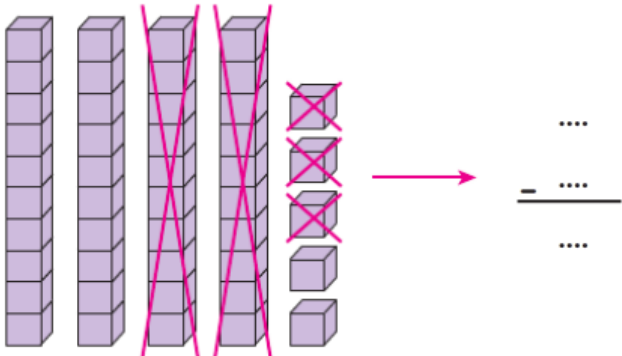
24

$98 - 41 = \dots$

57

45

Aşağıda onluk taban bloklarıyla modellenen çıkarma işlemini yapalım.



Onluk Bozmayı Gerektiren Çıkarma İşlemi

Aşağıdaki çıkarma işlemlerini yapalım. Sonucun bulunduğu sayının altındaki yuvarlağı boyayalım.

$50 - 24 = \square$ 26 27 28

$92 - 55 = \square$ 36 37 38

$75 - 19 = \square$ 56 57 58

Aşağıdaki çıkarma işlemlerini örnekteki gibi yapalım.

$$\begin{array}{r} 3 \ 12 \\ 42 \\ - 15 \\ \hline 27 \end{array}$$
 ?

?

$$\begin{array}{r} 82 \\ - 25 \\ \hline \dots \end{array}$$

?

$$\begin{array}{r} 50 \\ - 22 \\ \hline \dots \end{array}$$

$$\begin{array}{r} 40 \\ - 16 \\ \hline \dots \end{array}$$
 ?

?

$$\begin{array}{r} 75 \\ - 28 \\ \hline \dots \end{array}$$

?

$$\begin{array}{r} 41 \\ - 15 \\ \hline \dots \end{array}$$

33

37

+

Şemadaki boş kutucuğa hangi sayı yazılmalıdır?

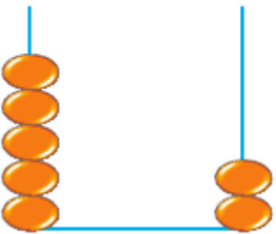


28

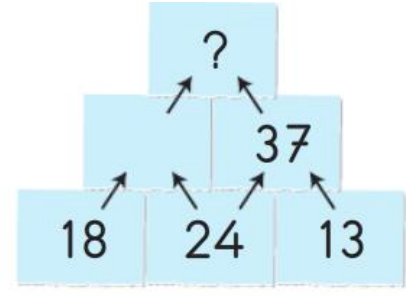
Yandaki sayıdan bir önce ve bir sonra gelen sayıların toplamı kaçtır?

+	15	16	17
25		A	
34			B

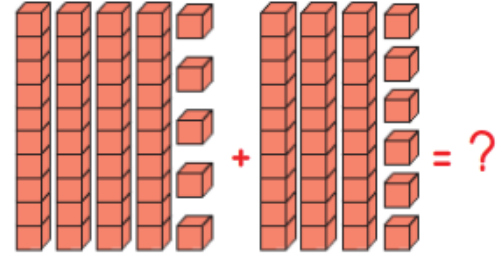
Toplama tablosuna göre A ve B yerine gelebilecek sayıların toplamı kaçtır?



Abaküste verilen sayının 18 fazlası, kaçtır?



Şekildeki oklara göre sayılar toplandığında “?” yerine hangi sayı gelir?



Taban bloklarıyla modellenen toplama işleminin doğru yapılışı aşağıdakilerden hangisidir?

Aşağıdakilerden hangisi eldeli toplama işlemidir?

A) $35 + 23 =$

B) $54 + 26 =$

C) $60 + 23 =$