

Adı:
Soyadı:



Matematik
2/A Çalışma Kağıdı



Aşağıdaki sayıları büyükten küçüğe doğru sıralayalım.


26 – 35 – 18 – 42

..... - - -


17 – 41 – 54 – 24

..... - - -

Üzerinde en büyük sayının yazılı olduğu armudu işaretleyelim.



Üzerinde en küçük sayının yazılı olduğu balonu işaretleyelim.



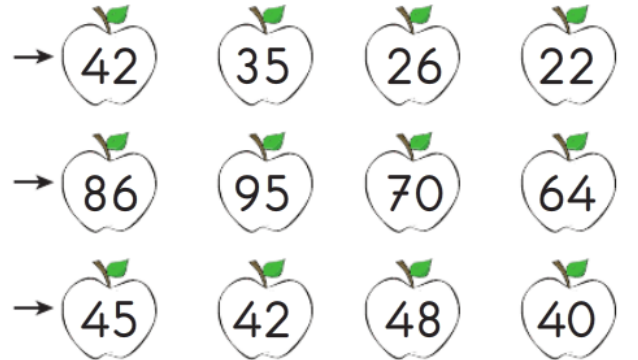
Aşağıdaki sayıları küçükten büyüğe doğru sıralayarak yazalım.

66	57	71	48
?			

82	91	28	63
?			

48	57	61	16
?			

Aşağıda, üzerinde en büyük sayının yazılı olduğu elmayı boyayalım.



Aşağıdaki sayılardan küçük üç sayı yazalım.



Aşağıdaki karşılaştırmalarda noktalı yerlere "büyüktür", "küçüktür" ve "eşittir" ifadelerinden uygun olanı yazınız.

- a) 12, 21'den g) 20, 30'dan
- b) 34, 18'den ğ) 45, 45'e
- c) 43, 41'den h) 26, 23'ten
- ç) 36, 25'ten ı) 81, 54'ten
- d) 52, 52'ye i) 63, 72'den
- e) 48, 50'den j) 49, 35'ten
- f) 39, 26'dan k) 83, 18'den

Aşağıda verilen sayılardan küçük 2 sayıyı örnekteki gibi yazınız.

36	44	52		63		91
		31		57		86

Aşağıda verilen sayılardan büyük 2 sayıyı örnekteki gibi yazınız.

57	64	78	83		91	
69			42		39	

Aşağıdaki sayıların arasına sıralamaya uygun bir sayıyı örnekteki gibi yazınız.

38	53	85	91		95	28		47
64		82	55		60	51		80

Aşağıdaki sayı ikililerinden küçük sayının bulunduğu kutucuğu boyayınız.

12	20	42	33	57	60	28	47	30	10	29	81
84	75	43	36	42	53	17	35	37	26	65	70

Mini Testim

56 54 75 79

32 29

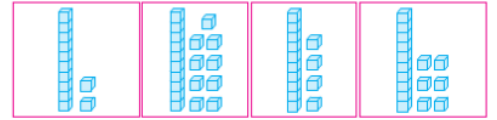
Karşılaştırmalardaki noktalı yerlere aşağıdaki ifadelerden hangisi yazılmaz?

- A) büyüktür
B) küçüktür
C) eşittir

81, 90, 27, 64

Verilen sayılar aşağıdakilerin hangisinde küçükten büyüğe doğru sıralanmıştır?

- A) 27, 64, 81, 90
B) 90, 81, 64, 27
C) 64, 81, 90, 27



Taban bloklarıyla modellenen sayılar aşağıdakilerin hangisinde büyükten küçüğe doğru sıralanmıştır?

- A) 19, 14, 16, 12
B) 19, 16, 14, 12
C) 12, 14, 16, 19

4	12
24	28	40

Yukarıdaki dörder ritmik saymada noktalı yerlere sıra ile hangi sayılar yazılmalıdır?

- A) 8 - 15 - 20 - 30 - 36
B) 8 - 16 - 20 - 32 - 36
C) 8 - 16 - 21 - 33 - 36