

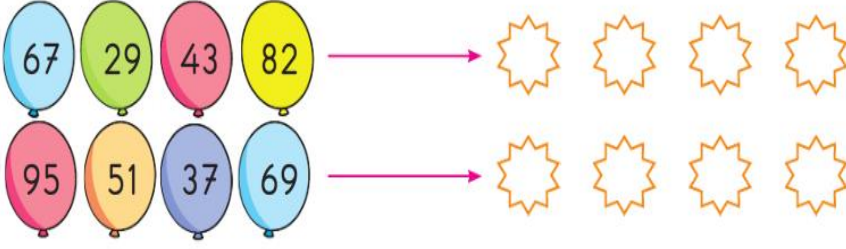
Adı:
Soyadı:



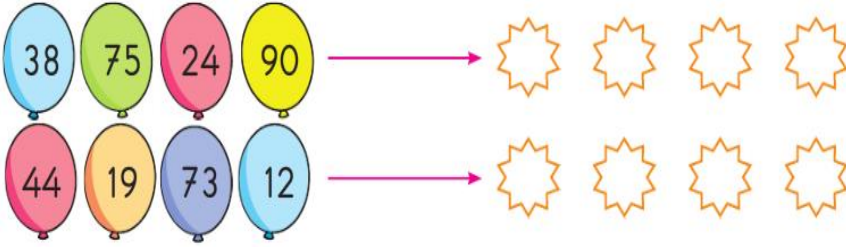
MATEMATİK
2/A Çalışma Kâğıdı



1. Balonlardaki sayıları, büyükten küçüğe doğru sıralayınız.



2. Balonlardaki sayıları, küçükten büyüğe doğru sıralayınız.



Tablodaki sayıları sıralayınız.

Büyükten küçüğe	Sayılar	Küçükten büyüğe
..... , , ,	28 64 98 70 , , ,
..... , , ,	81 36 56 59 , , ,
..... , , ,	75 11 58 24 , , ,
..... , , ,	63 72 39 95 , , ,
..... , , ,	40 67 38 85 , , ,
..... , , ,	17 63 84 57 , , ,
..... , , ,	21 51 89 73 , , ,
..... , , ,	53 32 44 76 , , ,
..... , , ,	94 35 82 15 , , ,
..... , , ,	18 67 99 45 , , ,

---Mini Test---

$$25 - 20 - 15 - \star - \blacksquare$$

Yukarıdaki örüntüde "★" ve "■" yerine hangi sayılar gelmelidir?

- A) 10 ile 5
B) 9 ile 10
C) 10 ile 15

$$4 - 8 - 12 - \blacktriangle - 20$$

Yukarıdaki örüntüde "▲" yerine hangi sayı gelmelidir?

- A) 14 B) 16 C) 18



Yukarıda modellenen örüntüde "?" olan yere kaç boncuk gelmelidir?

- A) 12 B) 13 C) 14

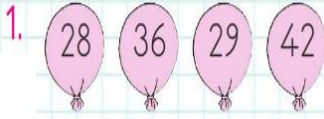
$$\dots \boxed{71} \dots$$

Tablodaki sayıdan 2 önce ve 3 sonra gelen sayılar yazıldığında tablo nasıl görünür?

- A) $\boxed{70} \boxed{71} \boxed{73}$
B) $\boxed{60} \boxed{71} \boxed{72}$
C) $\boxed{69} \boxed{71} \boxed{74}$

Sayı Problemleri

48	büyüktür	24	89	?	49
56	küçüktür	63	25	?	25
37	esittir	37	63	?	56
78	?	71	78	?	52
94	?	98	45	?	45
69	?	43	21	?	15
38	?	53	57	?	98



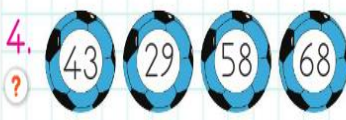
Yukarıdaki sayılardan en küçüğü hangi sayıdır?



Yukarıdaki sayılardan en küçük sayının 8 fazlası kaçtır?

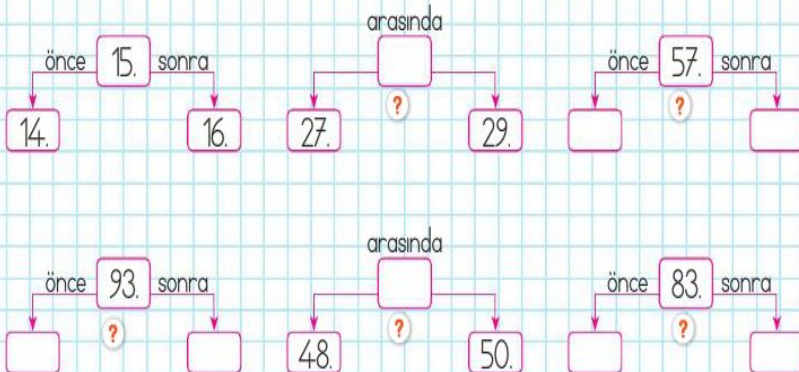


Yukarıdaki sayılardan en büyüğü hangi sayıdır?



Yukarıdaki sayılardan en büyük sayının 5 eksiği kaçtır?

Verilen sıra sayılarından bir önce, bir sonra gelen ve arasında olan sayıları belirleyip yazalım.



---Mini Testim---

64, 32, 80

Yukarıdaki sayıların en büyüğü hangisidir?

A) 64 B) 80 C) 32

50 53 61

Yukarıda küçükten büyüğe doğru sıralanmış sayılar arasındaki boş kutuya aşağıdaki sayılardan hangisi yazılamaz?

A) 74 B) 56 C) 60

▲, 46, 53, 67

Yukarıdaki sıralamada "▲" yerine yazılabilecek en büyük sayı kaçtır?

A) 21 B) 59 C) 45

88 87 33 65

Yukarıdaki sayıların büyükten küçüğe doğru sıralanışı aşağıdakilerden hangisidir?

A) 88, 65, 87, 33

B) 88, 87, 65, 33

C) 33, 65, 87, 88

65 büyüktür 6★'ten

Yukarıdaki karşılaştırmada "★" yerine aşağıdaki sayılardan hangisi yazılamaz?

A) 6 B) 3 C) 1