

Adı:
Soyadı:



3/A Çalışma Kağıdı

Tarih
...../...../2023

Okuyorum, Anlıyorum, Çözüyorum

TÜRKÇE

KURT İLE KÖPEK



Bir köpek ormanda gezerken kurtla karşılaşmış. Hasta ve çok zayıflamış olan kurt ayakta zor durabiliyormuş. Köpek kurdun bu haline çok üzülmüş. "Ne kadar kötü görünüyorsun böyle kurt kardeş? Herkes bizi düşman bilse de biz uzaktan akrabayız. Doğrusu sana yardım etmek isterim." demiş.

"Hiç sorma. Ağır bir hastalığa yakalandığım için uzun süre avlanamadım. Şimdi iyileştim ama bir av yakalayacak kadar gücüm kalmadı." demiş kurt.

"Sen hiç üzülme. Ben sana yardım edeceğim. Bu akşam sahibimin düğünü var. Akşam olunca köyün dışındaki çalılıklara gel. Sana düğün yemeklerinin artıklarını taşıyım." demiş köpek.

Birkaç gün boyunca köpek tarafından beslenen kurt sonunda kendini toparlayıp eski kuvvetine kavuşmuş. Teşekkür edip vedalaştıktan sonra da ormana gitmiş.

Aradan yıllar geçmiş. Köpek iyice yaşlanınca sahibi onu dışarı atmış. Ormanda aylak aylak gezen köpek, eski dostu kurtla karşılaşmış. "Hayrola?" demiş kurt. "Çok perişan görünüyorsun." Köpek içini çekip; "Yaşlandım artık. Sahibimin işine yaramadığım için beni kovdu." demiş. Kurt; "Biz eski dost değil miyiz?"

Şimdi yardım etme sırası bende. Hatırlasana benim hayatımı nasıl kurtarmıştın? Hemen bir plan yapmalıyız. Tamam buldum! Senin sahibinin küçük bir çocuğu vardı değil mi? Şimdi ben gidip onu kaçıracağım sen de geri götüreceksin. Böylece sahibin seni el üstünde tutacak." demiş.

Bu sözleri söyleyen kurt kaşla göz arasında gidip çocuğu ormana getirmiş. Köydeki herkes ormana koşmuş ancak daha ormana girmeden yaşlı ve işe yaramaz diye evden kovdukları köpeğin çocuğu geri getirdiğini görmüşler.

Bu olaydan sonra yaşlı köpeğin itibarı öyle artmış ki insanlar onun kahramanlığını yüzlerce yıl çocuklarına anlatmışlar.



1

Köpek, kurdun nasıl bir yardımda bulunmuş?

.....
.....
.....

2

Kurt, köpeğin yardımına nasıl karşılık vermiş?

.....
.....
.....

 Aşağıdaki ifadelerden deyim olanları işaretleyelim.

Ak akçe kara gün içindir.

Boynu kıldan ince olmak.

Süt dökmüş kedi olmak.


Ok yaydan çıkmak.

Yumurta kapiya dayanmak.

İyi insan lafının üstüne gelir.

Kaz gelecek yerden tavuk esirgenmez.

Yangına körükle gitmek.

 Aşağıdaki metinlerde parantez içlerine gelmesi gereken noktalama işaretlerini yazalım. Daha sonra metinle ilgili soruları cevaplayalım.

İki kardeşin evlerinin önü çok kir-
lenmişti() Seda() ()Sedat() evin
önünü süpürmeme yardım eder mi-
sin()() dedi()

Sedat() kardeşinin istediğini kabul
etti() Birlikte güzel-
ce evlerinin önünü
süpürdüler()



1 Metnin konusu nedir?



2 Metnin ana karakterini yazalım.



3 Metnin başlığı ne olabilir?



Bilge() kitap okumayı çok seven bir
kızdı() Kitapta hoşuna giden cüm-
lelerin altını çizdi() Yine kitap
okuduğu bir gün çok hoşuna giden
bir cümlenin altını çizdi() Sayfada
()Soru da bilgiden do-
ğar() cevap da()()
yazıyordu()



1 Metnin konusu nedir?




2 Metnin ana karakterini yazalım.




3 Metnin başlığı ne olabilir?



✏️ Aşağıdaki görselleri çağrıştıran üçer tane kelime yazalım.



1. _____
2. _____
3. _____



1. _____
2. _____
3. _____



1. _____
2. _____
3. _____



1. _____
2. _____
3. _____



1. _____
2. _____
3. _____



1. _____
2. _____
3. _____

✏️ Aşağıda verilen sözcüklerden anlamlı ve kurallı cümleler oluşturalım.

yağdığı yollar için
kapanmış kar



annem yaptı bu
yemekleri güzel



sonra yemekten yürüyüş
gitti yapmaya



ipler elimdeki yaptım
ile bileklik




şarkıyı güzel Alkan
söyledi en



attı tur çiftliğin
bir etrafında



 Aşağıdaki çarpma işlemlerini yapalım.

$$\begin{array}{r} 23 \\ \times 3 \\ \hline \dots \end{array}$$

$$\begin{array}{r} 14 \\ \times 2 \\ \hline \dots \end{array}$$

$$\begin{array}{r} 43 \\ \times 3 \\ \hline \dots \end{array}$$

$$\begin{array}{r} 21 \\ \times 2 \\ \hline \dots \end{array}$$

$$\begin{array}{r} 52 \\ \times 4 \\ \hline \dots \end{array}$$

$$\begin{array}{r} 66 \\ \times 7 \\ \hline \dots \end{array}$$

$$\begin{array}{r} 63 \\ \times 4 \\ \hline \dots \end{array}$$

$$\begin{array}{r} 48 \\ \times 3 \\ \hline \dots \end{array}$$

$$\begin{array}{r} 51 \\ \times 2 \\ \hline \dots \end{array}$$

$$\begin{array}{r} 97 \\ \times 4 \\ \hline \dots \end{array}$$

$$\begin{array}{r} 82 \\ \times 6 \\ \hline \dots \end{array}$$

$$\begin{array}{r} 78 \\ \times 4 \\ \hline \dots \end{array}$$

$$\begin{array}{r} 73 \\ \times 5 \\ \hline \dots \end{array}$$

$$\begin{array}{r} 39 \\ \times 8 \\ \hline \dots \end{array}$$

$$\begin{array}{r} 135 \\ \times 6 \\ \hline \dots \end{array}$$

$$\begin{array}{r} 219 \\ \times 3 \\ \hline \dots \end{array}$$

$$\begin{array}{r} 122 \\ \times 4 \\ \hline \dots \end{array}$$

$$\begin{array}{r} 199 \\ \times 3 \\ \hline \dots \end{array}$$

$$\begin{array}{r} 325 \\ \times 2 \\ \hline \dots \end{array}$$

$$\begin{array}{r} 177 \\ \times 5 \\ \hline \dots \end{array}$$

$$\begin{array}{r} 144 \\ \times 6 \\ \hline \dots \end{array}$$

$$\begin{array}{r} 218 \\ \times 4 \\ \hline \dots \end{array}$$

$$\begin{array}{r} 274 \\ \times 3 \\ \hline \dots \end{array}$$

$$\begin{array}{r} 463 \\ \times 2 \\ \hline \dots \end{array}$$

$$\begin{array}{r} \times \\ \begin{array}{|c|c|} \hline 6 & 4 \\ \hline 1 & 2 \\ \hline \end{array} \\ \hline \begin{array}{|c|c|c|} \hline & & \\ \hline & & \\ \hline \end{array} \\ \hline + \\ \begin{array}{|c|c|c|} \hline & & \\ \hline & & \\ \hline \end{array} \end{array}$$

$$\begin{array}{r} \times \\ \begin{array}{|c|c|} \hline 8 & 3 \\ \hline 1 & 9 \\ \hline \end{array} \\ \hline \begin{array}{|c|c|c|} \hline & & \\ \hline & & \\ \hline \end{array} \\ \hline + \\ \begin{array}{|c|c|c|} \hline & & \\ \hline & & \\ \hline \end{array} \end{array}$$

$$\begin{array}{r} \times \\ \begin{array}{|c|c|} \hline 3 & 8 \\ \hline 2 & 6 \\ \hline \end{array} \\ \hline \begin{array}{|c|c|c|} \hline & & \\ \hline & & \\ \hline \end{array} \\ \hline + \\ \begin{array}{|c|c|c|} \hline & & \\ \hline & & \\ \hline \end{array} \end{array}$$

$$\begin{array}{r} \times \\ \begin{array}{|c|c|} \hline 4 & 4 \\ \hline 2 & 5 \\ \hline \end{array} \\ \hline \begin{array}{|c|c|c|} \hline & & \\ \hline & & \\ \hline \end{array} \\ \hline + \\ \begin{array}{|c|c|c|} \hline & & \\ \hline & & \\ \hline \end{array} \end{array}$$

$$\begin{array}{r} 63 \\ \times 16 \\ \hline \end{array}$$

$$\begin{array}{r} \\ + \\ \hline \end{array}$$

$$\begin{array}{r} \\ + \\ \hline \end{array}$$

$$\begin{array}{r} 72 \\ \times 19 \\ \hline \end{array}$$

$$\begin{array}{r} \\ + \\ \hline \end{array}$$

$$\begin{array}{r} \\ + \\ \hline \end{array}$$

$$\begin{array}{r} 91 \\ \times 18 \\ \hline \end{array}$$

$$\begin{array}{r} \\ + \\ \hline \end{array}$$

$$\begin{array}{r} \\ + \\ \hline \end{array}$$

$$\begin{array}{r} 56 \\ \times 17 \\ \hline \end{array}$$

$$\begin{array}{r} \\ + \\ \hline \end{array}$$

$$\begin{array}{r} \\ + \\ \hline \end{array}$$

$$\begin{array}{r} 42 \\ \times 29 \\ \hline \end{array}$$

$$\begin{array}{r} \\ + \\ \hline \end{array}$$

$$\begin{array}{r} \\ + \\ \hline \end{array}$$

$$\begin{array}{r} 26 \\ \times 35 \\ \hline \end{array}$$

$$\begin{array}{r} \\ + \\ \hline \end{array}$$

$$\begin{array}{r} \\ + \\ \hline \end{array}$$

$$\begin{array}{r} 38 \\ \times 25 \\ \hline \end{array}$$

$$\begin{array}{r} \\ + \\ \hline \end{array}$$

$$\begin{array}{r} \\ + \\ \hline \end{array}$$

$$\begin{array}{r} 16 \\ \times 53 \\ \hline \end{array}$$

$$\begin{array}{r} \\ + \\ \hline \end{array}$$

$$\begin{array}{r} \\ + \\ \hline \end{array}$$

$$\begin{array}{r} 35 \\ \times 24 \\ \hline \end{array}$$

$$\begin{array}{r} \\ + \\ \hline \end{array}$$

$$\begin{array}{r} \\ + \\ \hline \end{array}$$

$$\begin{array}{r} 23 \\ \times 25 \\ \hline \end{array}$$

$$\begin{array}{r} \\ + \\ \hline \end{array}$$

$$\begin{array}{r} \\ + \\ \hline \end{array}$$

$$\begin{array}{r} 33 \\ \times 19 \\ \hline \end{array}$$


$$\begin{array}{r} \\ + \\ \hline \end{array}$$

$$\begin{array}{r} \\ + \\ \hline \end{array}$$

$$\begin{array}{r} 26 \\ \times 33 \\ \hline \end{array}$$

$$\begin{array}{r} \\ + \\ \hline \end{array}$$

$$\begin{array}{r} \\ + \\ \hline \end{array}$$

 Aşağıdaki cümleleri okuyalım. Evde tasarrufla ilgili olanları işaretleyelim.

Arızalı musluklar tamir edilmelidir.

Disler fırçalanırken musluk kapatılmalıdır.

Boşa yanan lambalar söndürülmelidir.


Arkadaşlarımızla kavga etmemeliyiz.

Komşular rahatsız edilmemelidir.

Oyuncaklarımızı dağıtmamalıyız.

Okuldan gelince kıyafetler çıkarılmalıdır.

Yatmadan önce lambalar kapatılmalıdır.

 Aşağıdaki ifadelerden doğru olanların başına "D", yanlış olanların başına "Y" koyalım.

Buzdolabı ürünlerimizin bozulmasını engeller.

Elektrik süpürgesini temizlik amaçlı kullanınız.

Çamaşır makinesi elektronik bir cihazdır.

Bulaşık makinesi, ütü ve fön makinesi mutfakta kullanılır.

→ Doğru olanlara ✓ yanlış olanlara x işareti koyalım.



Erhan



Mine



Aslı



Okan

- Erhan is happy.
- Mine is energetic.
- Aslı is tired.
- Okan is hungry.

→ Aşağıdaki görsellerle ifadeler eşleştirildiğinde hangisi dışarıda kalır? İşaretleyelim.

Lets dance.

Lets play guitar.

Lets swim.

Lets eat pizza.



→ Aşağıdaki ifadelerden uygun olanını boş bırakılan yerlere yazalım.

→ Lets dance.

→ Lets drink water.

→ Lets sleep.

→ Lets eat.

→ Lets cook.

→ Lets play football.

I am tired.

.....

I am happy.

.....

I am hungry.

.....

I am energetic.

.....

I am thirsty.

.....

I am hungry.

.....



Not : Ev için hazırlanan okuma parçaları en az 3 defa okunmalıdır. Bu parçamız **HİKAYE EDİCİ** bir metindir unutmayalım. Çalışmalar sınıf içindeki konuların tekrarı niteliğinde olduğu için çalışmalarını düzenli yapılmalıdır.