

Adı:

Değerlendirme - 2

Soyadı:



Bütün pasta eş parçalara ayrılmıştır. Parçalardan her birini ifade eden kesir hangisidir?

A.  $\frac{1}{4}$       B.  $\frac{4}{1}$       C.  $\frac{4}{4}$

2. Dokuzda üç

Okunuşu verilen kesir hangisidir?

A.  $\frac{9}{3}$       B.  $\frac{3}{9}$       C.  $\frac{1}{3}$

3.  $\frac{5}{12}$

Kesrinin okunuşu hangisidir?

- A. On ikinin beş katı  
B. Beşte on iki  
C. On ikide beş

4.  $\frac{5}{8}$

Kesir için hangisi doğrudur?

- A. Payı, paydasından büyüktür.  
B. Bütün 8 eş parçaya ayrılmıştır.  
C. Bütünün 3 eş parçası alınmıştır.



5. Yukarıdaki kabın dolu kısmını ifade eden kesir hangisidir?

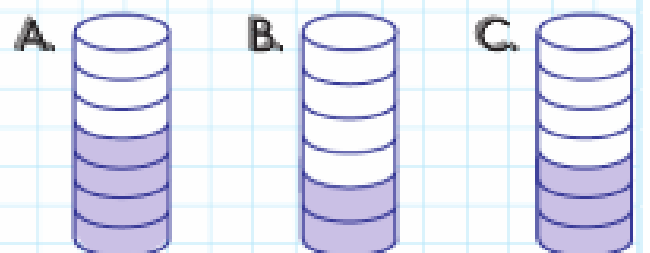
A.  $\frac{2}{4}$       B.  $\frac{2}{6}$       C.  $\frac{4}{6}$

6. Yukarıdaki kabın boş kısmını ifade eden kesir hangisidir?

A.  $\frac{4}{6}$       B.  $\frac{4}{2}$       C.  $\frac{2}{6}$

7.  $\frac{3}{7}$

Kesine karşılık gelen şekil hangisidir?



8.

$$\frac{3}{10}$$

Kesrinin birim kesri hangisidir?

A.  $\frac{1}{3}$       B.  $\frac{1}{10}$       C.  $\frac{10}{10}$

9.




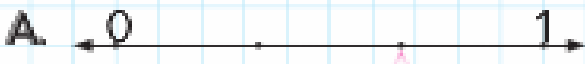
A noktasına karşılık gelen kesir hangisidir?

A.  $\frac{3}{5}$       B.  $\frac{2}{4}$       C.  $\frac{2}{5}$

10.

$$\triangle : \frac{3}{4}$$

Kesri hangisinde doğru olarak gösterilmiştir?



11. Aşağıdaki kesirlerden hangisi 1'den küçüktür?

A.  $\frac{7}{9}$       B.  $\frac{9}{9}$       C.  $\frac{12}{9}$

12. Aşağıdaki kesirlerden hangisi 1 bütüne eşittir?

A.  $\frac{1}{5}$       B.  $\frac{10}{5}$       C.  $\frac{5}{5}$

13.

$\frac{16}{100}$  kesri, ..... tane birim kesirden oluşur.

İfadesinde noktalı yere hangisi gelmelidir?

A. 1      B. 16      C. 100

14. Emel 45 TL'sinin  $\frac{1}{5}$ 'ini harcadı. Emel kaç TL harcadı?

A. 5      B. 7      C. 9

15. Hüseyin 48 sayfalık resim defterinin  $\frac{1}{4}$ 'üne resim yaptı. Hüseyin'in resim yapacak kaç sayfası kaldı?

A. 32      B. 36      C. 38

## MINİTEST

1. Orkun 28 misketinin  $\frac{1}{4}$ 'ini arkadaşına verdi. Orkun arkadaşına kaç misket verdi?  
A. 7                      B. 8                      C. 21
2. Taner 48 TL'sinin  $\frac{1}{6}$ 'ini harcadı. Taner'in kaç TL'si kaldı?  
A. 8                      B. 36                      C. 40
3. Çiftlikte 42 kümes hayvanı var. Bunların  $\frac{1}{2}$ 'i tavuk,  $\frac{1}{3}$ 'ü ise ördektir. Ördeklerle tavukların toplamı kaçtır?  
A. 25                      B. 35                      C. 38
4. Benim 48 boya kalemim var. Kalemlerimin  $\frac{1}{4}$ 'ü mavi,  $\frac{1}{8}$ 'i ise kırmızıdır. Mavi kalemlerimle, kırmızı kalemlerimin toplamı kaçtır?  
A. 14                      B. 16                      C. 18
5. Test kitabımdaki 84 sorunun  $\frac{1}{4}$ 'ünü yanlış yaptım,  $\frac{1}{7}$ 'ini boş bıraktım. Doğru yaptığım soru sayısı kaçtır?  
A. 51                      B. 52                      C. 53
6. Annem 80 TL'sinin  $\frac{1}{5}$ 'i ile meyve,  $\frac{1}{8}$ 'i ile sebze aldı. Anneme kaç TL kaldı?  
A. 44                      B. 54                      C. 64

- Aşağıdaki Nasreddin Hoca fıkralarına uygun noktalama işaretlerini koyalım.

### AĞAÇTAN DÜŞEN GELSİN

Hoca ağaçtan düşmüş  oflayıp  
pufluyor. Yanına gelenler   
 Azıcık sabırlı ol Hoca  Sanki  
ne olmuş da bu kadar nazlanırsın   
demişler   
Hoca   
 Siz hiç ağaçtan düştünüz mü   
diye sorunca hepsi birden "Hayır."  
demişler  Hoca da   
 Öyleyse siz gidin de ağaçtan  
düşen birisi gelsin yanıma  demiş

Hoca  Akşehir Gölü  nün kı-  
yısına oturmuş  Çevresinde   
kiler bir de bakmışlar ki Hoca  
çömleğinden çıkardığı kaşık kaşık  
yoğurdu göle boşaltıp karıştırmıyor-  
mu  Şaşkınlıkla sormuşlar   
 Hocam  ne yapıyorsun öyle   
 Göle yoğurt çalıyorum   
 Göl hiç yoğurt tutar mı   
 Ya tutarsa

1. ★ Soru cümlelerinin sonuna geli-  
rim.  
■ Satır sonuna sığmayan sözcük-  
leri ayırırım.  
● Eş görevli sözcükleri ayırırım.

Sembollerle gösterilen noktalama  
işaretleri hangisinde doğru olarak  
verilmiştir?

●	■	★
A) Nokta	Kısa çizgi	Ünlem
B) Soru işareti	Virgül	Nokta
C) Soru işareti	Kısa çizgi	Virgül

2. Babam Samsun  dan Ankara  ya  
uçakla gidecek

Yukarıdaki cümlede  ile gösteri-  
len yerlere hangi noktalama işa-  
retleri konulmalıdır?

- A)    B)     ?  
C)    ?

3. Aşağıdaki cümlelerin hangisinde  
noktalama işareti **yanlış** konulmuş-  
tur?


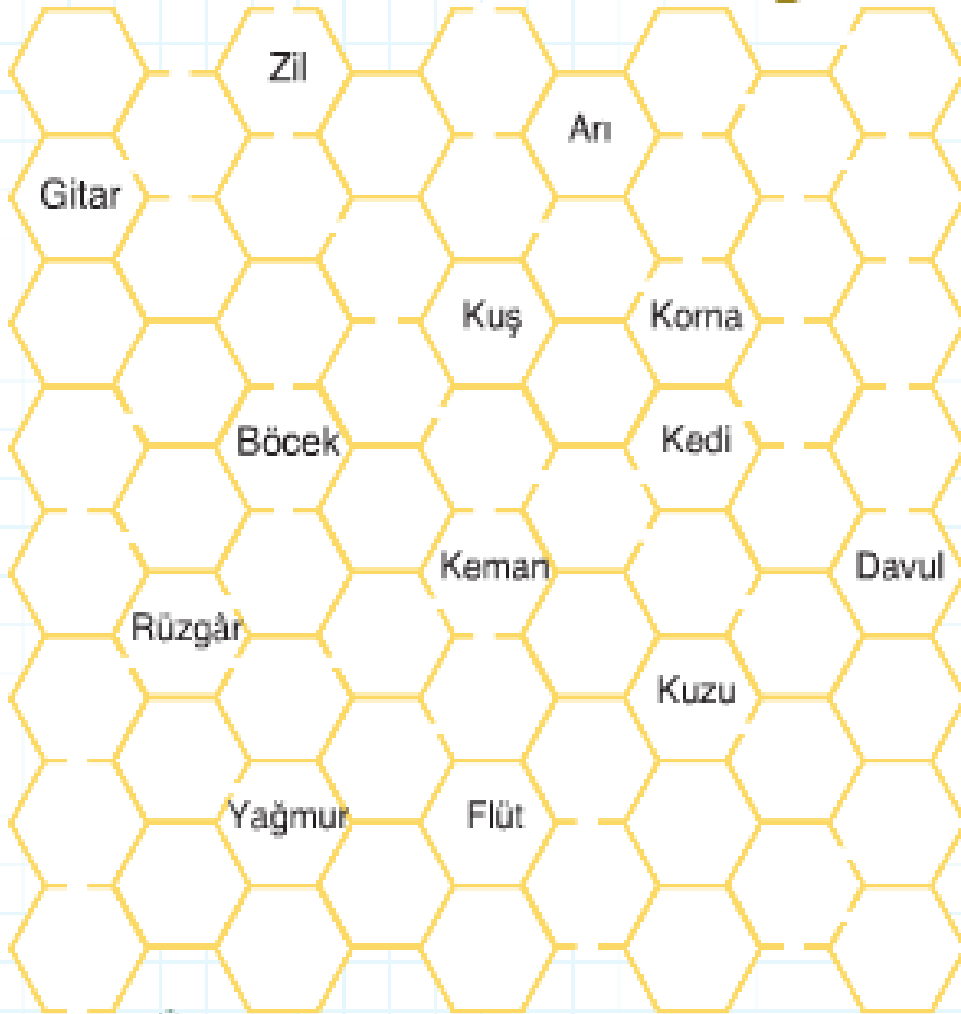

- A) Tatlı mı tatlı bir kız çocuğuydu?  
B) Ankara'daki müzeleri gezdik.  
C) Hangi hayvanı beslemek istiyor-  
sun?



## Çevremizdeki Sesler

3/G

- Küçük arı çiçeklerden aldığı polenlerle bal yapıyor. Biz de peteklerde yazan ses kaynaklarını doğal ve yapay ses kaynağı olarak ayıralım. Aşağıdaki tabloya yazalım ve arıya yardım edelim.



DOĞAL SES KAYNAKLARI:

YAPAY SES KAYNAKLARI: