

BALKABAĞI EVİ



Tavşan Şana'nın, ailesinden ayrılma vakti gelmişti. Artık kendi yuvasını kurmalıydı. Annesi, "Şana, sakın sana öğrettiklerimi unutma." dedi. Şana, annesinin tüm öğütlerini aklına yazmıştı. Diğer küçük tavşanlarla birlikte verimli toprakların olduğu bölgeye gitti. Topraklar verimliydi ama çok yağış alan bir bölgedeydi. O yüzden Şana, üstü eğimli ve daha geniş bir ev yapmaya karar verdi. Herkes kendi evinin yapımına başladı. Evler bittiğinde Şana'nın evine herkes gülmeye başladı. Diğer tavşanlar havuçtan dar bir ev, Şana ise bal kabağından geniş bir ev yapmıştı. Arkadaşlarının bu tavırları Şana'yı üzmüştü. Evine girip biraz yalnız kalmak istedi. Sonra annesinin sözü aklına geldi. "Kim-senin seni üzmesine izin verme." Arkadaşlarının bu tavırlarını umursamamaya başladı. Çünkü evini çok seviyordu. O evin içinde arkadaşları değil, kendisi yaşayacaktı.

Günlerden bir gün çok kuvvetli bir fırtına çıktı. Yağmur şiddetini git gide arttırı-yordu. Tüm evler su alıyordu. Havuçtan evler dar olduğu için içeri giren su çok çabuk yükselmişti. Bal kabağından ev ise daha geniş olduğu için suyun yükselmesi uzun zaman almıştı. Bu fırsattan yararlanan Şana evden hemen çıkmayı başardı. Diğer arkadaşları çıkamadığı için onlara da yardım etti. Arkadaşları, Şana'dan bu alaycı davranışları için özür dilediler. Şana onları affetmişti. Ancak o da evini tam anlamıyla yapamadığını fark etti. Çünkü daha büyük bir fırtınada yerle bir olacaktı.

Evinin tüm eksiklerini giderip daha da sağlamlaştırdı. Artık içi rahat bir şekilde evinde yaşayabilirdi.

Okuyorum, Anlıyorum, Çözüyorum

TÜRKÇE

Aşağıdaki boşlukları okuduğumuz metne uygun dolduralım.

- Günlerden bir gün çok kuvvetli bir çıktı.
- Tavşan ailesinden ayrılma vakti gelmişti.
- Şana, annesinin tüm aklına yazmıştı.
- toprakların olduğu bölgeye gitti.
- Evler bittiğinde Şana'nın evine herkes başladı.
- Evine girip biraz kalmak istedi.

Aşağıdaki ifadelerden doğru olanlara "D", yanlış olanlara "Y" yazalım.

- Şana havuçtan, arkadaşları bal kabağından ev yapmış.
- Havuç evlere giren yağmurun seviyesi daha hızlı yükselmiş.
- Şana, diğer arkadaşlarını kurtarmış.
- Arkadaşları, Şana'ya evden çıkmadığı için çok kızmış.
- Şana'nın evi de fırtınadan zarar görmüş.
- Arkadaşları el birliği ile Şana'nın evini onarmış.

Aşağıdaki soruları cevaplayalım. Doğru seçenekleri işaretleyelim.

1. Bal kabağı evin içine giren suyun seviyesi neden daha yavaş yükselmiş?
A. Geniş olduğu için
B. Dar olduğu için
C. Uzun olduğu için
2. Metnin ana karakteri hangi seçenekte verilmiştir?
A. Tavşan Şana
B. Arı Mona
C. Bal kabağı Tako

3. Aşağıdakilerden hangisi yukarıdaki metinde geçen hava olayı olabilir?



Aşağıdaki kelimelerin zıt anlamlılarını bulmacada bulup yazalım. Bulmacada bir sayı azla yazılmıştır. O sayıyı bulup yuvarlak içine alalım.

kış	otur	özgürlük	zor	sahte
korkak	önce	ucuz	kaba	üretici
uslu	varlık	çirkin	tümsek	üzüntü

1 →	N				2 →	Y				
3 →	E				4 →	C				
5 →	Ç				6 →	S				
7 →	G				8 →	B				
9 →	Y				10 →	K				
11 →	K				12 →	G				
13 →	P				14 →	S				
15 →	T				16 →	Y				

Aşağıda karışık olarak verilen cümleleri olayların oluş sırasına göre sıralayalım.



- Rahat rahat uyudu.
- Çantasından ödevlerini çıkardı.
- Derslerini güzelce yaptı.
- Ayça eve geldi.

CÜMLE	Nokta	Virgül	Soru İşareti	Ünlem İşareti
Manavdan üzüm() elma ve kivi aldı()	✓	✓		
Eyah() yetişemedim()				
Kitabını okudun mu()				
Bugün mutluyum() huzurluyum()				
Dikkat() Düşeceksin()				
Sevgili babacığım()				
Yaşasın() kazandım()				
Nasıl zıplayabildiğini anlayamadım()				
Çevremizi temiz tutalım()				
Evde fındık() fıstık ve ceviz yedi()				

Araştır ve Boşlukları Doldur

Aşağıdaki cümleleri uygun kelimelerle tamamlayalım.



Kaymakam



Yerel



Muhtar



Valisinden

- Belediye ve muhtarlık yönetimlerdir.
- Kaymakam, bağlı bulunduğu ilin aldığı emirleri uygular.
- ilçe yönetiminin başında bulunur ve valiyeye bağlı olarak çalışır.
- Köy ve mahalleleri yönetir.

Aşağıdaki deyimler ile anlamlarını eşleştirelim.

Burnundan solumak

Geri dönmeyecek bir iş yapmak.

İçi içine sığmamak

Çok sevinmek

Zıyan etmek

Davranışlarıyla önem ve değer kazanmak.

Ok yaydan çıkmak

Çok sinirlenmek.

Göze girmek

Boş yere harcamak.

Aşağıdaki cümlelerdeki adları bulalım ve altını çizelim. Daha sonra cümledeki ad sayısını örnekteki gibi salyangozun üstüne yazalım.

2 Ahmet, evine koşarak gitti.

Ağlamadım.

Gözlüğünü aldı ve taktı.

Annesini göremeyince üzüldü.

Ali ile İrem parkta oynadılar.

Ezgi sınıfa girdi.

Bahçedeki kazlar koşuyorlar.

Süt içtiği için kemikleri gelişti.

Ela çiçeklerini suladı.

Teyzem kurabiye yaptı.

Aşağıdaki ifadeleri okuyalım. Doğru olanlara "D", yanlış olanlara "Y" yazalım.

- Bitkiler kendi besinlerini üretebilirler.
- Bütün bitkiler meyve verir.
- Bitkiler de diğer canlılar gibi su, hava, toprak ve güneşe ihtiyaç duyar.
- Çimlenme, bitkilerin yaşam döğüsüne ait bir kavramdır.
- Ekmek, elma ve domates gibi besinler bitkilerden elde edilir.
- Bitkilerdeki gelişimleri gözlemleyerek anlayabiliriz.
- Erişkin bitki, meyvesini ve tohumunu üretmeye başlar.
- Bütün meyveler yeşil renklidir.

My House

İNGİLİZCE

1. Soruları resme göre cevaplayalım.

1. Has she got a sofa in the living room?

.....

2. Has she got a bed in the living room?

.....

3. Has she got a chair in the living room?

.....

4. Has she got a cat in the living room?

.....

5. Has she got a cup in the living room?

.....



2. Örnekteki gibi soruları yazıp cevaplayalım.



1. Where is the kettle?
It is on the chair.



2.?
.....



3.?
.....



4.?
.....



5.?
.....

2. "in, on, under" kullanarak cümleleri tamamlayalım.



1. My dog isin.....
the box.



4. The kettle is
the table.



2. The cat is
the table.



5. My sister is
the bathroom.



3. My car is
the bed.



6. The cat is
the box

2. Aşağıdaki tabloyu örnekteki gibi dolduralım.

temiz

oyunlar

alanlarda

dikkatli

akrobatik

kurallara

kask

- ▶▶ Oyunlarımızı oynamalıyız.
- ▶▶ Yaşımıza uygun seçmeliyiz.
- ▶▶ Güvenli oyun oynamalıyız.
- ▶▶ Oyun oynarken uymalıyız.
- ▶▶ Oynadıktan sonra oyuncakları bırakmalıyız.
- ▶▶ Araç üstüdeyken hareketler yapmamalıyız.
- ▶▶ Bisiklet veya kayak kullanırken takmalıyız.



2. Aşağıdaki görselleri inceleyerek varlıkların canlı ya da cansız olduğunu belirtelim.



Canlı Cansız



Canlı Cansız



Canlı Cansız




Canlı Cansız




Canlı Cansız



Canlı Cansız



Canlı Cansız



Canlı Cansız


Etkinlik

Aşağıdaki problemleri çözelim, bulduğumuz saate göre akrep ve yelkovanları çizelim.

1. Evden saat 08.00'de çıkan Kuzey, 2 saat 15 dakika sonra eve gelmiştir. Buna göre Kuzey eve geldiğinde saat kaç gösterir?




2. Ceren'in piyano kursu 16.00'da başlayıp 1 saat 30 dakika sürdüğüne göre Ceren piyano kursundan saat kaçta çıkar?



3. Kaya film izlemeye başladığında saat 11.30'u gösteriyordu. Film 2 saat 15 dakika sürdüğüne göre film bittiğinde saat kaç gösterir?



4. Bir futbol maçı 90 dakikadır. Saat 15.00'te başlayan maç bittiğinde saat kaç gösterir?



5. Derslerin 40'ar dakika, tenefüslerin 10'ar dakika olduğu bir okulda ilk ders 09.00'da başlıyor. 2 ders bittikten sonra saat kaç gösterir?



6. Akşam 19.00'da soru çözmeye başlayan Kerem 1 saat 45 dakika boyunca soru çözmüştür. Kerem soru çözmeyi bitirdiğinde saat kaç gösterir?



Saat 9.00'da başlayan ders 40 dakika sürdüğüne göre tenefüs zili saat kaçta çalar?

Saat 9.00'da başlayan ders 09.40'ta bittiğine göre ders kaç saat sürmüştür?

Saat 13.15'te film izlemeye başlayan Batu, 2 saat 10 dakika boyunca film izlemiştir. Film bittiğinde saatine bakan Batu saatin kaç olduğunu görmüştür?

Saat 13.15'te film izlemeye başlayan Batu film bittiğinde saatin 15.25 olduğunu görmüştür. Buna göre film kaç saat sürmüştür?

Arya ve Ceren saat 16.00'da oyun oynamaya başlamış ve 1 saat 50 dakika oyun oynamıştır. Oyun bittiğinde saat kaç gösterir?

Arya ve Ceren saat 16.00'da oyun oynamaya başlamış ve 17.50'de oyunlarını bitirmişlerdir. Buna göre kaç saat oyun oynamışlardır?

Can saat 15.00'te yürümeye başlamış ve 1 saat 45 dakika yürümüştür. Can yürüyüşünü bitirdiğinde saat kaç olur?

Can saat 15.00'te yürümeye başlamış ve 16.45'te yürümeyi bitirmiştir. Can kaç saat yürümüştür?

Sabah saat 7.00'de yola çıkan bir otobüsün yolculuğu 7 saat sürmüştür. Buna göre otobüsün yolculuğu bittiğinde saat kaç gösterir?

Sabah saat 7.00'de yola çıkan bir otobüs varacağı yere 14.00'te varmıştır. Buna göre bu otobüs kaç saat yolculuk yapmıştır?

Etkinlik

Aşağıdaki problemleri çözelim.

Yanda verilen saat 1 saat 20 dakika sonra saat kaç gösterir?



Şenol, kum saatini saat 10.00'da çeviriyor ve tam boşaldığında saatin 11.00 olduğunu görüyor. Buna göre kum saati kaç saatte boşalıyor?



Yanda verilen saat, 1 saat 25 dakika önce saat kaç gösterir?



1 saatte boşalan bir kum saati, 15.00'te başlayıp, 17.00'de biten film boyunca kaç kez çevrilir?



Yanda verilen saatte başlayan film 2 saat 15 dakika sürerse saat kaçta biter?



1 saatlik bir kum saati 14.15'te başlayıp, 18.15'te biten bir yolculukta kaç kez çevrilir?

