

## OKUDUĞUNU ANLAMA

### AĞAÇLAR

Ağaçların baharda nasıl çiçek açtığına dikkat ettiniz mi? İskelet gibi kupkuru ağaçlar, bir sabah karşımıza çiçeklerle süslenmiş olarak çıkar. Bu değişim hiç gürültü yapmadan, hiçbir şekilde göze çarpmadan olur.



Hiçbir insan gözü, ağaçta çiçeklerin ne zaman oluştuğunu gözlemlememiştir. Yine sessizlik içinde yeşil yapraklar açacak, renkli yemişler dallardan sarkacaktır.

En hafif rüzgârda, en çok gürültü çıkaran yapraksız kış ağaçlarıdır. Kışın "Vuuuvv" diye ses çıkarırken, baharda en büyük fırtınada bile bu ağaçların sallanışında ancak tatlı bir hışırtı duyulur.

- 1. Metinde bize yöneltilen soru hangi seçenekte yer almıştır?**  
A. Ağaçların yapraklarının nasıl döküldüğü.  
B. Ağaçların baharda nasıl çiçek açtığı.  
C. Ağaçların nasıl meyve verdiği.
- 2. Kış mevsiminde ağaçlar neye benzetiliyor?**  
A. rüzgara                      B. fırtınaya                      C. iskelete
- 3. Baharda ağaçlar sallandığında nasıl ses çıkarır?**  
A. "vuuuv" diye                      B. gürültülü                      C. tatlı bir hışırtıyla
- 4. Metne göre en hafif rüzgârda en çok gürültü çıkaran nedir?**  
A. ormandaki hayvanlar  
B. yapraksız ağaçlar  
C. trafikteki araçlar

Aşağıda verilen sözcüklerin zıt anlamlılarını karşlarına yazalım.

yüksek



alçak

kuru



?

ağır



?

açık



?

uzun



?

zengin



?

küçük



?

yaşlı



?

içeri



?

soğuk



?

Aşağıda görselleri verilen kelimeleri sözlükteki sırasına göre yazalım.



1

?

2

?

3

?

4

?



1

?

2

?

3

?

4

?



1

?

2

?

3

?

4

?

Aşağıda verilen görsellerin nesne sayılarını rakamla ve yazıyla yazalım.




?

.....



?

.....



?

.....



?

.....

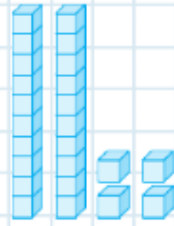
Aşağıda rakamla yazılmış sayıların okunuşlarını yazalım.

24 : yirmi dört      ? 43 : .....      ? 82 : .....  
18 : .....      ? 91 : .....      ? 46 : .....  
42 : .....      ? 80 : .....      ? 27 : .....  
51 : .....      ? 75 : .....      ? 26 : .....  
63 : .....      ? 59 : .....      ? 93 : .....  
72 : .....      ? 23 : .....      ? 77 : .....


### Onluk ve Birlik



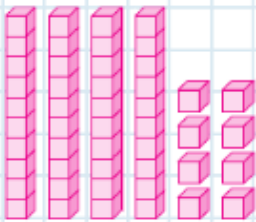
3 onluk 5 birlik  
35 otuz bes




? ..... onluk ..... birlik  
.....




? ..... onluk ..... birlik  
.....



..... onluk ..... birlik  
.....




? ..... onluk ..... birlik  
.....




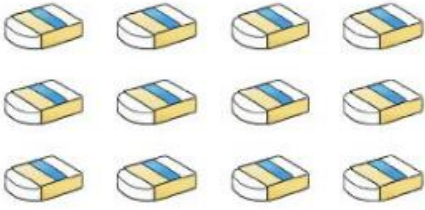
? ..... onluk ..... birlik  
.....




Varlık sayısı bir desteden az olan top gruplarını işaretleyiniz.






Sayısı bir desteden çok olan varlık gruplarını işaretleyiniz.



Varlık sayısı bir düzine olan meyve grubunu işaretleyiniz.



Varlık sayısı bir düzineden **az olan** sebze gruplarını işaretleyiniz.



Varlık sayısı bir düzineden **çok olan** fincan gruplarını işaretleyiniz.

