
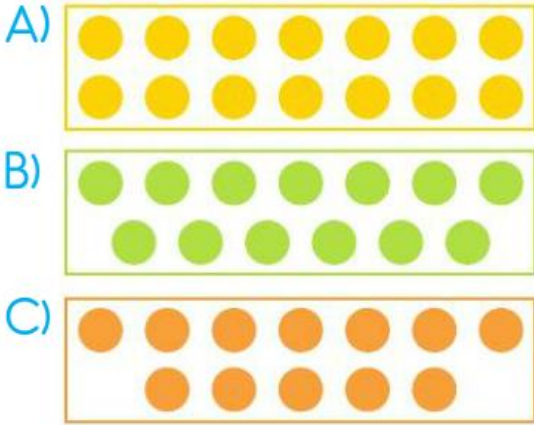


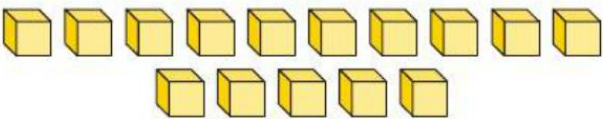
MATEMATİK TEMA DEĞERLENDİRME

1.  Yandaki kalemlikteki kalemlerin sayısı aşağıdakilerden hangisidir?

A) 8 B) 7 C) 6

2. Aşağıdaki seçeneklerin hangisinde 14 tane boncuk vardır?



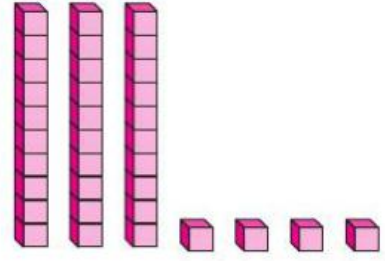
3. 

Yukarıdaki kutuları onluk ve birlik olarak gruplandırırsak kaç birlik oluşur?

A) 1 B) 3 C) 5

4.

?



Yukarıda sayı bloklarıyla gösterilen sayıda kaç tane onluk vardır?


A) 3 B) 4 C) 7

5.


?



Bu çileklerin sayısı için aşağıdakilerden hangisi söylenebilir?


A)  1 onluk ve 4 birliğe eşittir.

B)  1 onluk ve 5 birliğe eşittir.

C)  1 onluk ve 6 birliğe eşittir.

6.

?



Yandaki tablonun içinde kaç tane nokta vardır?


A) 34

B) 36

C) 38

7.

?



Yukarıdaki düğmeleri onluk gruplara ayırdığımızda kaç deste düğme olur?

A) 1 deste

B) 2 deste

C) 3 deste

8.

?



Yukarıdaki boya fırçalarıyla 1 düzine oluşturursak kaç tane fırça artar?

A) 1

B) 2

C) 3

9.

?

Aşağıdaki çocuklardan hangisi diğerlerinden farklı bir sayı ifade etmiştir?

A)



1 onluk ve 2 birlik kadar kalemim var.

B)



Okulun bahçesine 1 düzine fidan diktik.

C)



Sınıfımızdaki erkek öğrencilerin sayısı 1 desteye eşit.

10



Bu mumların 1 onluk oluşturabilmesi için aşağıdaki mumlardan hangisi eklenmelidir?

A)



B)



C)

