

Adı:

Soyadı:

### BAHÇEDEKİ ÇİÇEKLER

Sinan, eve geldiğinde öğretmenin okulda söylediklerini düşündü. Öğretmeni şöyle demişti:

— Hepimiz aynı bahçenin farklı renklerde çiçekleri gibiyiz. Kimimiz güzel şarkı söylüyor, kimimiz futbol oynuyor, kimimiz matematiği, kimimiz Türkçe dersini seviyor, kimimiz alıngan, kimimiz şakacı. Hepiniz aynı olsaydınız hayat ne sıkıcı olurdu.

Sinan herkesin yeteneklerinin ve karakterinin farklı olduğunu düşünerek: “Ben menekşeyim galiba.” dedi.

Aşağıdaki soruları metne göre cevaplayalım.

1. Öğretmen öğrencileri neye benzetmiş?

.....

2. Öğretmene göre herkes aynı olsaydı ne olurmuş?

.....

3. Sinan kendini hangi çiçeğe benzetmiş?

.....

B. Aşağıdaki cümlelerde ( ) ile belirtilen yerlere uygun noktalama işaretleri koyalım.

\* Ebru( )nun kalemi bende kalmış( )

\* Çatalları( ) kaşıkları ve tabakları masaya koyar mısın( )

C. Aşağıda verilen sözcüklerden baş harfi her zaman büyük yazılanların başındaki kutucuğu işaretleyelim.

Mahalle	Caner	Kurban Bayramı	Fırın	Halay
Akvaryum	Şen Sokak	İzmir	Akdeniz	Ağrı Dağı

Aşağıdaki adlara getirilen ekleri kesme işaretiyle ayırarak yeniden yazalım.

Aydının	→	.....	Van Gölünde	→	.....
---------	---	-------	-------------	---	-------

### Mini Test

Sanayi Caddesi	23 nisan 1920	Zafer bayramı	Atatürk İlkokulu
----------------	---------------	---------------	------------------

Yukarıdaki ifadelerden kaç tanesinin yazılışı doğrudur?

A) 2

B) 3

C) 4

Tüh, anahtarımı evde unuttum

Yukarıdaki cümlelerin sonuna hangi noktalama işareti konmalıdır?

A) ?

B) ,

C) !

Efe(1) Yiğit ve Berat(2)la körebe oynadık(3)

Yukarıdaki cümlede numaralandırılmış yerlere hangi noktalama işaretleri konulmalıdır?

- |    |          |          |          |
|----|----------|----------|----------|
|    | <u>1</u> | <u>2</u> | <u>3</u> |
| A) | (,)      | (')      | (.)      |
| B) | (')      | (,)      | (?)      |
| C) | (,)      | (')      | (')      |

Aşağıda verilen metinlerin konularını yazalım.

Sema eve geldiğinde ablası mutfaktaydı. Önce salonda boş yere çalışan televizyonu ve müzik setini kapattı. Ardından damlayan musluğu, boş yere yanan lambaları kapattı. Yaptığı tasarrufu düşünerek mutlu bir şekilde odasına gitti.

? **Metnin Konusu**

.....

.....

.....

.....

Emel, televizyonda izlediği haberde, eziyet edilen hayvanları görünce çok üzüldü. Sonuçta onlar da bir canlıydı ve hiçbir canlı eziyet görmeyi hak etmiyordu. Emel çok üzüldüğü bu konuyla ilgili olarak bir afiş hazırladı. Öğretmeninin izniyle afişini okul panosunda sergiledi.

? **Metnin Konusu**

.....

.....

.....

.....

Aşağıda verilen olayları oluş sırasına göre numaralandırıp sıralayalım.

- ?  Sonra problemin çözümü için yapacaklarımızı planlayalım.
- ?  Son olarak da yaptıklarımızı kontrol edelim.
- ?  İlk önce problemi anlayana kadar okuyalım.
- ?  Daha sonra işlemlerimizi yapalım.

- ?  En sonunda tavukları yeniden kümeslerine kapattı.
- ?  Sonra tavukları dışarı çıkardı.
- ?  Tavuklar gezinirken onlara yemlerini attı.
- ?  İlk önce kümesin kapısını açtı.

### KARDAN ADAM

- Önce üç tane top şeklinde kar kütlesi yuvarlanır.
- Sonra çalıdan kol yapılır.
- Kar kütleleri üst üste konur.
- En sonunda şapkası ve atkısı takılır.
- Daha sonra havuçtan burun, kömürden göz yapılır.



Aşağıdaki bölme işlemlerini yapınız.

$$\begin{array}{r} 8 \ 2 \\ \hline \end{array}$$

?

$$\begin{array}{r} 15 \ 3 \\ \hline \end{array}$$

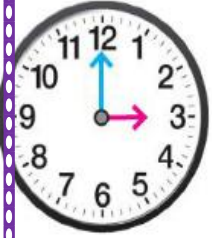
?

$$\begin{array}{r} 12 \ 4 \\ \hline \end{array}$$

?

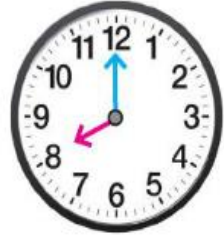
$$\begin{array}{r} 20 \ 5 \\ \hline \end{array}$$

Aşağıdaki saatlerin kaç gösterdiklerini örnekteki gibi altlarına yazınız.



?

saat üç



?



?



?

Aşağıdaki boşluklara günlerin isimlerini yazınız.

Dün	
Bugün	Pazartesi
Yarın	

?

Dün	Salı
Bugün	
Yarın	

Dün	Çarşamba
Bugün	
Yarın	

Dün	
Bugün	
Yarın	Salı

Mevsimlere ait ayları tablodaki yerine yazınız.

SONBAHAR		
..... EYLÜL .....	..... EKİM .....	..... KASIM .....
KİŞ		
.....	.....	.....
İLKBAHAR		
.....	.....	.....
YAZ		
.....	.....	.....

### ZAMAN ÖLÇME İLE İLGİLİ PROBLEMLER

- Celal, 45 dakika boyunca ders çalıştı.  
**Celal kaç dakika daha ders çalışırsa 1 saat çalışmış olur?**  
.....  
.....  
.....
- Elif günün 18 saatini evde, geriye kalan zamanı okulda geçirmektedir.  
**Buna göre, Elif günün kaç saatini okulda geçirmektedir?**  
.....  
.....  
.....
- Betül cumartesi ve pazar hariç her gün okulda çalışmaktadır.  
**Betül 4 haftada kaç gün çalışmış olur?**  
.....  
.....  
.....



Aşağıdaki paraların toplam kaç TL olduğunu örnekteki gibi yazınız.



12 TL



?



?



?



Yukarıdaki paraların toplam değeri kaç TL'dir?

A) 34

B) 35

C) 39

## PARALARIMIZ İLE İLGİLİ PROBLEMLER

1. 4 tane 10 TL ile 2 tane 20 TL'nin toplamı kaç TL'dir?

?

2. Nükhet, tanesi 3 TL olan kalemlerden 2 tane alıp satıcıya 10 TL veriyor. Nükhet kaç TL para üstü alır?

?

3. Nilsu, kırtasiyeden 7 TL'ye bir cetvel ile 3 TL'ye bir kitap alıyor. Nilsu satıcıya kaç TL ödemelidir?

?

4. Marketten 78 TL'lik alışveriş yapan bir kişi, kasiyere 2 tane 10 TL ile 3 tane 20 TL veriyor. Kaç TL para üstü alır?

?

5. Nihat'ın 4 tane 50 kr. ile 3 tane 5 TL'si vardır. Nihat'ın parası 50 TL'den kaç TL azdır?

?

?

?

?

?

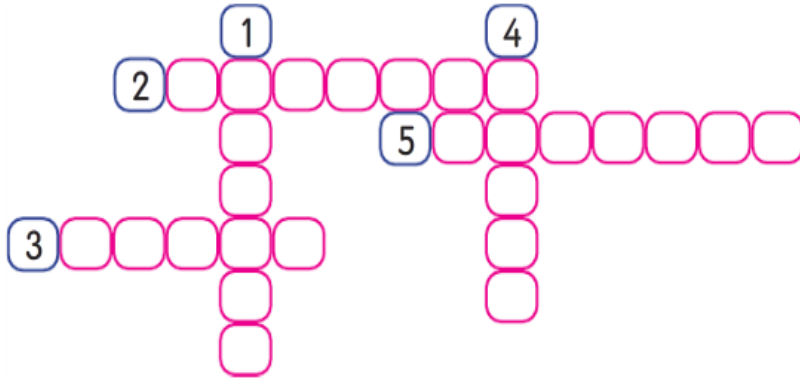
?

Aşağıdaki cümleler doğru ise cümlelerin başına "D", yanlış ise "Y" yazalım.

- Mevsiminde yenen sebze ve meyveler daha besleyicidir.
- Kışın bizi serin tutan kıyafetler tercih etmeliyiz.
- Mevsime göre giyinmek sağlığımızı korur.
- Her mevsim, her meyveyi yemeliyiz.
- Beslenme temel ihtiyacımızdır.
- Atkı ve eldiveni kışın takarız.

Verilen bilgilere göre bulmacayı dolduralım.

- 1) Bayramda ziyaret ettiğimiz, kan bağıyla bağlı olduğumuz kişiler.
- 2) Oruç tutulan ay.
- 3) Misafirlere sunulanlar.
- 4) Ulusal Egemenlik ve Çocuk Bayramı'nın kutlandığı ay.
- 5) Konuk.



1. Verilen resmi ifade eden seçenek aşağıdakilerden hangisidir?



- A) touch your nose
- B) close your eyes
- C) open your mouth

- 2.



Yukarıdaki vücut bölümleri hangi seçenekte doğru sıralanmıştır?

- A) mouth nose eye
- B) eye nose mouth
- C) eye mouth nose

- 3.



Yukarıdaki öneri cümlesini görsele göre tamamlayan şık aşağıdakilerin hangisinde doğru verilmiştir?

- A) run
- B) slide
- C) ride

4. How many red balloons are there?



Aşağıdaki görsele göre verilen soruyu cevaplayınız.

- A) two
- B) three
- C) one

- 5.



Do you jump?



Yes, I do.

Yukarıdaki diyalogta bahsedilen aktivite hangi şıkta doğru verilmiştir?

- A)
- B)
- C)

6. Resmi ifade eden seçenek hangisidir?



- A) a cat      B) a dog  
C) a rabbit

7. .... are the birds?



The birds are in the tree.

Yukarıdaki diyalogu tamamlayan seçenek hangisidir?




- A) How      B) What  
C) Where

8. Resimde anlatılan kelime hangisidir?



- A) Head      B) Finger  
C) Ear

Aşağıdaki eşleştirmelerden hangisi doğrudur?

- A)  fish  
B)  bird  
C)  turtle

Resmi ifade eden seçenek hangisidir?



- A) dogs      B) turtles  
C) fishes

Resmi anlatan seçeneği bulunuz.






- A) I like apples.  
B) I don't like apples.  
C) Give the apples.



Resimdeki etkinliği anlatan seçeneği bulunuz.

- A) Hide and seek  
B) Chess  
C) Skip rope

Seçeneklerden hangisinde eşleştirme yanlıştır?




- A)  football  
B)  dance  
C)  slide

Seçeneklerden hangisi vücudun bölümlerinden biri değildir?

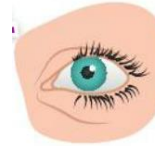
- A) Desk      B) Mouth  
C) Head

Touch your knee.

Yukarıdaki cümleyi anlatan resim hangi seçenekte verilmiştir?

- A)       B)   
C) 

A: What is this?  
B: It's an .....



Yanıt cümlesini doğru tamamlayan seçeneği bulunuz.

- A) eye      B) mouth  
C) ear

2/A Sınıfı Çalışmaları  
Enes SERT