

Adı Soyadı: _____

FIRINCI İLE ÇİFTÇİ

Bir fırıncı, tereyağını yakınında oturan bir çiftçiden alıyordu. Bir gün, üç kilo olması gereken tereyağı paketini hafif buldu. Bundan sonra da aldığı tereyağlarını tartmaya başladı. Tereyağları gittikçe daha hafif geliyordu. Fırıncı sonunda kızdı ve dava açtı. Hakim çiftçiye "Senin bir terazin yok mu?" diye sordu.



— Var efendim.

— Kiloların?

— Kiloya lüzum yok!

— Kilon yok da tereyağını nasıl tartıyorsun?

— Çok kolay. O benden tereyağı aldığımda ben de ondan ekmek alıyorum. Terazinin bir kefesine üç tane kiloluk ekmek koyuyorum. Eğer tereyağı eksik geliyorsa bu benim değil, onun hatasıdır.

Neşeli Öyküler 1

1 Metnin ana düşüncesini işaretleyiniz.

- Doğru söyleyeni dokuz köyden kovarlar.
- Aza kanaat etmeyen çoğu bulamaz.
- Ne ekersen onu biçersin.

2 Metnin konusunu işaretleyiniz.

- Fırıncı ile çiftçinin dostluğu
- Fırıncı ile çiftçinin arasındaki anlaşmazlık
- Fırıncı ile çiftçinin ortaklığı

3 Fırıncı, çiftçiden ne alıyormuş?

- Tereyağı
- Peynir
- Süt

4 Fırıncı niçin dava açmış?

- Tereyağları bayatladığı için
- Tereyağlarının lezzeti değiştiği için
- Tereyağları gittikçe hafiflediği için

Aşağıdaki cümlelerde **virgül yanlış yerde** kullanılmıştır. Virgülleri örnekteki gibi doğru yerlere koyunuz.

a. Çocuk deniz kenarında oynuyor.

? d. Küçük ağaçlara tırmanıyor.

b. Toprak yolun kenarına serpiştirildi.

? e. İhtiyar gazeteciyle tanıştı.

Aşağıdaki tabloda verilen cümlelerin ait olduğu grubu işaretleyiniz.

	Cümleler	Duygusal	Abartılı
a.	Gözyaşlarım sel oldu.		
b.	Bütün canlıları seviyorum.		
c.	Seni görünce çok mutlu oldum.		
ç.	Arı sokunca ayağım davul kadar şişti.		
d.	Babamın işten erken dönmesine çok sevindim.		

Aşağıdaki cümlelerin bildirdiği yargıyı işaretleyiniz.

Cümleler	Duygu	Düşünce	Haber
Tilkiyi ziyarete karar vermiş.			
Tilki, Keloğlanı görünce şaşırılmış.			
Tilki, evini barkını bırakıp kaçmış.			
Bir daha onu kimse görmemiş.			
Keloğlan hayvanları çok severmiş.			

Aşağıdaki atasözleri hangi konuda öğüt vermektedir? Eşleştirerek gösteriniz.

- 1 İşten değil, dışten artar. Dostluğun önemi
- 2 Dost dostun aybını örter. Eğitimin önemi
- 3 Dost acı söyler. Birlikte hareket etme
- 4 Ekmeden, biçilmez. Çalışmanın önemi
- 5 Ağaç yaşken eğilir. Tasarrufun önemi
- 6 Nerede birlik, orada dirlik. Gerçekleri anlatmak

Ben ağaç olmadan önce bir şeftaliydim. Bir sepete doldurulmuş yüz tane şeftalinin arasındaydım. Bahçıvan sepetin altını üstünü yeşil asma yapraklarıyla örtmüştü. Güneş ışınları, yaprakların arasından sızarak kabuğumuza ulaşıyor, al renkli ince görüntümüzü daha çekici yapıyordu. Bahçıvan hemen fark edileyim diye sepetteki şeftalilerin en üstüne koydu. Çünkü diğer şeftalilerden daha iri ve albeniliydim.

Samed BEHRENGİ



İri şeftaliyi **kim** sepetin en üstüne koydu?

Bahçıvan, sepetin altını üstünü **ne** ile örtmüştür?

Güneş ışınları kabuğa **nasıl** ulaşıyor?

İri şeftali **nerede** duruyordu?

Bölme İşlemi

Aşağıdaki bölme işlemlerini yapınız.

a. $27 \overline{) 4}$ $36 \overline{) 4}$ $91 \overline{) 7}$ $84 \overline{) 4}$ $56 \overline{) 7}$

b. $75 \overline{) 6}$ $84 \overline{) 3}$ $67 \overline{) 2}$ $78 \overline{) 4}$ $65 \overline{) 3}$

Aşağıdaki problemleri çözünüz.

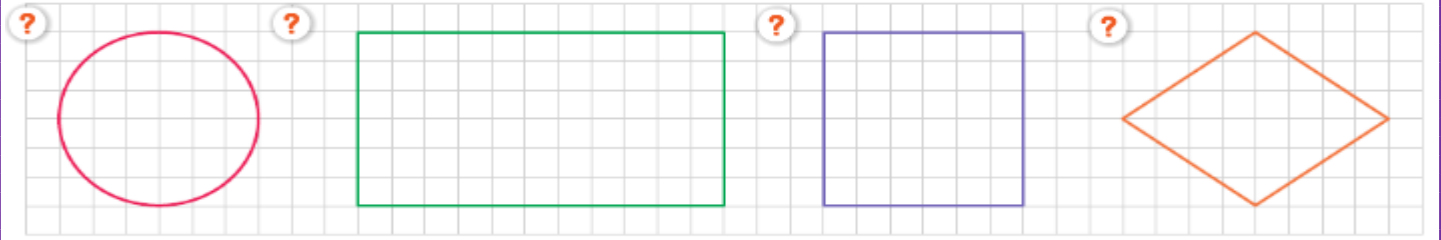
- a. 42 kalem 6 kişiye eşit şekilde paylaştırılıyor. Her birine kaç kalem düşer?

- c. 5 deste kalem için 100 ₺ ödedik. 5 tane kalem alsaydık kaç lira öderdik?

- b. Bir manav 75 kg elmayı beşer kilogramlık poşetlere dolduruyor. Bir poşeti 20 ₺'den sattığına göre eline geçen para kaç liradır?

- ç. Bir çiftlikteki koyunların ayak sayıları toplamı 64, tavukların ayak sayıları toplamı 36'dır. Bu çiftlikte toplam kaç koyun ve tavuk vardır?

Aşağıdaki bütünlerin yarısını boyayınız.



Aşağıdaki verilenleri bulmacadan bularak işaretleyiniz.



M	Y	I	L	D	I	Z	J	İ	P
E	F	G	G	Ü	N	E	Ş	A	R
Ş	A	C	K	F	B	Ç	E	M	O
A	Y	N	A	E	U	V	Y	P	J
L	Z	T	N	N	I	J	K	U	E
E	Ö	P	D	E	M	U	M	L	K
A	C	F	İ	R	Z	I	M	S	T
I	Ş	I	L	D	A	K	G	Ğ	Ö
E	L	F	E	N	E	R	İ	M	R

Aşağıda verilen ses kaynaklarından doğal ses kaynağı olanlara "D", yapay ses kaynağı olanlara "Y" yazınız.

<input type="checkbox"/> Kuş	<input type="checkbox"/> ?	<input type="checkbox"/> Flüt	<input type="checkbox"/> ?	<input type="checkbox"/> İnsan	<input type="checkbox"/> ?	<input type="checkbox"/> Radyo
<input type="checkbox"/> Telefon	<input type="checkbox"/> ?	<input type="checkbox"/> Şimşek	<input type="checkbox"/> ?	<input type="checkbox"/> Davul	<input type="checkbox"/> ?	<input type="checkbox"/> Düdük
<input type="checkbox"/> Rüzgâr	<input type="checkbox"/> ?	<input type="checkbox"/> İnek	<input type="checkbox"/> ?	<input type="checkbox"/> Şelale	<input type="checkbox"/> ?	<input type="checkbox"/> Uçak

Aşağıdaki görselleri ifade eden sözcükleri eşleştiriniz.



lastik

buzdolabı

çam ağacı

şarj cihazı

ambulans

e-posta



Aşağıdaki cümleler yoldan karşıya geçerken dikkat etmemiz gerekenlerle ilgilidir. Karışık verilen cümleleri oluşlarına göre numaralandırarak sıralayınız.

Sonra sağa bakmalıyız.

?

Önce sola bakmalıyız.

?

Tekrar sola bakmalıyız.

?

Araç yoksa dik olarak karşıya geçmeliyiz.

?

Yolun ortasına gelindiğinde tekrar sağa bakmalıyız.

?

Yine koşmadan hızlı adımlarla geçişi tamamlamalıyız.

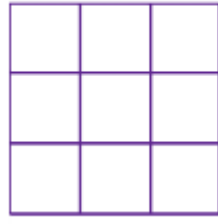
?

A

Aşağıdaki şekillerin birim kesir kadarnı boyyalım, kesirleri yazalım.



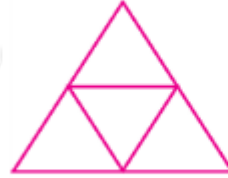














Bütün, yarım ve çeyrek modellerini kesirle gösterelim.




? _____



? _____



? _____



? _____



? _____



? _____



? _____



? _____



? _____



? _____



? _____



? _____



? _____



? _____



? _____



? _____