



Çok iyi yürekli bir çocuk vardı. Adı Tatar Neko'ydu. Güldüğü zaman dudaklarının arasından dişleri sedef gibi parıldar, yanaklarında gamzeleri belirirdi. Fakat yetimdi. Mezarlık çitinin yanında, korucunun onu bulduğu günden bu yana altı yıl geçmişti. Korucu onu alarak Tişa Ana'nın yanına götürmüştü. Tişa Ana'nın kimsesi yoktu. Yalnız yaşıyordu. Onu beslemiş ve koca bir oğlan olana kadar büyütülmüştü.

Bir sabah Tişa Ana, Neko'yu erkenden uyandırdı. Koruya gidip kuru odun toplamasını istedi. Neko, evden çıktı. Kuru dalları toplayıp koca bir yığın yaptı.

(\*İyi Yüreklilik" adlı hikâyeden düzenlenmiştir.)

1. Metinde Neko ile ilgili hangisinden söz edilmemiştir?

- A) Gamzeleri vardır.
- B) Babası yoktur.
- C) Yedi yaşındadır.
- D) Korucu tarafından bulunmuştur.

2. Neko'yu kim büyütülmüştür?

- A) Korucu
- B) Anne ve babası
- C) Korucunun karısı
- D) Tişa Ana

3. Neko niçin koruya gitmiştir?

- A) Kuru odun toplamak için
- B) Yiyecek toplamak için
- C) Korucuyu görmek için
- D) Gezmek için

4. Hangi sözcük sözlükte diğerlerinden sonra yer alır?

- A) buluşma
- B) bulanık
- C) butik
- D) buğdaylı

"Çantamdaki iki paket bisküviti

1 2 3

kardeşime vermeyi düşünüyorum."

4 5

5. Hangi rakam veya rakamların üzerindeki sözcük veya sözcükler yanlış yazılmıştır?

- A) 2
- B) 3
- C) 3-4
- D) 2-4-5

kalın sert uzun


6. Yukarıdaki sözcüklerin zıt anlamlıları sırasıyla hangi seçenekte verilmiştir?

- A) sert - sıska - geniş
- B) ince - yumuşak - kısa
- C) sıvı - geniş - dar
- D) narin - tombul - sırk


7. "Zengin" sözcüğünün zıt anlamı hangi cümle içinde kullanılmıştır?

- A) Dün, arkadaşıyla birlikte geldiler.
- B) Köyün yoksul çocukları gülümsüyordu.
- C) Tamir edilen radyo sahibine verildi.
- D) Su içmek için uzun zaman bekledi.

1. Hangi öğrenci yandaki doğal sayıyı doğru yazmıştır? **5708**

A)  Beş bin yedi yüz on sekiz

B)  Beş bin yedi yüz sekiz

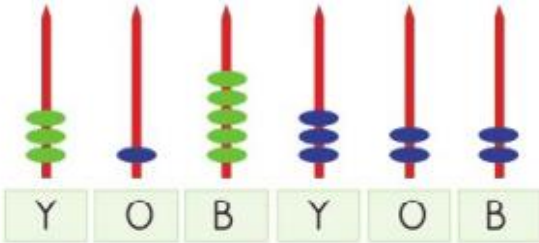
C)  Beş bin yüz sekiz

D)  Beş bin yüz on sekiz

**23 695**

2. Yukarıdaki doğal sayının birler bölümünde hangi sayı bulunmaktadır?

- A) 95                      B) 23  
C) 695                    D) 3695



3. Yukarıdaki abaküste gösterilen doğal sayıyı hangi öğrenci doğru bilmiştir?

A)  315302

B)  315322

C)  315212

D)  203513



Birler bölümü : 418

Binler bölümü : 29

4. Mehtap'ın bölüklerini yazdığı doğal sayıyı hangi öğrenci doğru yazmıştır?

A)  41829

B)  418020

C)  29418

D)  290418

5. Aşağıdaki hangi doğal sayının yüzler basamağındaki rakam ile birler basamağındaki rakamların toplamı 11'dir?

- A) 306574  
B) 478469  
C) 965635  
D) 287367

**60 000 + 9000 + 300 + 70 + 5**

6. Yukarıda çözümlenmesi verilen doğal sayının rakamları toplamı kaçtır?

- A) 31                      B) 30  
C) 29                      D) 28

**500 000 + 20 000 + 3000 + 10 + 5**

7. Yukarıda çözümlenmesi verilen doğal sayı hangisidir?

- A) 523015                      B) 520315  
C) 523115                      D) 52315

Kayaçlar minerallerden meydana gelmiştir.

D

Y

Kayaçların ufalanması sonucu ilk önce kum oluşur.

Kayaçların parçalanması ile kayalar oluşur.

D

Y

D

Y

1. Çıkış

2. Çıkış

3. Çıkış

4. Çıkış

1. Yukarıdaki ifadelerin oklarını doğru veya yanlış olması durumuna göre takip ettiğimizde hangi çıkışa ulaşırız?

A) 1  
C) 3

B) 2  
D) 4

2. Aşağıdaki madenlerden hangisi daha çok otomotiv sanayisinde kullanılır?

A)



altın

B)



gümüş

C)



kömür

D)



demir

3. Aşağıdaki madenler ve kullanım alanları eşleştirmelerinden hangisi yanlıştır?

A) kömür → termik santral

B) bor → temizlik maddesi

C) mermer → tarım

D) bakır → elektrik elektronik

4. Buna göre aşağıdakilerden hangisi fosil oluşumunda canlı kalıntısının hava almamasını sağlar?

A) toprak

B) deniz

C) kaya

D) su

5. Aşağıdakilerden hangisi kayaçlar konusunda örnek olarak verilebilecek Kapadokya'daki doğal güzelliklerimizdendir?

A)



B)



C)



D)



6. Aşağıda görselleri verilen madenlerden hangisi kuyumcu mesleği için önemlidir?

A)



altın

B)



bor

C)



kömür

D)



kurşun

7.



Yukarıdaki görseller hangi konu için örnek verilebilir?

A) fosil

B) maden

C) kayaç

D) mineral

## Birey ve Toplum

1. Zerrin ve Yiğit ikiz kardeşlerdir.

Bu iki kardeşin nüfus cüzdanlarında aşağıdakilerden hangisi farklıdır?

- A) baba adı
- B) uyrukları
- C) doğum tarihi
- D) T.C. kimlik numarası

2. Bir kişinin nüfus cüzdanını incelediğimizde, kişi hakkında aşağıdaki bilgilerden hangisini edinemeyiz?

- A) karakter özellikleri
- B) cinsiyeti
- C) anne adı
- D) doğum tarihi

3. ① Pasaport

② Sürücü belgesi (Ehliyet)

③ Ajanda

④ Evlilik Cüzdanı

⑤ Sigorta kartı

Kaç numaralı belgeler, kimlik belgesi yerine kullanılır?

- A) ② ③ ④
- B) ① ② ③ ⑤
- C) ① ② ③ ④ ⑤
- D) ① ② ④ ⑤

4. \* İstanbul'a geldiğimde ilkokula başladım.

\* 13 yıldır bir doğal gaz firmasında çalışmaktayım.

\* Kemah'ta doğdum.

□ İTÜ Makine Mühendisliği Bölümünü 1995'te bitirdim.


Mustafa Bey'e ait yukarıdaki bilgileri kronolojik sıraya koyarsak sembollerin sıralaması nasıl olur?


- A) \* □ \* \*
- B) \* □ \* \*
- C) \* \* \* □
- D) \* \* □ \*


5. Aşağıdakilerden hangisi nüfus cüzdanımızda yer almaz?


- A) Anne adımız
- B) Baba adımız
- C) Saç rengimiz
- D) Doğum tarihimiz

6. Hangi öğrenci yanlış bilgi vermiştir?

A)  Nüfus cüzdanımızın yalnızca önündeki bilgiler kullanılır.

B)  Nüfus cüzdanımızı resmî işlerde kullanırız.

C)  Nüfus cüzdanımızda anne adımız yazılıdır.

D)  Nüfus cüzdanımızda doğum tarihimiz yer alır.

*33 soru var. Her soru 3 puan. 1 puan da kağıt düzenimize vereceğiz.*

1.



Resimdeki durumu anlatan cümleyi seçiniz.

- A) Please come in.
- B) Quiet, please.
- C) Clean the board, please.
- D) Turn around, please.

2.

Give me the book, please.

Cümledeki durumu ifade eden resmi seçiniz.

- A)
- B)
- C)
- D)

3.



Resme göre doğru şıkkı işaretleyiniz.

- A) This is a pencil case.
- B) That is a desk.
- C) This is a school bag.
- D) That is an eraser.

4.

Is this a ruler or a book?

Doğru şıkkı işaretleyiniz.

- A) Yes, it is.
- B) No, it isn't.
- C) They're pens.
- D) It's a ruler.

5.



Open your books, please.



Say that again, please.



.....

Boş bırakılan yere gelecek doğru şıkkı işaretleyiniz.

- A) Open your books, please.
- B) Listen to me, please.
- C) Open the window, please.
- D) Look at me, please.

6. Rumeysa ödev yapmaya başlayınca bir eşyasını sınıfta unuttuğunu fark ediyor.



Görsele göre Rumeysa, hangi eşyasını sınıfta unutmuştur?

- A) pencil
- B) ruler
- C) pencil case
- D) pencil sharpener