




Adı Soyadı :

Ödev Kontrol :



Veli Kontrol:

BİLMECELER

Aşağıda verilen bilmecelerin yanıtlarına uygun görseli işaretleyiniz.

Başı yok, ayağı yok,
Gövdesi var kolu var.



Attım rafa, bir kuru kafa,
Yemesi tatlı, maymun suratlı.



Üstünden el gider,
Altından sel gider.



Git gelinim, gel gelinim,
Yol üstünde dur gelinim.



Bilmece bildirmece,
Resim yapar, gündüz gece.



Bir kocaman kuşum var,
Hep aynı yere konar.



Aşağıda verilen bilmecelerin yanıtlarını araştırarak atlarına yazınız.

Boya kalkar ısırır,
Havlamadan ısırır.

.....

Yedi delikli tokmak,
Bunu bilmeyen ahmak.

.....

Dağa gider seslenir,
Eve gelir yaslanır.

.....

Dört konaklık yolum var,
Her biri üç ay sürer.

.....

Yol üstünde durur.
Gelene geçene buyurur.

.....

Dağdan gelir taştan gelir.
Bir kükremiş aslan gelir.

.....

Daldan dala atlarım,
Kuyruğumdan sarkarım.

.....

İnci gibi dişlerim,
Odonları dişlerim.

.....

Beş dallı bir ağaç,
Onlar yoksa kaldın aç.

.....

Ağızlarda toz olur,
Beş on yerken yüz olur.

.....

Çarşıdan aldım kapkara,
Eve getirdim kıpkırmızı.

.....

İki dereeden su gelir,
Beş parmak karşı gelir.

.....

Uzaktan baktım dev gibi,
Yanına vardım ev gibi.

.....

Kanadı var kuş değil,
Yolları yokuş değil.

.....

Ağız var, dili yok.
Haber verir, sözü çok.

.....



Bilmece çözmek eğlencelidir (22)

RESİMDE GİZLENEN NESNELERİ BULALIM NO:71



yelkenli

zil



golf sopası



kalem



pasta



solucan




yüzük



muz



kano




kitap



kek



diş fırçası



bayrak



YAĞMUR YAĞIYOR MU?

Eylül'e yeni bir şemsiye alındı. Eylül şemsiyeyi kullanmak için sabırsızlanıyordu. Her sabah yağmur yağıyor mu, diye camın önüne koşuyordu. Bir sabah annesi "Eylülcüğüm, şemsiyeni yanına almalısın." dedi. Henüz yağmur yağmıyordu. Annesi yağmur yağacağını nasıl anlamıştı?

Cümlelerdeki boşlukları metne uygun şekilde tamamlayalım.

camın önüne

kullanmak için sabırsızlanıyormuş

yağmur

şemsiye

Şemsiyeni yanına almalısın.

nasıl

1 Eylül'e yeni bir alınmış.

2 Her sabah yağmur yağıyor mu, diye
..... koşuyormuş.

3 Bir sabah annesi " "
demiş.

4 Annesi Eylül'ü uyardığında henüz yağmı-
yormuş.

5 Annesi yağmurun yağacağını anlamış?

6 Eylül, şemsiyeyi

HAYAT BİLGİSİ

→ Kişisel alanla ilgili verilen ifadelerden doğru olanların yıldızını maviye, yanlış olanların yıldızını kırmızıya boyayalım.



Kişisel alan, kendimizi güvende hissettiğimiz alandır.



Sınırlarımızı bazen görmezden gelebiliriz.



Ailemiz kişisel alanımıza girebilir.



Tanımadığımız kişiler, kişisel alanımıza giremez.



Sıra arkadaşımız kişisel alanımıza müdahale edebilir.



Oyun oynarken arkadaşlarımız bize dokunabilir.


→ Verilen görsellerin hangisinde kişisel alana dikkat edilmektedir? İşaretleyelim.





Düşün anla ve çöz 😊

GEOMETRİK ŞEKİL ÖRÜNTÜLERİ

Aşağıdaki örüntüleri 3 adım daha devam ettirelim.



Aşağıdaki örüntüleri boyayarak devam ettirelim.



ÖRÜNTÜNÜN KURALINI BULALIM - Ev Etkinliği

Aşağıdaki örüntülerin kuralını bulup altlarına yazar mısın?



Blank grid for writing the rule of the hedgehog and rabbit pattern.



Blank grid for writing the rule of the starfish and fish pattern.



Blank grid for writing the rule of the pumpkin and eggplant pattern.



Blank grid for writing the rule of the kayaker and car pattern.



Blank grid for writing the rule of the letter pattern.



Blank grid for writing the rule of the happy and sad face pattern.



Blank grid for writing the rule of the rabbit and carrot pattern.



Blank grid for writing the rule of the trophy and basketball pattern.

a) Aşağıdaki çıkarma işlemlerini yapınız.

1. ?

$$\begin{array}{r} 9 \\ - 3 \\ \hline \end{array}$$

.....

2. ?

$$\begin{array}{r} 11 \\ - 5 \\ \hline \end{array}$$

.....

11. ?

$$\begin{array}{r} 7 \\ - 5 \\ \hline \end{array}$$

.....

12. ?

$$\begin{array}{r} 9 \\ - 6 \\ \hline \end{array}$$

.....

3. ?

$$\begin{array}{r} 10 \\ - 7 \\ \hline \end{array}$$

.....

4. ?

$$\begin{array}{r} 12 \\ - 6 \\ \hline \end{array}$$

.....

13. ?

$$\begin{array}{r} 13 \\ - 8 \\ \hline \end{array}$$

.....

14. ?

$$\begin{array}{r} 11 \\ - 6 \\ \hline \end{array}$$

.....

7. ?

$$\begin{array}{r} 15 \\ - 7 \\ \hline \end{array}$$

.....

8. ?

$$\begin{array}{r} 16 \\ - 8 \\ \hline \end{array}$$

.....

17. ?

$$\begin{array}{r} 15 \\ - 5 \\ \hline \end{array}$$

.....

18. ?

$$\begin{array}{r} 17 \\ - 11 \\ \hline \end{array}$$

.....

9. ?

$$\begin{array}{r} 17 \\ - 9 \\ \hline \end{array}$$

.....

10. ?

$$\begin{array}{r} 18 \\ - 9 \\ \hline \end{array}$$

.....

19. ?

$$\begin{array}{r} 18 \\ - 12 \\ \hline \end{array}$$

.....

20. ?

$$\begin{array}{r} 20 \\ - 10 \\ \hline \end{array}$$

.....

BİR PROBLEMİM VAR !!!

SORU: Bir bahçede 3 köpek ve 3 tavuk vardır. Bu bahçedeki hayvanların ayak sayısını işlem yaparak bulabilir misin?

