

Adı:
Soyadı:



Matematik -Türkçe
2/A Çalışma Kağıdı



Tarih
...../...../2023

2.
SINIF

Ad-Soyad: Sınıfı: No:

Toplama İşlemini Gerektiren Problemleri Çözme ve Kurma



1

?



18TL

Oyuncak ayı bez bebekten 20 TL daha pahalıdır.

Oyuncak ayı kaç TL'dir?

ÇÖZÜM:

2

?

Bir çiftlikte 28 koyun ve koyunlardan 17 fazla da inek vardır. Bu çiftlikte toplam kaç hayvan vardır?

ÇÖZÜM:

3

?

Sınıfımızda 18 erkek, 12 kız vardır. Sınıfımızın mevcudu kaçtır?

ÇÖZÜM:

4

?

Aysu'nun 12 TL'si vardı. Annesi 7 TL, babası da 10 TL verdi. Aysu'nun kaç TL'si oldu?

ÇÖZÜM:

5

?

22 sayısının 7 fazlası kaçtır?

ÇÖZÜM:

6

?

Sedef 12 yaşındadır. Annesi Sedef'ten 36 yaş daha büyüktür. Sedefin annesi kaç yaşındadır?

ÇÖZÜM:

7

?

Mehmet 27 yaşındadır. Mehmet 5 yıl sonra kaç yaşında olacaktır?

ÇÖZÜM:

8

?

Bahçemizde 2 tane kiraz, 16 tane zeytin ve 28 tane de badem ağacı bulunmaktadır. Bahçemizde kaç tane ağaç vardır?

ÇÖZÜM:

• Noktalama İşaretleri •

Aşağıdaki cümlelerde ○ içindeki yerlere gelmesi gereken noktalama işaretlerini koyalım.

- Öğrenciler 16 ○ 06 ○ 2020 günü karne alacaklar ○
- Bugün bütün ödevlerimi bitirdim ○
- Ayşe ○ akşam bize gelir misin ○
- Hey ○ bu tarafa doğru gelin ○
- Dr ○ Fikret Bey beni muayene etti ○
- Av ○ Eylül Hanım geldi mi ○
- Sınıfımız ○ bilgi yarışmasında 1 ○ oldu ○
- İzleyeceğimiz film saat 21 ○ 30 ○ da başlayacak ○

Eş ve Zıt Anlamlı Kelimeler

Aşağıdaki cümleleri karşıt (zıt) anlamlılarıyla tamamlayalım.

- Sınavın kötü mü geçti yoksa mi?
- Annem kirli elbiselerimi çıkardı elbiseleri giydirdi.
- Yaş pastayı mı seversin mu?
- Filmi gündüz mü izleyeceğiz yoksa mi?
- Önce kolay soruları çöz, soruları çöz.
- Marketteki yiyecekler doğal mı yoksa mi?
- Arabayı itelim mi yoksa mi?
- Sabah hava çok soğuk, ise çok

**Sıvı Ölçme Birimleriyle İlgili
Problem Çözme**

1 Yandaki kovada 13 litre su vardır.



Kovaya 4 litre su eklersek, kovada kaç litre su olur?

ÇÖZÜM:

2 Yandaki kovada 14 litre su vardır.



8 litresini harcarsak kovada kaç litre su kalır?

ÇÖZÜM:

3 İneğimiz günde 15 litre süt vermektedir. Annem her gün, sütün 6 litresini komşumuza veriyor.

Komşumuza bir haftada kaç litre süt vermiş oluruz?

ÇÖZÜM:

4 Her gün 4 bardak süt içen Selen, 5 günde kaç bardak süt içer?

ÇÖZÜM:

5 Her gün 6 bardak su içen Şehnaz, 2 haftada kaç bardak su içer?

ÇÖZÜM:

6 Bir sürahi 4 bardak ile dolmaktadır. Bir kova, 3 sürahi ile dolduğuna göre kovayı doldurmak için kaç bardak gereklidir?

ÇÖZÜM:

7 Bir şişme havuz 48 kova su almaktadır. Şişme havuza önce 12 sonra 15 kova su aktardık.

Şişme havuzun dolması için kaç kova su gereklidir?

ÇÖZÜM:

8 2 su bardağı ile bir matara dolmaktadır. 4 fincan ile bir su bardağı dolmaktadır.

Buna göre bir matara kaç fincan ile doldurulabilir?

ÇÖZÜM:

BASKETBOL SEVGİSİ

Oğuzcan spor yapmayı çok sevdi. Hayali büyüyünce basketbolcu olmak istiyordu. İyi bir basketbolcu olmak için düzenli antrenman yapmak gerekirdi. Fakat yaşadıkları mahallede basketbol sahası yoktu. Oğuzcan bu duruma çok üzülüyordu. Evlerinin yanındaki boş arazide kendi kendine basketbol topunu sektirip duruyordu. Bir gün okuldan dönerken evlerinin yanında iş makineleri gördü. Anneyle birlikte makinelere bakmaya gitti. Makineler boş arazide çalışıyordu.

Oraya kocaman bir levha dikmişlerdi. Levhada "Ege Mahallesi Spor Tesisi İnşaatı" yazıyordu. Levhada bir de resim vardı. Resimde basketbol ve voleybol sahası, yüzme havuzu ve tenis kortu vardı. Oğuzcan sevinçten havalara uçtu. İnşaat kısa sürede tamamlandı. Oğuzcan artık istediği kadar antrenman yapabiliyordu.

1, 2 ve 3. soruyu yukarıdaki metne göre cevaplayalım.

1. İyi bir basketbolcu olmak için ne yapmak gerekir?

- A. Düzenli hayal kurmak gerekir.
- B. Düzenli antrenman yapmak gerekir.
- C. İnşaat yapmak gerekir.




2. Oğuzcan neden düzenli basketbol antrenmanı yapamıyordu?

- A. mahallelerinde basketbol sahası olmadığı için
- B. çabuk yorulduğu için
- C. ödevleri fazla olduğu için

3. Oğuzcan, basketbol sahasının yapıldığını nasıl anladı?

- A. İş makinelerini görünce anladı.
- B. İnşaat bitince anladı.
- C. Levhadaki resimleri görünce anladı.

4. Aşağıdaki çocuklardan hangisi zıt anlamlı sözcükleri aynı cümlede kullanmıştır?

- A.  Eski evimizde balkon yoktu.
Selin
- B.  İhtiyar adam gençlerle konuşuyordu.
Ali
- C.  Ödevi kısa sürede bitirdim.
Zehra

5. Aşağıdaki cümlelerin hangisinde "aç" sözcüğü farklı bir anlamda kullanılmıştır?

- A. Anne karnım çok aç.
- B. Dolabın kapağını aç
- C. Mama almayı unuttuğum için kedim aç kaldı.