

Adı:
Soyadı:



3/A Çalışma Kağıdı

Tarih
...../...../2023

KALECİ SAMET

O gün futbol maçımız vardı. Samet kaleye geçmek istediğini söyledi. "İlk kalecilik deneyimim olacak." dedi. Bu maçı kazanmak istiyorduk ama Samet pek güven vermiyordu. Maç başladı ve maçı kaybettik. Herkes üzgündü. Kimse Samet'i suçlamadı. Çünkü ilk defa kalecilik yapmıştı. Onu başarılı olmadığı bu konuda suçlamamız yanlış olacaktı. Aksine bu yönünü geliştirmesi için ona destek olduk. Samet bu desteğimiz için bize teşekkür etti.



1. Samet, kaleye geçerken ne söylemiş?

- A. Çok tedirginim.
- B. Bana pek güvenmeyin.
- C. İlk kalecilik deneyimim.

2. Takım, maçı kaybedince ne yaptı?

- A. Herkes Samet'i suçladı.
- B. Kimse Samet'i suçlamadı.
- C. Oturup takımca ağladılar.

3. Yukarıdaki metnin ana fikri aşağıdakilerden hangisi olabilir?

- A. İnsanları zayıf olduğu bir konuda suçlamak yerine, zayıf yönünü geliştirmesi için desteklemeliyiz.
- B. İyi olmadığı bir işte çalışmak yerine o işi bırakmalıyız.
- C. Futbolda iyi olmayan biri kalecilik yapmamalıdır.

4. Emir ile Elif "Hadi Zıttını Bul" oyunu oynamaktadır. Emir, Elif'in söylediği kelimenin zıt anlamlısını bulmaktadır.



Buna göre Emir hangi sözcüğün zıt anlamlısında hata yapmıştır?

- A. kibar
- B. hüzün
- C. cömert

5.



Buse Öğretmen, her sembole karşılık bir harf gelecek şekilde şifreli kelime oluşturmuştur.

Buse Öğretmen'in şifrelediği kelime aşağıdakilerden hangisi olabilir?

- A. KAPAK
- B. KALEM
- C. KAŞIK



Bir manav günde 10 kavun satıyor. 15 günde kaç tane kavun satar?



Çözüm:



Bir okulda 10 sınıf vardır. Her sınıfta 32 öğrenci olduğuna göre bu okulda toplam kaç öğrenci vardır?



Çözüm:



Tanesi 6 lira olan defterden 5 tane, tanesi 3 lira olan kaleminden 8 tane alan Meriç, kırtasiyeye ne kadar öder?



Çözüm:



Bir otobüste 2 kişilik ve 1 kişilik koltuklar bulunmaktadır. 2 kişilik koltuklardan 12 tane, bir kişilik koltuklardan 6 tane bulunan bu otobüste kaç koltuk vardır?



Çözüm:

$$\begin{array}{r} 31 \\ \times 28 \\ \hline \end{array}$$

.....

$$\begin{array}{r} 45 \\ \times 16 \\ \hline \end{array}$$

.....

$$\begin{array}{r} 19 \\ \times 26 \\ \hline \end{array}$$

.....

$$\begin{array}{r} 21 \\ \times 22 \\ \hline \end{array}$$

.....

$$\begin{array}{r} 15 \\ \times 33 \\ \hline \end{array}$$

.....

$$\begin{array}{r} 67 \\ \times 11 \\ \hline \end{array}$$

.....

$$\begin{array}{r} 52 \\ \times 13 \\ \hline \end{array}$$

.....

$$\begin{array}{r} 24 \\ \times 20 \\ \hline \end{array}$$

.....

$$\begin{array}{r} 136 \\ \times 4 \\ \hline \end{array}$$

$$\begin{array}{r} 123 \\ \times 7 \\ \hline \end{array}$$

$$\begin{array}{r} 200 \\ \times 4 \\ \hline \end{array}$$

$$\begin{array}{r} 193 \\ \times 5 \\ \hline \end{array}$$

$$\begin{array}{r} 159 \\ \times 6 \\ \hline \end{array}$$

$$\begin{array}{r} 52 \\ \times 4 \\ \hline \end{array}$$

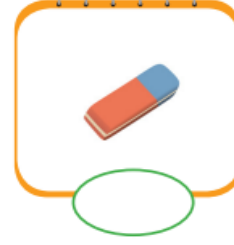
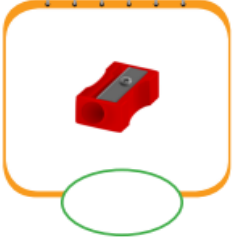
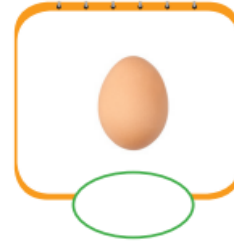
$$\begin{array}{r} 66 \\ \times 7 \\ \hline \end{array}$$

$$\begin{array}{r} 63 \\ \times 4 \\ \hline \end{array}$$

$$\begin{array}{r} 48 \\ \times 3 \\ \hline \end{array}$$

$$\begin{array}{r} 51 \\ \times 2 \\ \hline \end{array}$$

 Görselleri verilen maddelerden katı olanlara "K", sıvı olanlara "S", gaz olanlara "G" harflerini yazalım.



 Aşağıdaki ifadeleri okuyalım. Doğru olanlara "D", yanlış olanlara "Y" yazalım.

Temizlik malzemelerini çocuklar da istediği şekilde kullanabilir.

Yapıştırıcıları kesinlikle koklamamalı ve tadına bakmamalıyız.

Kolonya ve parfüm gibi maddelerin tadına bakmamalıyız.

Büyüklere danışmadan ilaçları istediğimiz gibi kullanabiliriz.

Kesici ve delici aletleri çocukların kullanması tehlikelidir.


Hareket halindeki tüm cisimleri durdurabiliriz.

✏️ Aşağıdaki tabloda verilen özelliklerin maddenin hangi haline ait olduğunu işaretleyelim.

MADDELERİN ÖZELLİKLERİ	KATI	SIVI	GAZ
Belli bir şekli vardır.			
Bazıları mıknatıs tarafından çekilebilir.			
Sıkıştırılmaz, akıcı değildir.			
Her yöne yayılır.			
Uçucudurlar.			

✏️ Aşağıda verilen sözcükleri görsellerle eşleştirelim.



- 
- a)energetic
 - b)tired
 - c)happy
 - d)hungry
 - e)sad
 - f)surprised
 - g)thirsty
 - h)okay



✏️ Diyalogta karışık verilmiş ifadeleri doğru şekilde yazalım.

are-How-today-you?
.....

play-basketball-Let's
.....



am-I-energetic
.....

go-Let's
.....

Aşağıdaki çarpma işlemlerinde bulduğumuz sonuçları bulmaca uygun yerlere yazalım.

1

$$\begin{array}{r} 21 \\ \times 28 \\ \hline \square\square\square \\ + \square\square\square \\ \hline \square\square\square \end{array}$$

2

$$\begin{array}{r} 18 \\ \times 44 \\ \hline \square\square\square \\ + \square\square\square \\ \hline \square\square\square \end{array}$$

3

$$\begin{array}{r} 71 \\ \times 12 \\ \hline \square\square\square \\ + \square\square\square \\ \hline \square\square\square \end{array}$$

4

$$\begin{array}{r} 19 \\ \times 15 \\ \hline \square\square\square \\ + \square\square\square \\ \hline \square\square\square \end{array}$$

5

$$\begin{array}{r} 24 \\ \times 32 \\ \hline \square\square\square \\ + \square\square\square \\ \hline \square\square\square \end{array}$$

6

$$\begin{array}{r} 33 \\ \times 29 \\ \hline \square\square\square \\ + \square\square\square \\ \hline \square\square\square \end{array}$$

7

$$\begin{array}{r} 27 \\ \times 24 \\ \hline \square\square\square \\ + \square\square\square \\ \hline \square\square\square \end{array}$$

8

$$\begin{array}{r} 29 \\ \times 20 \\ \hline \square\square\square \\ + \square\square\square \\ \hline \square\square\square \end{array}$$

9

$$\begin{array}{r} 41 \\ \times 18 \\ \hline \square\square\square \\ + \square\square\square \\ \hline \square\square\square \end{array}$$

10

$$\begin{array}{r} 59 \\ \times 15 \\ \hline \square\square\square \\ + \square\square\square \\ \hline \square\square\square \end{array}$$

11

$$\begin{array}{r} 32 \\ \times 14 \\ \hline \square\square\square \\ + \square\square\square \\ \hline \square\square\square \end{array}$$

12

$$\begin{array}{r} 46 \\ \times 19 \\ \hline \square\square\square \\ + \square\square\square \\ \hline \square\square\square \end{array}$$

13

$$\begin{array}{r} 16 \\ \times 61 \\ \hline \square\square\square \\ + \square\square\square \\ \hline \square\square\square \end{array}$$

14

$$\begin{array}{r} 21 \\ \times 27 \\ \hline \square\square\square \\ + \square\square\square \\ \hline \square\square\square \end{array}$$

15

$$\begin{array}{r} 28 \\ \times 31 \\ \hline \square\square\square \\ + \square\square\square \\ \hline \square\square\square \end{array}$$

16

$$\begin{array}{r} 54 \\ \times 17 \\ \hline \square\square\square \\ + \square\square\square \\ \hline \square\square\square \end{array}$$

17

$$\begin{array}{r} 36 \\ \times 25 \\ \hline \square\square\square \\ + \square\square\square \\ \hline \square\square\square \end{array}$$

18

$$\begin{array}{r} 45 \\ \times 12 \\ \hline \square\square\square \\ + \square\square\square \\ \hline \square\square\square \end{array}$$

