

Adı:

Soyadı:

Çiftliğin köpeği, ahırda atların yanında kalıyormuş. Köpek atlarla birlikte kalmayı sevmez ve bu durumu hep yadırgarmış. Yadırgarmış ya atların yediklerine, içtiklerine karışmaktan da durmazmış. Hırlayarak:

— Kupkuru otları nasıl yiyorsunuz öyle? Size şaşırıyorum doğrusu, demiş.

Atlardan biri, küçümseyen bir ses tonuyla ona karşılık vermiş:

— Şuna bak hele, diye homurdanmış. Kendisi ot yiyemediği gibi başkalarının yemesine de katlanamıyor.

Ezop Masalları

1. Köpek nerede kalıyormuş?

- A) Kulübede B) Bahçede C) Ahırda

2. Köpek neyi sevmez, yadırgarmış?

- A) Sahibinin kendisine olan davranışlarını
B) Atlarla birlikte kalmayı
C) Çiftlikteki koyunların davranışlarını

3. Atlardan biri köpeğin hangi davranışını küçümsemiş?

- A) Ot yiyememesini
B) İşini iyi yapamamasını
C) Çok uykucu olmasını

4. Metne en uygun başlık aşağıdakilerden hangisidir?

- A) Köpekler ve Kediler
B) Sadık Dostlarımız Köpekler
C) Ahırdaki Köpek



Ceren, yukarıdaki kekin nasıl yapıldığını öğrenmek için hangi başlıktaki metinden yararlanabilir?

- A) Dengeli Beslenme
B) Pasta Tarifleri
C) Bitkilerin Dünyası

Havalar yavaş yavaş ısınmaya başlar. Ağaçlar çiçek açar. Doğa yeşil renge bürünmeye başlar. Kuşlar soğuk bölgelerden sıcak bölgelere göç etmeye başlar.

Yukarıdaki metnin başlığı aşağıdakilerden hangisi olabilir?

- A) İlkbahar B) Sonbahar C) Kış

Temel İhtiyaçlarımız

Yukarıda başlığı verilen metinde aşağıda verilen bilgilerden hangisinin yer alması beklenmez?

- A) Beslenme ihtiyacımız
B) Barınma ihtiyacımız
C) Haberleşme ihtiyacımız

Aşağıdaki cümleleri oluş sırasına göre numaralandırarak sıralayalım.

- Sonra doktorla tanıştılar.
- Önce doktorun yanına gittiler.
- Daha sonra Emir muayene oldu.

Kutucuklarda verilen kelimelerden anlamlı ve kurallı cümleler yazalım.

top bahçede oynuyorlar Ceydalar

için üzüm çıkmış almak evden

İngilizce Merve gidiyormuş kursuna

Yeni Nesil Soru

Aşağıda alfabemizdeki bazı harfler oklarla gösterilmiştir.

a ç ı k n s u ü z
↑ ↗ ↖ ↓ ↘ ↙ → ← ↔

Buna göre oklarla oluşturulmuş kelimelerden hangisinin zıt anlamı "kısa"dır?

- A) → ↔ ↑ ↓ B) → ↔ ↗ ↘ C) ↓ ↖ ↗ ↘

Aşağıda verilen şiirleri okuyalım, konularını yazalım.

Atalarım gökten yere Onun ateş kırmızısı
İndirmişler ay yıldızı Ne gelincik ne gülden
Bir buluta sarmışlar ki Türk oğlunun öz kanıdır
Rengi şafaktan kırmızı. Ona bu al rengi veren.

Şiirin Konusu:

Güneş, dünyamızı Kuşlar sevinci
Kitap, aklımızı ısıtır. Kitap dünyaları paylaşır
Pırl pırl... Cıvı cıvı...
Kitap en güçlü ışıktır! Kitap en iyi arkadaşdır.

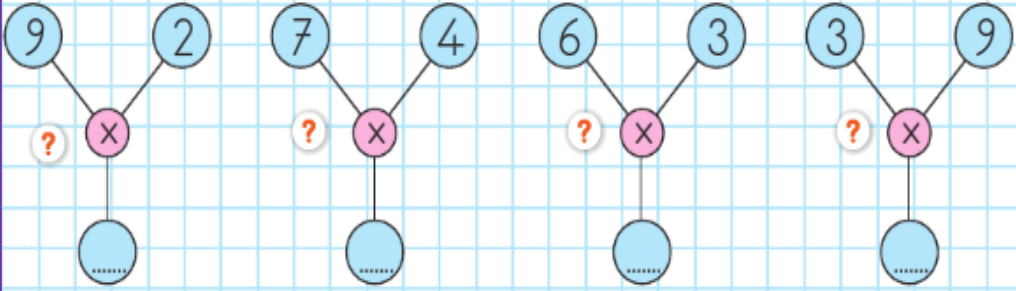
Şiirin Konusu:

Noktalama İşaretlerini Tamamla

- Şükran sınavdan kaç almış ()
Hafta sonu teyzemlere gideceğim ()
Sen de bizimle yemek yer misin ()
Eyvah, köpek geliyor ()
Hande yeni bir kitap almış ()
Yaşasın() ben sınıf başkanı seçildim ()
Off, çok sıkıldım ()
Yarıştta kim birinci oldu ()

Aşağıdaki alt alta çarpma işlemlerini örnekteki gibi yapalım.

$$\begin{array}{r} 3 \\ \times 4 \\ \hline 12 \end{array}$$
$$\begin{array}{r} 4 \\ \times 4 \\ \hline \end{array}$$
$$\begin{array}{r} 3 \\ \times 3 \\ \hline \end{array}$$
$$\begin{array}{r} 7 \\ \times 2 \\ \hline \end{array}$$
$$\begin{array}{r} 2 \\ \times 8 \\ \hline \end{array}$$
$$\begin{array}{r} 1 \\ \times 9 \\ \hline \end{array}$$



Yeni Nesil Sorumuz



Ahmet, kartlardaki sayılardan çarpımı en büyük olan kartları seçiyor. Fatma ise kartlardaki sayılardan çarpımı en küçük olan kartları seçiyor. Sezgin ise kalan kartları alıyor.

Buna göre aşağıdakilerden hangisi Sezgin'in aldığı kartların çarpımını veren sayıdır?

A) 12

B) 36

C) 45

Aşağıdaki her bir saatin gösterdiği zamanı noktalı yerlere örnekteki gibi yazalım.

Öğleden Önce



03.00

Öğleden Önce



.....

Öğleden Sonra



.....

Öğleden Sonra



.....

Aşağıda her bir zamanın belirttiği saati, örnekteki gibi modelleyelim.

20.45



03.30



19.00



00.15



Aşağıdaki saatlerin öğleden önce kaç gösterdiğini örnekteki gibi yazalım.




Saat: 03.00



Saat:



Saat:



Saat:



Saat:



Aşağıda verilen paraların toplam miktarlarını yazalım.



? TL



? TL



? TL



? TL



? TL



? TL

Aşağıdaki paraların toplam miktarını bularak noktalı yerlere örnekteki gibi yazalım.



45 kr



1 TL



?



?



?



?



?



?



?



?



?



?



?



?






?



?

		
?	?	?


		
?	?	?


Hangi Ürünü Alabilirim İşaretle


			
38 TL	65 TL	55 TL	
<input type="checkbox"/>	<input type="checkbox"/>	<input type="checkbox"/>	<input type="checkbox"/>

Mini Test

Aşağıdaki görsellerden hangisi üretim faaliyetlerinden sanayi ile ilgilidir?

A. 


B. 


C. 


Aşağıdaki ifadelerden hangisi yanlıştır?

- A. İstiklâl Marşı'mız 10 kıtadan oluşur.
- B. Atatürk Samsun'a çıkarak, Kurtuluş Savaşı'nı başlatmıştır.
- C. Bayrağımızın rengi beyaz, üzerindeki ay-yıldız kırmızıdır.


Aşağıdaki yemeklerden hangisi, bizim kültürümüze ait değildir?


A.  Pizza


B.  Manti

C.  Kebab

Aşağıdakilerden hangisi millî kültürümüzü yansıtan bir görsel değildir?

A. 

B. 

C. 

Aşağıdakilerden hangisini dinî bayramlarda yapmayız?

- A. Tören düzenlemek
- B. Kurban kesmek
- C. Büyüklere elini öpmek

Aşağıdakilerden hangisi bağımsızlığımızın sembollerinden biri değildir?

- A. İstiklâl Marşı B. Bayrak
- C. Dolmabahçe Sarayı

Aşağıdakilerden hangisi Atatürk'ün gittiği okullardan biri değildir?

- A. Mahalle Mektebi
- B. Cumhuriyet İlkokulu
- C. Selanik Askerî Ortaokulu



What is this?

This is

Görsele uyan kelime hangisidir?

- A. an artist B. a cafe
C. a cake



What is that?

This is

Görsele uyan kelime hangisidir?

- A. gorilla B. zebra
C. kangaroo



Görsele uyan seçenek hangisidir?

- A. good night
B. good evening
C. good morning



Yukarıdaki görsellerden hangisi seçeneklerde verilmemiştir?

- A. stick the poster
B. colour the picture
C. turn left



Görsele uyan ifade hangisidir?

- A. turn right
B. close the door
C. turn left




Aras: How many apples are there?

Deniz: There are apples.

Boşluğa uygun olan ifade hangisidir?

- A. four B. six C. three



①

②

③

Resimlerin doğru sıralanışı hangi seçenekte verilmiştir?

1 2 3

- A. scissors bag crayon
B. bag scissors crayon
C. scissors crayon bag



İşleminin sonucu hangisidir?

- A. nine B. eight C. ten

I like



Doğru seçeneği işaretleyiniz.

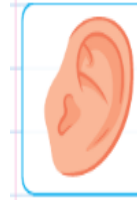
- A. blue - yellow - green
B. red - yellow - blue
C. blue - green - red

Let's



Yukarıda görseli verilen ifade hangisidir?

- A. play basketball
B. slide
C. skip rope



Görsele ifade eden kelime hangisidir?

- A. mouth B. head C. ear



Look at my

Boşluğa gelmesi gereken kelimenin doğru yazılışı hangisidir?

- A. knee B. keen C. kene