

## MEŞE AĞACI

Bütün ağaçlar tohumdan gelişir. Bu küçük meşe de bir tohumdan gelişti. Kökleri ve yaprakları çıktı boyu uzadı, küçük bir bitki oldu. Meşe, büyümek için toprağa, suya, ışığa ve havaya gereksinim duyar. Yıllar geçtikçe boyu daha da uzar, gövdesi kalınlaşır ve yaprakları çoğalır. Gövdesine, dallarının arasına yuva yapan hayvanlar olur. Yeterince büyüyünce meşe yılda bir kez çiçek açmaya başlar. Bu, ilkbaharda olur.

(1 ve 2. soruyu metne göre cevaplayalım.)

1) Meşe ağacı hangi mevsimde çiçek açar?

- a) Yaz      b) İlkbahar      c) Sonbahar

2) Hayvanlar nereye yuva yaparmış?

- a) Gövdesine ve dalların arasına.  
b) Toprağın üstüne.  
c) Direklerin üzerine.

3) Sınıf listesinde öğrencilerin isimleri alfabetik olarak sıralanıyor. Hangi öğrenci orta sırada yer alır?

- a) Batuhan      b) Bahar      c) Banu

4) Uzak bir ülkede uçmaktan korkan bir kuş yaşarmış. Yukarıdaki cümlede hangi sorunun cevabı yoktur?

- a) Niçin?      b) Kim?      c) Nerede?

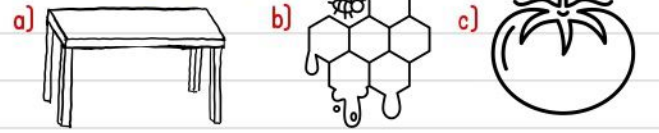
5) Hangi cümledeki eş sesli bir kelime vardır?

- a) Bahçede bir yavru köpek gördüm.  
b) Yüzümde kırmızı benekler çıktı.  
c) Dün pek ders çalışmadım.

6) Aşağıdaki bilgilerden hangisi doğru değildir?

- a) Suda yaşayan hayvanlar solungaçlarıyla suyun içindeki havayı teneffüs ederler.  
b) Her bitki başlangıçta minik bir tohumdur.  
c) Bitkiler havasız bir yerde büyüyüp gelişebilir.

7) Aşağıdaki ürünlerden hangileri sanayi faaliyetleri sonucu ortaya çıkmıştır?



- Hava
- Su
- Uygun sıcaklık
- Toprak

8) Bitkilerin büyüyüp gelişebilmesi için yukarıdakilerden kaç tanesine ihtiyaç vardır?

- a) 2      b) 3      c) 4

-Where is the bird?


-The bird is .....


9) Noktalı yere hangi ifade gelmelidir?

- a) in the table.  
b) on the tree.  
c) under the chair.



10) two apples






11) Yandaki bölme işleminde bölen 28 | 4 kaçtır?

- a) 6      b) 7      c) 8

12) Bir çarpma işleminde çarpanlardan biri 9, diğeri bunun 5 eksigidir. Çarpım kaçtır?

- a) 45      b) 40      c) 36



13) Makasın fiyatı silginin fiyatının 2 katından 3 fazladır. Makasın fiyatı nedir?

- a) 10      b) 13      c) 16

14) Sabah saat 07.00'de içtiğim şurubu 12 saat sonra tekrar içeceğim. Buna göre akşam şurup içtiğim zamanı hangi dijital saat göstermektedir?

- a) 17:00      b) 19:00      c) 21:00

Tuğçe, yanda gösterilen saatten yarım saat sonra eve varıyor.



15) Buna göre Tuğçe eve vardığında saat kaçtır?

- a) 03.30      b) 03.00      c) 04.00



8 yarım elma ..... bütün elma eder.

16) Yukarıdaki boşluğa hangi sayı gelmelidir?

- a) 3      b) 4      c) 5

$$4 \times 5 = \star \quad 2 \times 2 = \text{☾}$$

17) Buna göre  $\star$  |  $\text{☾}$  işleminin sonucu kaçtır?

- a) 3      b) 4      c) 5

18) İki haftalık tatilimizin 5 gününü evde, kalan günleri de Antalya'da geçirdik. Antalya'da kaç gün geçirdik?

- a) 9      b) 7      c) 5

19) Nuray'ın tavuklarının toplam 18 ayağı vardır. Buna göre Nuray'ın toplam kaç tavuğu vardır?

- a) 7      b) 8      c) 9

Ürün:



84 TL

Atahan'ın Ödediği Para:



100

20) Atahan yukarıdaki ürünü satın alıyor. Para üstü olarak kaç TL almalıdır?

- a) 16      b) 12      c) 8