

Adı:
Soyadı:




MATEMATİK

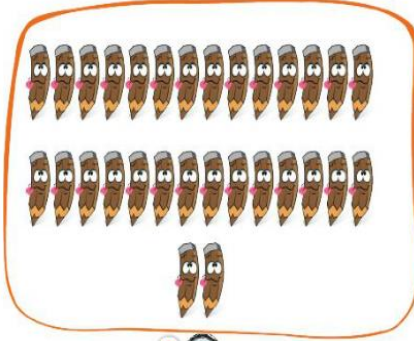
2/A Çalışma Kâğıdı



A Aşağıdaki varlıkların sayılarını kutucuklara yazalım.



?



?

Verilen sayıları örnekteki gibi abaküs üzerinde gösterip okunuşlarını yazalım.

Onluk Birlik



Yirmi yedi

?

Onluk Birlik



8 | 4

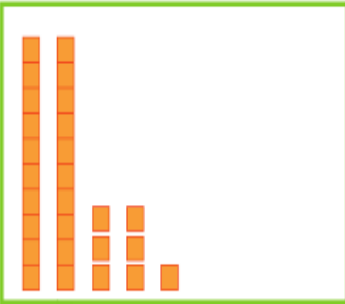
?

Onluk Birlik



3 | 9

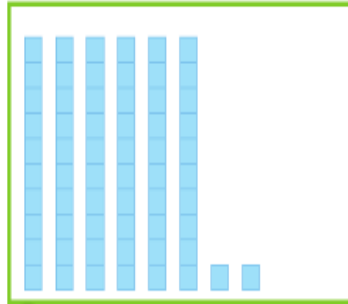
Aşağıda modellenen sayıları bulup noktalı yerlere örnekteki gibi yazalım.



...2.onluk ...7 birlik

27

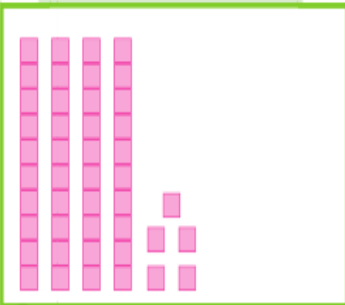
Yirmi yedi



?onluk birlik

.....

.....



?onluk birlik

.....

.....



?onluk birlik

.....

.....

---Mini Test---

Babam 47 yaşındadır.

Annem, babamdan 3 yaş küçük olduğuna göre annemin yaşı kaçtır?

A. 44 B. 43 C. 50

15 yumurta 22 yumurta



1. sepet

2. sepet

Yukarıda 1. sepetteki yumurtaların sayısı, 2. sepetteki yumurtaların sayısından kaç eksiktir?


A. 6 B. 5 C. 7

57

Yukarıdaki sayı hangi onluklar arasında yer almaktadır?

A. 40 - 50 B. 50 - 60
C. 60 - 70


Aşağıdakilerden hangisi 1 des-
teye eşittir?



A Aşağıdaki tablolarda verilen noktalı yerleri tamamlayalım.

Sayı28.....	Sayı
Basamak AdıOnlar..... Basamağı	Basamak Adı Basamağı
Basamak Değeri20.....	Basamak Değeri

50'den başlayarak geriye doğru ikişer ritmik sayalım, yazalım.



Aşağıdaki sayı örüntülerini tamamlayalım. Örüntülerin kurallarını örnekteki gibi yazalım.



Örüntünün Kuralı: Üçer artan örüntüdür.



Örüntünün Kuralı:



Örüntünün Kuralı:



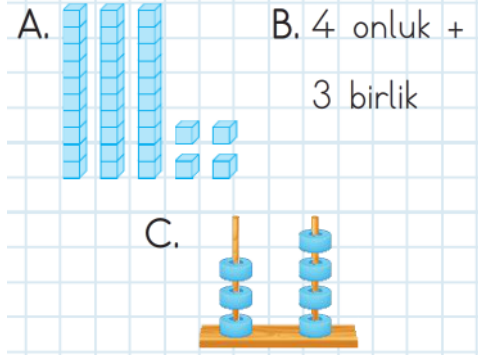
Örüntünün Kuralı:



Örüntünün Kuralı:

---Mini Testim---

Aşağıdakilerden hangisi 43 sayısına eşittir?



Zeliş'in 23 tane cevizi vardır. Deniz, Zeliş'e 1 deste ceviz verirse Zeliş'in kaç cevizi olur?

- A. 35 B. 32 C. 33

Görseldeki sayının okunuşu aşağıdakilerden hangisidir?



- A. yirmi beş B. elli üç
C. elli iki

"Ahmet ikinci sınıfa gidiyor." cümlesinde "ikinci" yerine aşağıdakilerden hangisi yazılabilir?

- A. 2 B. 2 C. +2

12'den başlayıp ileri doğru üçer ritmik sayan Eylül aşağıdaki sayılardan hangisini söylemez?

- A. 18 B. 24 C. 19