

## ORGANLAR

Günlerden bir gün vücuttaki organlar anlaşmazlığa düşmüş. Hepsi de vücut için en gerekli organın kendisi olduğunu iddia ediyormuş. Bu yüzden de sürekli tartışıyorlarmış. Kalp “Ben olmazsam kanı pompalayamazsınız.”, akciğer “Ben olmadan kanı temizleyemezsiniz”, mide de “Ben olmadan yediklerinizi sindiremezsiniz” diyor. Bu tartışmaları devam edip gidiyormuş. Bir gün beyin bütün organlarla toplantı yapmaya karar vermiş. Hepsinin vücut için önemli olduğunu, biri olmazsa vücudun çalışamayacağını anlatmış. Toplantıdan sonra hepsi her birinin vücut için ne kadar önemli olduğunu anlamışlar. Uyum içinde işlerine devam etmişler.

Gökhan ÜNVER

(İlk üç soruyu metinde verilen bilgilere göre cevaplayalım.)

1. Hangi organ kendisi olmazsa kanın pompalanmayacağını söylemiş?

- ? A) Beyin B) Akciğer C) Kalp

2. Organlarla toplantı yapmaya kim karar vermiş?

- ? A) Beyin B) Mide C) Kalp

3. Toplantı sonunda organlar neye karar vermişler?

- ? A) Tartışmaya devam etmeye  
B) Her birinin önemli olduğuna  
C) En önemli organın beyin olduğuna

4. Haftanın günlerinden kaç tanesi üç hecelidir?

- ? A) 1 B) 2 C) 3

5. 

sual	sakız
saat	soba

 Yandaki kutularda yer alan sözcüklerden alfabetik sıraya göre ikinci sıradaki sözcük çıkarıldığında aşağıdaki şekillerden hangisi oluşur?

A) 


B) 


C) 


6.

?

itfaiye

Yukarıdaki sözcükle ilgili verilen bilgilerden hangisi **yanlıştır**?

- A) İki kalın ünlü yan yanadır.
- B) Yedi harften oluşmuştur.
- C) Üç tane sessiz harf vardır.

7.

?

okuyucular

Yukarıda verilen sözcük hangi seçenekte satır sonunda **yanlış** bölünmüştür?

- A) okuyu-  
cular
- B) okuyucu-  
lar
- C) o-  
kuyucular

8.

?

“Soğuğa karşı omuzlara, başa, sırtta veya boyna alınan örtü.”

Anlamı verilen sözcük aşağıdakilerden hangisidir?

- A) Atkı
- B) Eldiven
- C) Hırka

9.

?

“Bu maç çok çekişmeli geçecek.”

Bu cümlede altı çizili sözcük yerine aşağıdakilerden hangisi kullanılırsa cümlenin anlamı **bozulmaz**?

- A) spor
- B) karşılaşma
- C) futbol

10. Aşağıdaki sözcüklerden hangisi hecelerine **yanlış** ayrılmıştır?

?

- A) ba - le - rin
- B) par - an - tez
- C) ka - ran - fil

Aşağıdaki cümlelerde renkli yazılan sözcüklerin eş anlamlılarını örnekteki gibi işaretleyelim.

Buradaki öğrenciler üçüncü sınıfa gidiyorlar.

- arkadaş  talebe  çocuk

Öğretmenin sorusunu doğru cevapladı.

- soru  sözcük  yanıt

Bugün İzmir'den misafirlerimiz gelecek.

- akraba  komşu  konuk

Okuduğum hikâye çok sürükleyiciydi.

- masal  öykü  şiir

Defterine uzun bir cümle yazdı.

- tümce  sözcük  metin

Arkadaşımın yaptığı hareket çok komikti.

- sevinç  eğlence  gülünç

Evimiz okuluma çok yakın.

- bina  konut  site

Bu konu hiç ilgimi çekmiyor.

- ilgi  istek  düşünce

Cümlelerdeki altı çizili sözcükleri farklı anlamda kullanarak yeni cümleler yazalım.

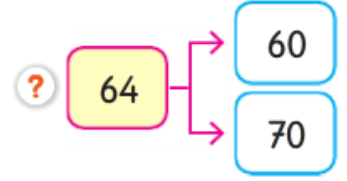
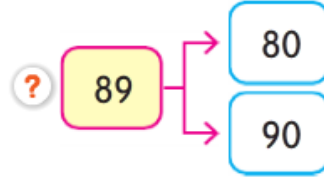
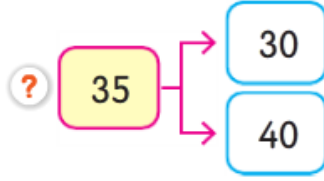
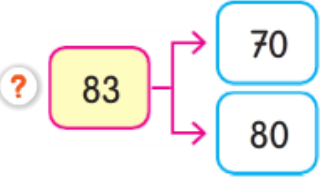
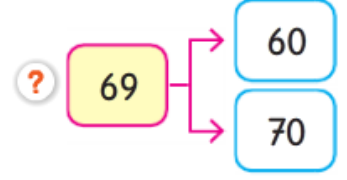
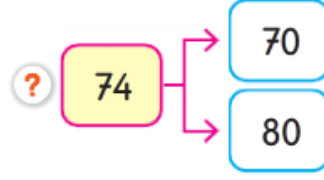
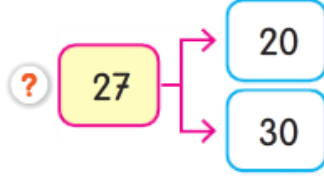
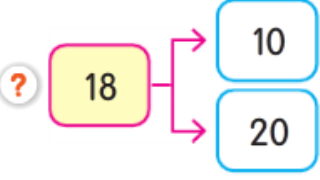
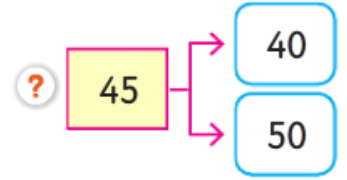
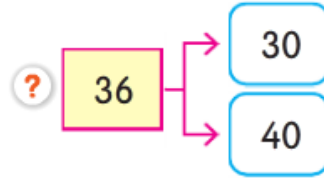
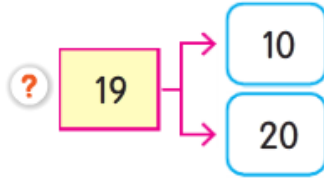
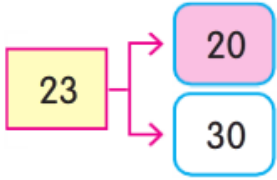
Salonun sağ tarafındaki duvarı yeşil renge boyadık.

.....

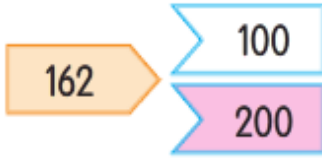
Ağacın dalına üç kuş kondu.

.....

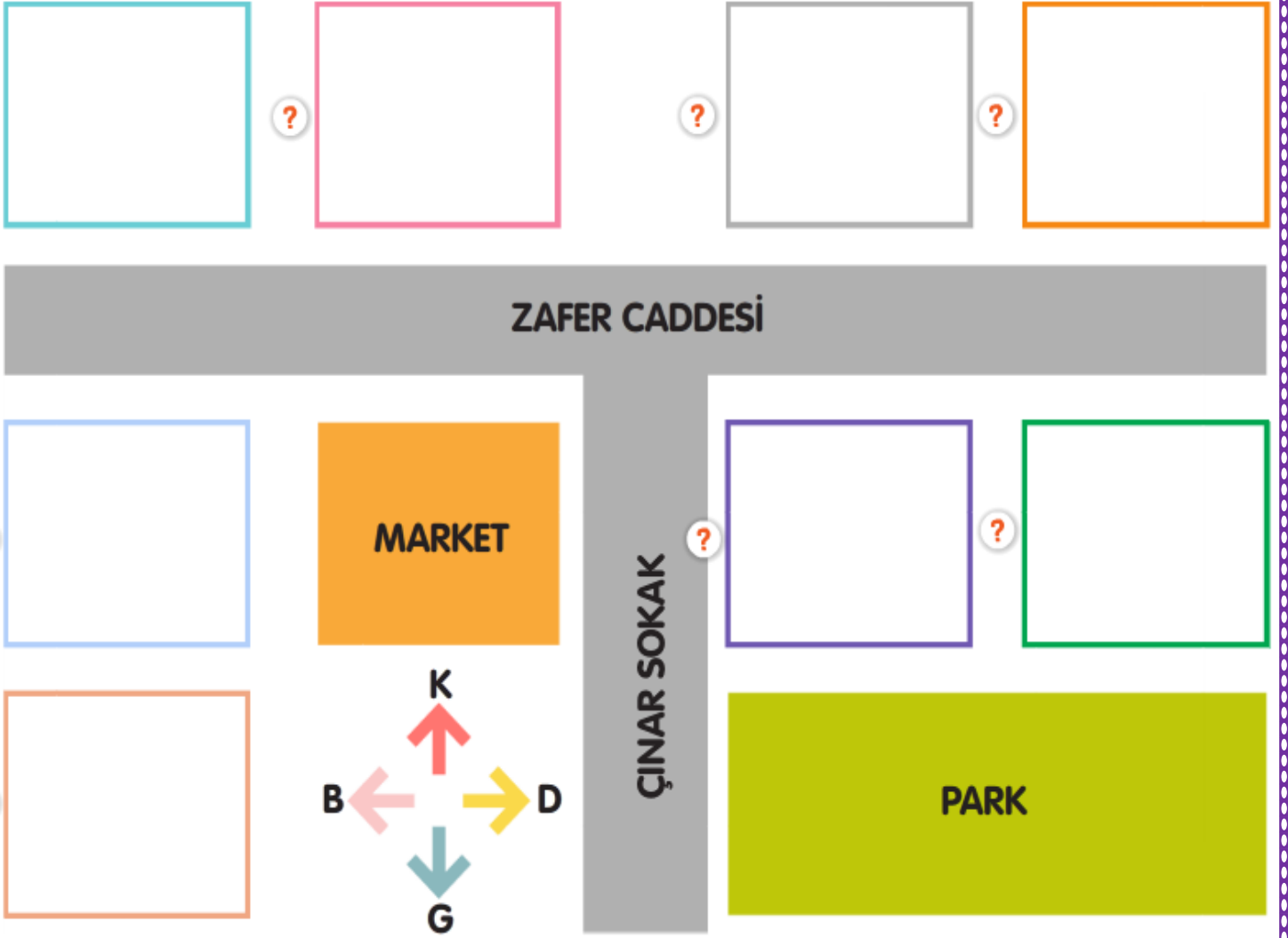
Aşağıdaki sayıların en yakın oldukları onlukları örnekteki gibi boyayınız.



Aşağıdaki sayıların en yakın oldukları yüzlüğü örnekteki gibi boyayınız.

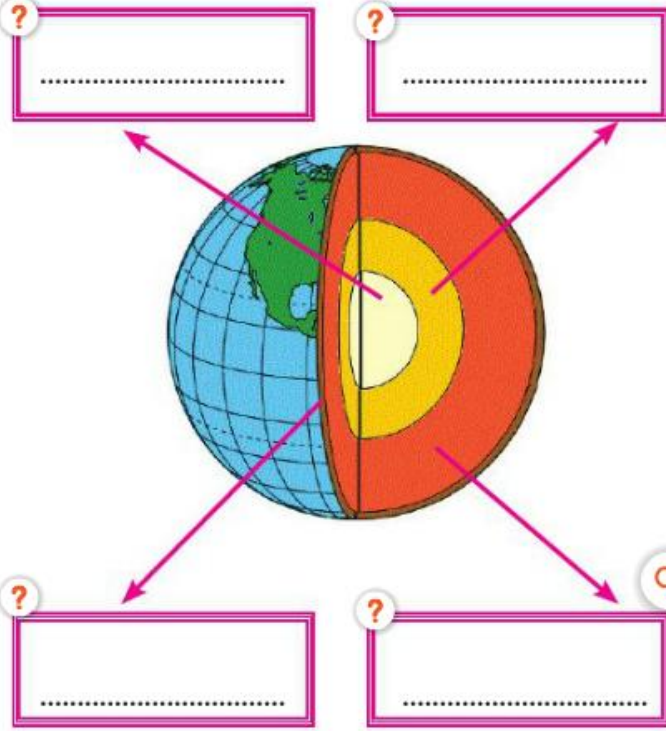


Aşağıda verilen bilgilere göre her evde kimin oturduğunu yazalım.



- Ekin'in evi, Zafer Caddesi ile Çınar Sokağın tam kesişme noktasındadır.
- Ekin'in evinin kuzeyinde Vedat oturmaktadır.
- Vedat'ın evinin doğusunda Hilmi oturmaktadır.
- Marketin batısındaki ev Mert'e aittir.
- Mert'in evinden kuzeye doğru ilerleyince Hülya'nın evine ulaşıyor.
- Hülya ile Vedat'ın evinin arasındaki ev Esra'ya aittir.
- Pelin, Hilmi'nin evinin güneyinde oturmaktadır.
- Burcu'nun evinin kuzeyinde Mert'in evi vardır.

Aşağıdaki kutucuklara Dünya'mız katmanlarının adlarını yazalım.



Dünya'mızın katmanlarıyla ilgili bilgiler araştırıp kutucuklara yazalım.


?

?

?

?

1. Dünya'mızın şekli aşağıdakilerden hangisine benzer?



2. Aşağıdakilerden hangisi Dünya'nın şekli ile ilgili geçmişte ortaya atılan görüşlerden biri değildir?

- A) Düz bir tepsiye benzediği
- B) Öküzün boynuzları üzerinde durduğu
- C) Büyük bir kuşun kanadında durduğu

3. "Eğer Dünya yuvarlaksa yönümü değiştirmeden başladığım noktaya geri gelirim." diyerek Dünya'nın çevresini dolaşan ilk denizci aşağıdakilerden hangisidir?

- A) Kopernik B) Macellan
- C) Kristof Kolomb