

Aşağıdaki metni okuyunuz. Soruları yanıtlayınız.

BİLGİYLE GELEN BOLLUK

Günümüzden tam on bin yıl önceki bir bahar sabahındayız. Her yer yemyeşil. Gür çimenlerin ortasında, ağaçların üstündeki göz alıcı rengârenk çiçekler çevreyi süslüyor. Dünyanın en güzel, en mutlu sabahlarından biri bu. İlerideki tepenin üstünde kerpiç köy çarpıyor gözümüze. Bugün Çatalhöyük olarak tanıyoruz ama o zamanda adını bilmiyoruz. Burası Ningur'un köyü. Ningur, köyün yeni başkanı. Genç ama akıllı bir başkan. Başkan olduktan sonra Ningur'un ilk işi köyünü komşu köylerden biriyle birleştirmek oldu. Böylece iki köy güç birliği yaparak daha rahat ve bolluk içinde yaşadılar.

1 Olay hangi mevsimde gerçekleşmiştir?

- Bir kış sabahı Bir bahar sabahı Bir yaz sabahı

2 Çevreyi neler süslüyormuş?

- Ağaçlar Fidanlar Çiçekler

3 Köy neredeymiş?

- Tepenin üstünde Dağın yamacında Göl kenarında

4 Ningur kimmiş?

- Köyün yeni muhtarı Köyün yeni başkanı Köyün yeni sözcüsü

5 Köylüler, niçin rahat ve bolluk içinde yaşamış?

- Köyün nüfusu azaldığı için
 Ekilen alanlar arttığı için
 İki köy birleştiği için

Olayların Oluş Sırası

Aşağıda karışık olarak verilen cümleleri olayların oluş sırasına göre sıralayınız.

Oynamak için parka gittik.

Annemden izin istedim.

Arkadaşlarımla evin önünde buluştuk.

Oyun bitince evlerimize dağıldık.

Fırça ile dişler fırçalanır.

Eller bir havlu ile kurulanır.

Fırçalama bitince bol su ile ağız çalkalanır.

Diş macunu fırçanın üzerini sıkılır.

Cümlede Anlam

Aşağıdaki cümleleri anlam özellikleriyle eşleştiriniz.

Ağaçtaki elmaları toplamak için merdiven kullanın.

pişmanlık

Film güzeldi ama süresi çok uzundu.

şaşıрма

Bir daha bağırırsan seninle oynamayacağım.

eleştiri

Yolun bu kadar uzun olacağını bilseydim gelmezdim.

uyarı

Onu karşımda görünce ne yapacağımı bilemedim.

öneri

Aşağıdaki cümlelerde altı çizili verilen sözcük veya sözcük grubu hangi sorunun yanıtıdır? İşaretleyiniz.

Dün alışveriş merkezinde yemek yedik.

Kim? Ne? Nerede?

Arkadaşım beni saatlerce bekledi.

Kim? Ne? Nerede?

Bisikletime yeni teker aldık.

Kim? Ne? Nerede?

Babam bana kitap aldı.

Kim? Ne? Nerede?

Aşağıdaki sözcüklerle anlamlı ve kurallı cümleler oluşturunuz.

yediler salata ve kebab

1.

aldık doğum günü pastası

2.

dökülünce masaya su ıslandı kâğıtlar

3.

Aşağıdakilerden hangileri canlıların ortak özelliklerindedir? İşaretleyiniz.

Büyür ve gelişirler.

Hareket ederler.

Boşaltım yaparlar.

Suda yaşarlar.

Çoğalırlar.


Solunum yaparlar.

Beslenirler.

Sürünerek hareket ederler.

Aşağıda bir bitkiye ait verilen yaşam bölümlerini oluş sırasına göre numaralandırın.

- Çimlenme sonucu fidan oluşur.
- Yetişkin bitki olur.
- Tohum çimlenir.
- 1 Tohum ekilir.
- Çiçek açar.
- Meyve oluşur.



Bisiklet, kayak, paten, kızak ve diğer araçları kullanırken aşağıdakilerden hangilerine uymalıyız?

- Bisiklet sürerken akrobatik hareketler yapmamalıyız.
- Dizlik ve kask takmalıyız.
- Pateni caddelerde kullanmalıyız.
- Kaydırdıktan ters veya yüzüstü kaymamalıyız.

ablolarda verilen eşitlikleri örnekteki gibi tamamlayın.

1 saat 15 dakika = 75 dakika

1 saat 20 dakika = _____ dakika

3 saat 10 dakika = _____ dakika

2 saat 15 dakika = _____ dakika

6 saat 12 dakika = _____ dakika

3 dakika 20 saniye = _____ saniye

4 dakika 15 saniye = _____ saniye

6 dakika 20 saniye = _____ saniye

2 dakika 25 saniye = _____ saniye

5 dakika 45 saniye = _____ saniye

Aşağıda belirtilen zamanları saniye biriminden yazın.

3 dakika 20 saniye = _____ saniye

5 dakika 15 saniye = _____ saniye

2 dakika 10 saniye = _____ saniye

6 dakika 13 saniye = _____ saniye

Modellerde verilen zamanları belirtilen süre kadar gösterin.

15 dakika geri



?



Çeyrek saat ileri



?



Mini Test

Yanda modellenen saatin gösterdiği zamanın 15 dakika sonrası saat kaç gösterir?



Yandaki elektronik saatin gösterdiği zaman hangi saatte verilmiştir?



- A. 15.15 B. 15.20 C. 15.35

A.



B.



C.



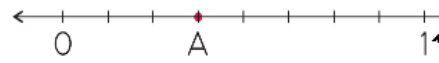
Aşağıdaki dönüşümlerden hangisi yanlıştır?



- A. 1 gün = 24 saat
B. 1 saat = 90 dakika
C. 1 yıl = 365 gün 6 saat

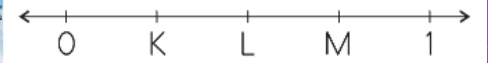
1 saat + 10 dakika + 1 saat 5 dakikalık süre hangisine eşittir?

- A. 2 saat 15 dakika
B. 2 saat 20 dakika
C. 2 saat 25 dakika



Yukarıdaki sayı doğrusunda A harfine karşılık gelen kesir hangisidir?

- A. $\frac{4}{8}$ B. $\frac{3}{10}$ C. $\frac{3}{8}$



Yukarıdaki sayı doğrusunda birim kesir hangi harfe karşılık gelir?

- A. K B. L C. M

Aşağıdaki bütünlerin belirtilen birim kesir kadarını bulun.

140 sayısının $\frac{1}{5}$ 'i

200 sayısının $\frac{1}{8}$ 'i