

Adı:



Yaz geldi, doğanın şölenu başladı,
Gökyüzü mavi, kuşlar özgürce uçtu.
Çiçekler gülümsedi, ağaclar dans etti,
Toprağın altında yaşam uyanışa geçti.

Yazın güzellikleri her bir anı süsler,
Işıltılı anılar biriktiririz gönülden.
Yaz gelmiş, sevgiyle dolmuş her kalp,
Yazın büyüüne kapılırız, hayat dolu dolu yaşarız.

Anonim

Şiire göre aşağıdaki soruları cevaplayalım.

1. Şiire uygun bir başlık verelim.

2. Şiirin konusu nedir?

3. Şiirin ana duygusu nedir?

4. Şiir kaç dizeden oluşmaktadır?

5. Şiir kaç kıtadan oluşmaktadır?

6. Şiire bir dördlük de siz ekleyiniz.

Soyadı:

Zıt Anlamlılarını Bulalım

1. mutluluk

gündüz

2. karanlık

iniş

3. gece

küçük

4. parlak

soğuk

5. büyük

beyaz

6. dolu

üzüntü

7. sıcak

kirlî

8. yokuş

boş

9. siyah

aydınlık

10. temiz

mat

Noktalama İşaretlerini Tamamla

★Aaaa () merdivenden düştüm ()

★Bunu kim yaptı ()

★Sen çok başarılı bir çocuksun ()

★Elma () armut () muz en sevdiğim meyvelerdir ()

★Ben anlamadım ki ()

SORULARI BUL BAKALIM

🍓 ?

Atatürk, 1881 yılında doğdu.

🍓 ?

En çok elma ve muzunu seviyorum.

🍓 ?

Çocuklar parkta oyun oynuyorlar.

Etkinlik: Aşağıdaki problemleri çözünüz.

• Mehmet, 72 bilyesini 8 arkadaşına paylaşıyor. Kişi başına kaç bilye düşmüştür?



• 3/B sınıfında 32 öğrenci vardır. Öğrenciler ikişerli oturduğuna göre 3/B sınıfında kaç sıra vardır?



• Fatma teyze, yaptığı 76 kurabiyeyi 4 çocuğa eşit olarak dağıtıyor. Kişi başına kaç kurabiye düşmüştür?



• Melih, 84 sayfalık kitabı her gün eşit sayfa okuyarak bir haftada bitiriyor. Melih, bir günde kaç sayfa kitap okumuştur?



• Bir çiftlikteki atların ayak sayıları toplamı 92'dir. Çiftlikte kaç at vardır?



• 96 çikolata altışarlı olarak paketlere ayrılıyor. Buna göre kaç paket çikolata olur?



• Bir pastanede 36 çilekli, 28 muzlu pasta vardır. Pastalar dörderli gruplara ayrılırsa kaç grup pasta olur?



• Bir çiçekçi 87 adet gülü üçerli demetler halinde satıyor. Demetin tanesi 8 TL'den satıldığına göre çiçekçi kaç TL kazanmıştır?



• Bir satıcı 238 poğaçanın 158 tanesini satmıştır. Kalan poğaçaları beşerli gruplara ayırmıştır. Kaç grup poğaçaya olur?



• Bir manav, 6 kasa erik aldı. Her kasada 12 kg erik vardı. Erikleri dörder kilogramlık kutulara koyan manav kaç tane kutu kullanmıştır?



☞ Aşağıdaki ses kaynaklarını uygun alanda işaretleyiniz.

SES KAYNAKLARI

☞ Aşağıdaki ses kaynaklarını uygun alanda işaretleyiniz.


Ses Kaynakları	Doğal Ses	Yapay Ses	Ses Kaynakları	Doğal Ses	Yapay Ses
Gitar			Çocuk		
Koyun			Piyano		
İnsan			Yağmur		
Şimşek			Oyuncak		
Akarsu			Radyo		
Şelale			Flüt		
Rüzgar			Uçak		
Korna			Araba		
Elektrik süpürgesi			Saç kurutma makinesi		

Etkinlik: Aşağıda verilen trafik işaretlerinin anlamlarını yazınız.

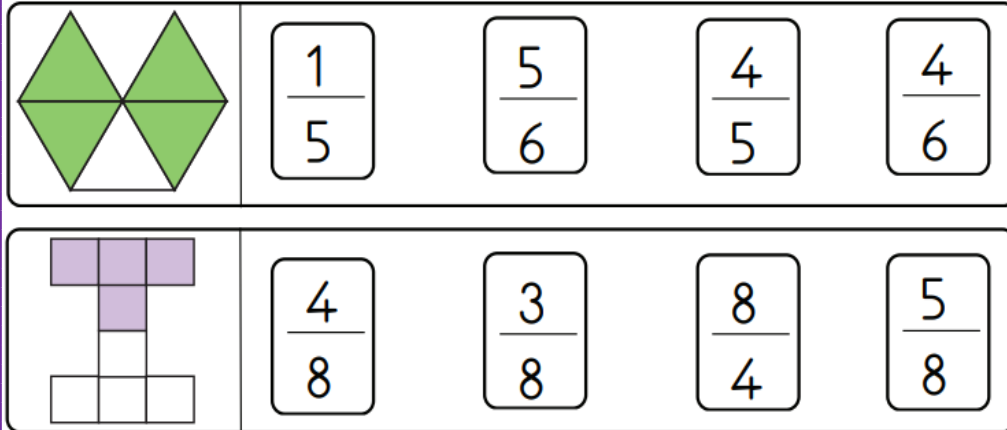


Etkinlik


Aşağıdaki kesir sayılarından birim kesir olanları maviye boyayalım.

**Etkinlik**

Aşağıda verilen modellerin boyalı kısımlarının ifade ettiği kesir sayısını bulup, kutusunu yeşile boyayalım.



Bir Çokluğun Birim
Kesir Kadarını Bulma



Dondurmaların $\frac{1}{3}$ 'ü kaç dondurmadır?



Kamyonların $\frac{1}{5}$ 'i kaç kamyonur?



Oyuncakların $\frac{1}{4}$ 'ü kaç oyuncaktır?



Şemsiyelerin $\frac{1}{8}$ 'i kaç şemsiyedir?