

OKU VE ANLA

Aşağıdaki şiiri en az iki defa okuyalım. Şiirle ilgili soruları cevaplayalım.

ÇALIŞALIM

Arı gezer çiçek emer,
Kuşlar uçar bir yem arar,
Orman renkten renge girer,
Her tarafta çalışmak var.
Tembellikten sakınelım,
Çalışmanın zamanıdır.
İnsanlığı takınelım,
İş insanın bir canıdır.
Cennet gibi her yerimiz,
Sevinç ile dolmalıdır.
Bunun için her birimiz,
İş sahibi olmalıdır.

Ali Ulvi ELÖVE

1. Kuşlar uçarken ne aramaktadır?
.....

2. Sakınmamız gereken nedir?
.....

3. Her tarafta olan nedir?
.....

4. Her birimiz ne sahibi olmalıyız?
.....

Konu Testi

1. "Hür" sözcüğünün zıt (karşıt) anlamlısı aşağıdakilerden hangisidir?
A) Esir B) Cesur C) Bağlı
2. "Acı" sözcüğünün zıt (karşıt) anlamlısı aşağıdakilerden hangisidir?
A) Ekşi B) Tuzlu C) Tatlı
3. "Siyah-beyaz" sözcükleri arasındaki anlam ilişkisi "uzun" sözcüğü ile aşağıdakilerden hangisi arasında vardır?
A) Dar B) Kısa C) Enli
4. "İyi" sözcüğünün zıt (karşıt) anlamlısı aşağıdakilerden hangisidir?
A) Kötü B) Büyük C) Nazik
5. "Çalışkan-tembel" sözcükleri arasındaki anlam ilişkisi "zayıf" sözcüğü ile aşağıdakilerden hangisi arasında vardır?
A) Şişman B) İnce C) Uzun

Aşağıda karışık verilen harfleri alfabemizdeki sıraya göre örnekteki gibi yazalım.

? e, c, n ? k, y, r
c - e - n

? z, c, l ? p, o, d
.....

? ğ, v, k ? k, f, ş
.....

? m, k, o ? ş, p, m
.....

Aşağıdaki bilmeceleri okuyalım.
Cevaplarını bulup yazalım.

Karada bayılır,
Suda ayılır.

?

bisiklet

Uzun uzun uzanır,
Senede bir bezenir.

?

balık

İki teker, üç teker,
İki ayakla nasıl gider?

?

ağaç

Aşağıdaki kelimeleri sözlük sırasına göre sıralayarak örnekteki gibi yazalım.

buz ay çöl
1. ay 2. buz 3. çöl

? zürafa fil balık
1. 2. 3.

? kalem silgi defter
1. 2. 3.

? kiraz armut muz
1. 2. 3.

Aşağıdaki kelimeleri ok yönünde üç defa okuyalım.

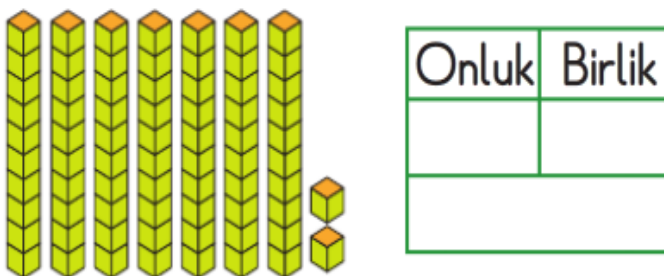
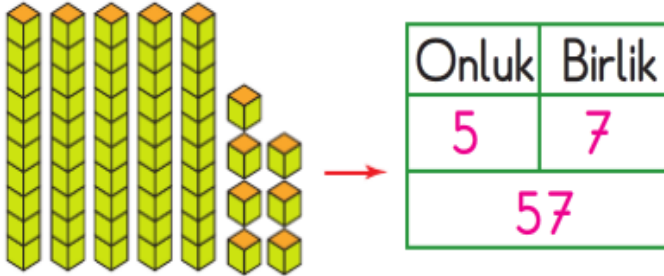
→

duman	yaman	saman	orman
bilim	kilim	selim	salim
hasta	hafta	tahta	çanta
mırıltı	hırıltı	şırıltı	pırıltı
gözlük	önlük	günlük	gürlük
koşar	coşar	yaşar	taşar
çamur	hamur	yağmur	samur
toprak	yaprak	çorak	kurak
tırnak	toynak	oynak	kaynak

Onluklar ve Birlikler

Sayıları onluk ve birliklerine örnekteki gibi ayıralım.





1. 
Verilen nesnelerin miktarını belirten sayı aşağıdakilerden hangisidir?

A) 21 B) 22 C) 23

2. 86 doğal sayısı, kaç onluk kaç birlikten oluşur?

A) 8 onluk 6 birlik

B) 6 birlik 8 onluk

C) 8 onluk 8 birlik

3. 4 onluk 3 birlikten oluşan sayı aşağıdakilerden hangisidir?

A) 34 B) 42 C) 43

4.

35
3 onluk

 Yandaki noktalı yere aşağıdakilerden hangisi yazılmalıdır?

A) 5 onluk

B) 5 birlik

C) 3 birlik

5.

Onluk	Birlik
7	5
?	


 Yanda soru işareti (?) ile gösterilen yere hangi sayı yazılmalıdır?

A) 75

B) 57

C) 55


Sayısı bir deste olan varlıkların altındaki kutucukları işaretleyelim.



Aşağıdaki varlıkları sayalım. 1 deste olanların kutucuğuna "X" işareti koyalım.



Aşağıdaki çoklukların bir deste olması için kaç nesne daha gerekli olduğunu altlarındaki kutucuklara yazalım.



Aşağıdaki noktalı yerleri uygun sayılarla tamamlayalım.

1. Bir deste kalem kalem eder.
2. İki deste limon limon eder.
3. Beş deste muz muz eder.



Sayıları bir düzine olan varlıkların altındaki kutucukları işaretleyelim.



Aşağıdaki arabaların bir düzinesini boyayalım.



HAYAT BİLGİSİ

1. "Siyah uzun saçlı, mavi gözlü ve kısa boyluyum."

Bu cümlede fiziksel özelliklerinden söz eden öğrenci aşağıdakilerden hangisi olabilir?

A)



B)



C)



2. Aşağıdakilerden hangisi bireysel farklılıklarımızdan biri değildir?

- A) İlgi ve yeteneklerimiz
- B) Şevip, hoşlandıklarımız
- C) Öğrendiğimiz dersler

3. Aşağıda verilenlerden hangisi fiziksel özelliğimiz değildir?

- A) Tenimizin rengi
- B) Saçımızın rengi
- C) Ayakkabımızın rengi

4.

?



Can

Bu hafta sonu
..... istiyorum.

Yukarıdaki cümlede boşluğa gelebilecek ifadelerden hangisi Can'ın yapabileceklerinden biri değildir?

- A) araba kullanmak
- B) futbol oynamak
- C) resim yapmak

5.

?

Aşağıdakilerden hangisi kendimizde bulunmasını istemediğimiz bir özellik olmalıdır?

A)



Yardımsızlık

B)



Kıskançlık

C)



Anlayış

6.

?

"Hepimizin bireysel olarak farklı yanları vardır. Birbirimizin farklı yönlerine karşı anlayışlı ve davranmalıyız."

Yukarıdaki ifadeye boşluğa hangisi gelmelidir?

- A) bencilce
- B) kaba
- C) saygılı

7.

?



Ece

Resim yapmayı ve spor yapmayı da severim. Ancak ben daha çok flüt çalmayı ve müzikle ilgilenmeyi seviyorum.

Yukarıdaki anlatımda Ece daha çok hangi bireysel yönünü öne çıkarmıştır?

- A) Spor
- B) Müzik
- C) Resim

8. Aşağıdaki cihaz ve aletlerden hangisi duyma engelli arkadaşlarımız tarafından kullanılır?






9. Aşağıdakilerden hangisi bir çocuğun yapabildiğinden çok yapmak istediği bir etkinlik olabilir?

- A) Bisiklete binmek
B) Kaykaya binmek
C) Motosiklete binmek

10. Aşağıdaki sınıf kurallarından hangisi güvenliğimiz ile ilgilidir?

- A) Çöpleri yere atmamak
B) Sınıf içerisinde koşmamak
C) Derste söz alarak konuşmak


11. Yandaki alet aşağıdaki derslerden hangisi ile ilgilidir?

- A)  Matematik
- B)  Türkçe
- C)  Müzik

12. Sınıf panosunu karalayan bir öğrenciye aşağıdaki sınıf kurallarından hangisini söylemeliyiz?

- A)  Okul eşyalarını özenli ve dikkatli kullanmalıyız.
- B)  Derste öğretmenimizden söz alarak konuşmalıyız.
- C)  Sınıfta ve koridorlarda koşmamalıyız.

13.

 Pazartesi günü Türkçe, matematik, müzik ve hayat bilgisi derslerim var.

Lale

Yukarıdaki açıklamaya göre Lale'nin aşağıdakilerden hangisini okula götürmesine gerek yoktur?

- A)  SÖZLÜK
- B) 
- C) 