

ADI SOYADI: .....

TÜRKÇE



İngilizce dersinde Tarık'ın oturduğu sıraya kağıt parçası atıldı. Tarık, kağıdın geldiği yöne baktığında Elifi görüp hemen ona kızdı. Tenefüste Tarık'ın arkadaşları da olaya karışınca

olay daha da büyüdü. Her ne kadar Elif, kağıdı kendisinin atmadığını anlatmaya çalışsa da bunu bir türlü başaramadı. Çünkü arkadaşları onu sakın bir şekilde dinlemiyor, üstelik bağıyorlardı. Elif, haksızlığa uğradığı için kalbi çok kırıldı. Dersler bitince, Elif yaşadığı olayı annesine anlattı. Annesi de yaşanan olumsuzluğu sınıf öğretmenine haber verdi. Sonraki gün öğretmenimiz Elif ve Tarık'ı yanına çağırıp onları dinledi. Sonra Tarık ve arkadaşlarına "Hoşlanmadığınız bir olayı kimin yaptığını bilmeden, önyargı ve şüpheyle karar verdiğiniz için büyük bir hata yaptınız. Bir daha emin olmadığımız olaylarda hemen karar vermemelisiniz." dedi. Elifi dinlemeden karar verdikleri için arkadaşları ondan özür dilediler.

( İlk üç soruyu metne göre cevaplandırınız. )

1-Tarık neden Elife bağıyor, kızmış?

- A) Sırasına kağıt atanın Elif zannettiği için kızmış.
- B) İngilizce dersinde dikkatini dağıttığı için kızmış.
- C) Öğretmene şikayet ettiği için kızmış.

2-Elif'in kalbinin kırılmasının sebebi aşağıdakilerden hangisi **olamaz**?

- A) Haksız bir şekilde suçlanması.
- B) Arkadaşları tarafından sevilmemesi.
- C) Tarık ve arkadaşları tarafından dinlenmemesi.

3-Metinde yaşanan olaydan nasıl bir ders çıkarmalıyız?

- A) Okulda bir olay olunca ailemizi çağırmalıyız.
- B) Derste şakalar yaparak herkesi güldürmeliyiz.
- C) Bilmeden, öğrenmeden hemen karar vermemeliyiz.

"Zeynep büyüdüğünde doktor olmak istiyor."

4-Altı çizili kelimenin yerine aşağıdakilerden hangisini kullanabilir?

- A) Veteriner B) Hemşire C) Hekim

5-Aşağıdaki cümlelerin hangisinde zıt anlamlı kelimeler **yoktur**?

- A) Kuzeyde Karadeniz, güneyde Akdeniz bulunmakta.
- B) Şişman veya zayıf olmamak için dengeli beslenmeliyiz.
- C) Sınıfa gelir gelmez hemen bahçeye koşuyor.

"İzmir'deki otobüs İstanbul'a doğru yola çıktı."

6-Aşağıdaki sorulardan hangisinin cevabı yukarıdaki cümlede vardır?

- A) kim B) niçin C) nereye

7-Aşağıdaki cümlelerin hangisinin sonuna farklı bir noktalama işareti konulmuştur?

- A) Hey, önündeki kağıda bak
- B) Nisa kitap okumada birinci oldu
- C) Tüh, yine soruyu dikkatli okumamışım



Özel isimlere gelen bazı ekler, ismin anlamını değiştirdiği için kesme işareti kullanılmamalı.

8-Buna göre aşağıdaki cümlelerin hangisinde özel ismin yazımında **yanlışlık** yapılmıştır?

- A) Ramazanda Ayşe'lere yemeğe gittik.
- B) Işıl'ın derste Miray'la konuşması iyi değil.
- C) Sınıfımıza Malatyalı bir arkadaş geldi.

kapı	arıza	genç
başarı	dört	deniz

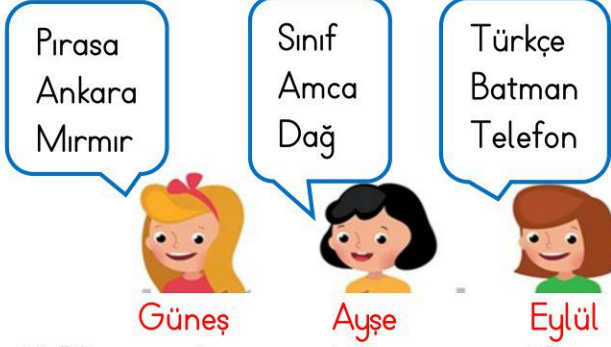
9-Yukarıdaki kelimeler hece sayılarına göre tabloya yazıldığı zaman tablonun doğru görünüşü aşağıdakilerden hangisi olur?

	1 heceli	2 heceli	3 heceli
A)	kapı dört	arıza başarı	genç deniz
B)	genç dört	Kapı deniz	Arıza başarı
C)	genç kapı	başarı deniz	arıza dört

Cümledeki kelimeler doğru yazılmadığı zaman, kelime veya cümlenin anlamı bozulabilir.

10-Buna göre aşağıdaki cümlelerin hangisinde yazım yanlışı yapılmıştır?

- A) Otobus şoförü yolcuları uyardı.  
B) Yalnız kelimeleri yanlışı yazmamalısın.  
C) Çocuklar kibritle oyun oynamamalı.



11-“Cins isimlere örnek verir misiniz?” sorusuna hangi öğrenci doğru cevap vermiştir?

- A)Güneş B)Ayşe C)Eylül

13-Hangisi olumsuz bir cümle **değildir**?

- A) Öğretmenim sınıftaki dolapta top yok.  
B) Bulduğunuz kalem bana ait değil.  
C) Babamın işi uzun sürünce eve geç geldi.

14-Ağzımızdan çıkan seslerin sembolle gösterilişine harf diyoruz. Alfabemizde 29 harf vardır. Aşağıdaki kelimelerden hangisinin harf (ses) sayısı farklıdır?

- A) kadayıf B) baklava C) kurabiye

	kır
	kıl
	kış
	kal

15-Tablodaki kelimelerin alfabetik sıralamaya göre doğru sıralanışı aşağıdakilerden hangisidir?

- A) 4. 2. 1. 3.  
B) 3. 2. 4. 1.  
C) 2. 3. 4. 1.

12-Aşağıdaki kelimelerden hangisi eş anlamlı **değildir**?

- A) sözcük kelime B) rüya düş C) yakın uzak

## MATEMATİK



1-Defne ailesiyle birlikte okuyup, topladığı 32 kitabı görseldeki raflara eşit olarak yerleştirdi. Defne, her rafa kaç kitap yerleştirdi?

- A) 6  
B) 8  
C)12

2-Aşağıdaki şekillerden hangisi yarımı göstermektedir?

- A) B) C)

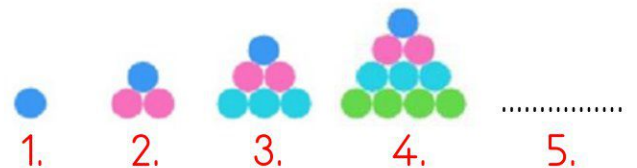
3-Üç düzine çileğin 6 tanesi çürük çıktı. Geriye kalan çilekler 3 tabağa eşit sayıda olacak şekilde yerleştirilirse her tabakta kaç tane çilek olur?

- A) 10  
B) 8  
C)12



4-Aşağıdaki ifadelerden hangisi görsele göre doğrudur?

- A) Duvarın önünde iki kişi var.  
B) Kaldırımın dışında dört çocuk var.  
C) Şapkalı çocuğun altında kaykay var.



5-Yukarıdaki şekil örüntüsüne göre beşinci sıraya kaç boncuk dizilmelidir?


- A) 15 B) 12 C) 18



6-Yandaki tabloda belirtilen işleme göre  $A+B+C$  kaçtır?

÷	2	3	6
24	12	8	C
18	A	6	3
12	6	B	2

- A)15  
B)17  
C)11



7-Üçgenle ilgili ifadelerden hangisi doğrudur?

- A) Kenar ve köşe sayılarım birbirine eşit.  
B) Silindire şeklim çizilebilir.  
C) Büyüklük ve yönüm değiştikçe özelliğim de değişir.

8- Aşağıdaki bölme işlemlerinden hangisinin sonucu **farklıdır**?

- A)  $21 \div 3$  B)  $24 \div 4$  C)  $30 \div 5$

9- 3 onluk 4 birlikten oluşan sayı ile 4 onluk 7 birlikten oluşan sayının tahmini toplamı kaçtır?

- A) 90  
B) 80  
C) 50



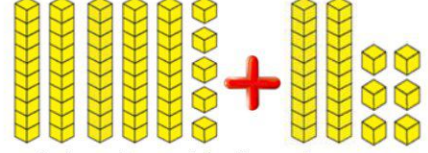
10- Süveyda pastaneye gidip birinci kurabiyeden 3 tane, ikinci pastadan 3 tane ve üçüncü kurabiyeden 6 tane aldığına göre kaç lira ödemelidir?

- A)57  
B)65  
C)49

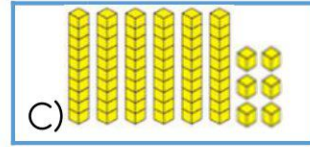
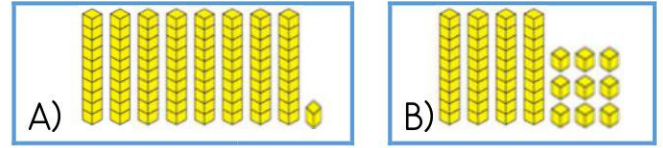
$$8+8+8+8+8 = \square \times 8$$

11-Eşitliğin doğru olabilmesi için  $\square$  yerine hangi sayı yazılmalıdır?

- A) 6 B) 5 C) 8



12-Yukarıda onluk taban bloklarıyla gösterilen toplama işleminin sonucu aşağıdakilerden hangisidir?



13- Esmâ, abaküs üzerinde 75 sayısını gösterebilmek için kaç tane boncuk dizmesi gerekmektedir?

- A) 18 B) 9 C) 12

14- Poyraz marketten aldığı 17 şekerin 3 tanesini yedi. Geriye kalanları kardeşi Eylül ve Elif arasında eşit paylaştırdığında her birinin kaç şekerleri oldu?

- A) 5  
B) 7  
C) 9

$$\begin{aligned} 21-7 &= 14 \\ 14-7 &= 7 \\ 7-7 &= 0 \end{aligned}$$

15-Yukarıda ardışık çıkarma işlemiyle gösterilen bölme işleminin cevabı (bölümü) kaçtır?

- A) 21 B) 7 C) 3

## HAYAT BİLGİSİ

Bisikleti ..... kullanmamalıyız.

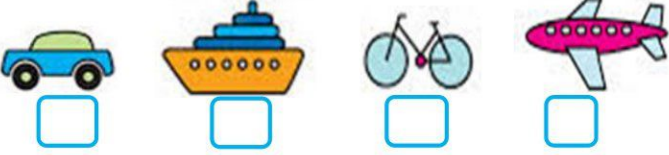


1-Yukarıdaki ifadeye göre aşağıdakilerden hangisi uygun **olmaz**?

- A) hızlı B) tehlikeli hareketlerle  
C) dikkatli

2-Çevremizde yaşayan insanlara karşı duyarlı olmamızı öğütleyen atasözü aşağıdakilerden hangisidir?

- A) Ayağını yorganına göre uzat.  
B) Komşu komşunun külüne muhtaçtır.  
C) Bugünün işini yarına bırakma.



3-İnsanlar bir yere hızlı ulaşabilmek için zamandan tasarruf etmek isterler. Buna göre ulaşım araçlarını hızlıdan yavaşına doğru sıralaması aşağıdakilerden hangisidir?

- A)3-4-1-2 B) 2-3-4-1 C) 2-1-4-3

Dengeli beslenmek	Spor yapmak	Kişisel temizlik
Okula gitmek	Düzenli uyku	Oyun oynamak

4-Sağlıklı bir birey olabilmek için yukarıdakilerden kaç tanesini yapmalıyız?

- A)4 B)3 C)2

5-Zeynep, sıra arkadaşının derslerdeki bazı davranışları yüzünden dikkatinin dağıldığını fark ediyor. Bu durumda Zeynep ne yapmalıdır?

- A) Rahatsızlığını arkadaşına anlatmalıdır.  
B) Ailesinden destek istemelidir.  
C) Aynı hatayla karşılık vermelidir.



6-Görseldeki çocuklara göre aşağıdakilerden hangisine doğru **diyemeyiz**?

- A) İlgileri aynı değildir. B) Yetenekleri farklıdır.  
C) Kişilikleri aynıdır.



7-Gününü planlamak isteyen Ömer, görseldeki saatte aşağıdakilerden hangisini **yapamaz**?

- A) Kahvaltı B) Oyun C) Dinlenme

8-"Atatürk'ün Samsun'a çıktığı günü ..... olarak kutlarız." cümlesindeki noktaya aşağıdakilerden hangisi yazılmalıdır?

- A) Zafer Bayramı B) Cumhuriyet Bayramı  
C) Gençlik ve Spor Bayramı

9-Aşağıdakilerden hangisi 2.sınıfa giden bir çocuğun yapabileceği bir iş **değildir**?

- A) Bilgisayardan araştırma yapmak.  
B) Elektrikli ev aletlerini kullanmak.  
C) Parkta bisiklet sürmek.

Bayrağımızda hilal ve güneş şekli vardır.
Her ülkenin bayrağı ve marşı vardır.
Mehmet Akif Ersoy, ödül için marşı yazdı.
Bayrak ve marş bağımsızlık sembolüdür.

10-Yukarıdaki ifadeleri doğru (D) ve yanlış (Y) olarak belirtirsek, tablonun görünümü nasıl olur?

A)	D	B)	Y	C)	Y
	D		D		D
	Y		Y		D
	Y		D		Y