

Adı:
Soyadı:



3/A Çalışma Kağıdı

Tarih
...../...../2023

ÇİFTÇİNİN OĞULLARI

Hayli ihtiyarlamış olan çiftçi, hasta yatağının kenarına çağırdığı çocuklarına öğütler veriyordu:
— Sakın size miras olarak kalacak bu verimli tarlaları satmaya kalkışmayın. Bu tarlalardan birinin köşesine ne kadar param, altınım varsa gömdüm. Bıkmadan, usanmadan, tarlaları sürer, kazar, bellerseniz bu paraları bularak zengin olabilirsiniz, dedi.

Çocuklar, babalarının söylediklerini başları önlerine eğik dinlediler. Baba bir zaman sonra bu dünyadan göçüp gitti. Çocuklar babalarının ölümünden sonra gizli serveti aramaya başladılar. Her yeri sürdüler, kazdılar ama hiçbir şey bulamadılar. İçlerinden biri, sonbahar yağmurları başladığı zaman:

— Artık çalışamaz olduk. Yağmurlar başladı, tarlalar çamur oldu. İsterseniz kışın çalışmayalım. Gelecek yaz başlarız, diye bir öneride bulundu.

Bir diğer çocuk:

— Madem bu kadar çalıştık çabaladık, sürdüğümüz toprağa buğday ekelim, dedi.

— Çok iyi olur. Bellediğimiz yerlere de sebze ve patates ekeriz.

— Kazdığımız çukurlar da boş kalmasın. Oralara da fidan dikelim olmaz mı?

Çocuklar dediklerini yaptılar. Tarlalar ilkbahar geldiğinde yemyeşil oldu. Gömülü bulunan altınları aramak için ekinleri kesmek ve toplamak gerekti. Topladıkları ekinlerin buğdayını aldıktan sonra, bahçelerindeki ağaçların meyvelerini topladılar, sebzelerinden kendilerine yemek yaptılar. Bütün bu işler bittikten sonra yine altın aramaya başladılar. Yine bir şey bulamadılar. Ama sürdükleri toprağı boş bırakmak istemediler. Buğday ektiler. Bu böyle sürüp gitti yıllarca... Aslında baba doğruyu söylememişti. Toprağın altında altın, para falan yoktu. Yaşlı adam, çocuklarına çalışmanın bitmez tükenmez bir servet olduğunu göstermek istemişti. İsteği de yerine gelmişti. Çocukları onun ölümünden sonra çalışıp durdular, daha da zenginleştiler ve mutlu oldular.

? Metnin Türü

? Metnin Konusu

? Metnin Ana Düşüncesi

Başlık

Aşağıdaki şiirin ana duygusu nedir?

Bembeyaz oldu ortalık
Kışın da başka tadı var
Hava bir parça karanlık
Her yanda buz tutmuş sular

KIŞ
Gel biz de şöyle kocaman
Bir kardan adam yapalım
Eğer düşmekten korkmazsan
Buzun üstünde kayalım.

? Ana Duygu:

Aşağıda verilen cümleleri 5N1K ifadelerinden uygun olanı ile tamamlayalım.

Ne

..... sınıf başkanı seçildi?

Ne zaman

Çarşıdan aldınız?

Nerede

İzmir'e gidiyorsunuz?

Kim

Çocuklar top oynuyor?

Nasıl

Doğum gününe beni davet etmedin?

Niçin

Bu problemi çözdün?

Aşağıdaki cümleler gerçek ifade içeriyorsa "G", hayal ürünü ifade içeriyorsa "H" yazalım.

Dalgaların boyu gittikçe yükseliyordu.

En son dev gibi bir dalganın teknenin üzerine geldiğini hatırlıyordu.

Gözlerini açtığında kendini bir adada bulmuştu.

Çocuğun kendine geldiğini gören adadaki ulu çınar ağacı ona seslendi.

Çınar ağacı, "Artık burada birlikte yaşayacağız." dedi.

"Kahvaltı hazır!" diyen annesinin sesiyle uyanan çocuk rüya gördüğünü anladı.

Aşağıdaki cümlelerde farklı düşünmeye yönlendiren sözcüklerin altını çizelim.

Annesi eve çağırınca üzüldü oysa oyuna daha yeni başlamışlardı.

Rıza'ya kızgındı buna rağmen hâline üzülüyordu.

Seninle maça gelirim yalnız önce işlerimi bitirmeyelim.

Sabah yola çıkacağını söylemişti ama uyanamamış.

Gelecek hafta İzmir ya da Manisa'ya gideceğiz.

Çarpma İşlemi

A. Aşağıdaki çarpma işlemlerini yapalım.

$$\begin{array}{r} 39 \\ \times 6 \\ \hline \end{array}$$
$$\begin{array}{r} 63 \\ \times 4 \\ \hline \end{array}$$
$$\begin{array}{r} 14 \\ \times 3 \\ \hline \end{array}$$

$$\begin{array}{r} 47 \\ \times 7 \\ \hline \end{array}$$
$$\begin{array}{r} 26 \\ \times 5 \\ \hline \end{array}$$
$$\begin{array}{r} 51 \\ \times 9 \\ \hline \end{array}$$

B. Aşağıdaki çarpma işlemlerini yapalım.

$$\begin{array}{r} 357 \\ \times 2 \\ \hline \end{array}$$
$$\begin{array}{r} 154 \\ \times 6 \\ \hline \end{array}$$
$$\begin{array}{r} 138 \\ \times 4 \\ \hline \end{array}$$

$$\begin{array}{r} 305 \\ \times 3 \\ \hline \end{array}$$
$$\begin{array}{r} 246 \\ \times 3 \\ \hline \end{array}$$
$$\begin{array}{r} 109 \\ \times 5 \\ \hline \end{array}$$

C. Aşağıdaki çarpma işlemlerini yapalım.

$$\begin{array}{r} 69 \\ \times 11 \\ \hline \end{array}$$
$$\begin{array}{r} 23 \\ \times 12 \\ \hline \end{array}$$
$$\begin{array}{r} 18 \\ \times 16 \\ \hline \end{array}$$
$$\begin{array}{r} 52 \\ \times 14 \\ \hline \end{array}$$
$$\begin{array}{r} 24 \\ \times 15 \\ \hline \end{array}$$
$$\begin{array}{r} 38 \\ \times 26 \\ \hline \end{array}$$

D. Aşağıdaki soruları cevaplayalım.

1.

$$\begin{array}{r} 187 \\ \times 5 \\ \hline \end{array}$$

Yukarıdaki çarpma işleminin sonucu kaçtır?

- A) 835 B) 935 C) 955

2.

$$43 \times 19 = ?$$

Yukarıdaki çarpma işleminde "?" yerine hangisi yazılmalıdır?

- A) 430 B) 807 C) 817

3.

$$* > 26 \times 24$$

Yukarıdaki karşılaştırmada "*" yerine yazılabilecek en küçük sayı kaçtır?

- A) 624 B) 625 C) 626

4.

$$\begin{array}{r} 26 \\ \times 16 \\ \hline \end{array}$$

$$\begin{array}{r} 28 \\ \times 12 \\ \hline \end{array}$$

$$\begin{array}{r} 18 \\ \times 17 \\ \hline \end{array}$$

Yukarıdaki çarpma işlemlerinden hangisinin sonucu en büyüktür?

- A) I B) II C) III

5.

$$56 \times 13 = \bullet$$

$$24 \times 11 = \blacktriangle$$

Yukarıdaki çarpma işlemlerinin sonucuna göre " $\bullet + \blacktriangle$ " kaçtır?

- A) 728 B) 992 C) 994

Kaynakların Kullanımı - Planlı Olma

A. Aşağıdaki cümlelerde boş bırakılan yerleri uygun sözcükler ile tamamlayalım.

para isteklerimize su tasarruflu elektrik öncelik kapatmalıyız doğal gaz

- Evimizdeki ampulleri ampuller ile değiştirmeliyiz.
- Evde, ve gibi kaynaklar kullanırız.
- Gereksiz yanan ışıkları
- İhtiyaçlarımıza vermeliyiz.
- Kullanılan kaynak karşılığında öderiz.
- İhtiyaçlarımızı karşıladıktan sonra sıra gelir.

Aşağıda numaralanmış maddelerin buldukları hâlleri belirtelim.



1



2



3



4



5


Katı

Sıvı

Gaz



6



7



8



9




10

Aşağıdaki ifadelerden doğru olanlara "D", yanlış olanlara "Y" yazalım.

- Temiz olmak için kişisel bakımımıza özen göstermeliyiz.
- Kişisel bakımımızı yaparken kaynakları dikkatli kullanmamıza gerek yoktur.
- Elimizi yıkarken suyu ve sabunu tasarruflu kullanmamalıyız.
- Dişlerimizi fırçalarken musluğu açık bırakmamalıyız.
- Kişisel bakım için düzenli olarak tırnaklarımızı kesmeliyiz.
- Yemeklerden önce ve sonra ellerimizi yıkamalıyız.
- Sabah yataktan kalkar kalkmaz kahvaltı yapmalıyız.


1.



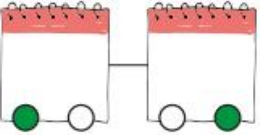
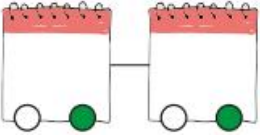
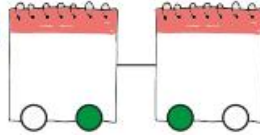
Verilen aile şemasında seçeneklerden hangisi boşluklara getirilemez?

- A) father B) sister C) son

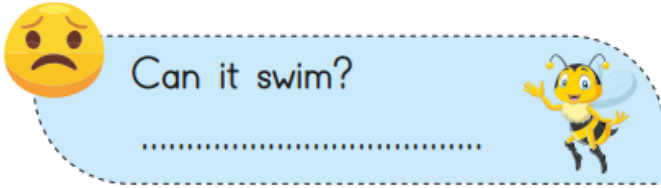
2.



Yukarıdaki görsellerden doğru olanlar işaretlenirse aşağıdakilerden hangisi oluşur?

- A)  B)  C) 

3.



Yukarıdaki görsele ve yüz şekline göre sorunun cevabı aşağıdakilerden hangisidir?

- A) No, it isn't. B) Yes, it is. C) No, I am.

4. Görsele göre boşluğa hangisi gelmelidir?

- A) grandmother
B) grandfather
C) brother



- A: Who is this?
B: She is my

5. Yandaki kişi hangisini söylerse doğru olur?

- A) I'm short and thin.
B) I'm fat and tall.
C) I'm short and fat.

