

Adı:
Soyadı:



TÜRKÇE-HAYAT BİLGİSİ

2/A Çalışma Kâğıdı



Aşağıdaki cümlelerden doğru olanların başına "D", yanlış olanların başına "Y" harfini yazalım.

- ... Annemizin kız kardeşine "hala" deriz.
- ... Teyzemin kız kardeşi benim annemdir.
- ... Annemizin erkek kardeşine "amca" denir.
- ... Amcamın erkek kardeşi benim babamdır.
- ... Dayım babamın erkek kardeşidir.
- ... Babamın babasına "dede" veya "büyükbaba" denir.
- Cümleleri uygun ifadelerle tamamlayınız.

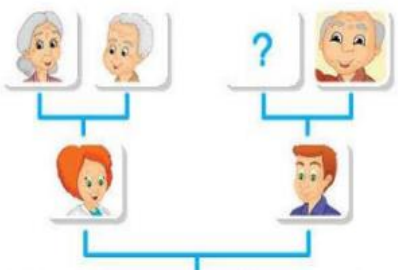
- Annemizin babasına deriz.
- Annemizin annesine deriz.
- Babamızın babasına deriz.
- Babamızın annesine deriz.
- Annemizin erkek kardeşine deriz.
- Annemizin kız kardeşine deriz.
- Babamızın erkek kardeşine deriz.
- Babamızın kız kardeşine deriz.

Bulmacada gizlenen akrabalık adlarını bularak boyayınız.



Amca
Babaanne
Teyze
Dayı
Ağabey
Enişte
Abla
Yenge
Anneanne
Hala
Kardeş

1.  Tuğba Babamın kız kardeşine deriz.
- Tuğba'nın cümlesi aşağıdaki kelimelerden hangisi ile tamamlanır?
- A) hala B) abla
C) teyze

2. 
- Yukarıdaki şemada "?" yere hangisi gelmelidir?
- A) Teyze B) Hala
C) Babaanne

3.  Dayımızın kız kardeşine hangisini söylemeyiz?
- A) Teyze B) Anne
C) Hala


4. 
- Dede Dayı Hala
- Yukarıdaki akrabalarımızdan hangisi diğerlerine göre daha büyüktür?
- A) Dede B) Dayı
C) Hala

2/A Sınıfı Çalışmaları
Enes SERT


PROBLEMLER

1. Annem 34, babam 38 yaşındadır. Dedemin yaşı, annem ve babamın yaşlarının toplamından 6 eksiktir. Dedem kaç yaşındadır?

Çözüm

2.  Yandaki rakamlarla yazılabilecek iki basamaklı en küçük tek sayı ile iki basamaklı en büyük sayının farkı kaçtır?


Çözüm

3.  Yandaki sayılardan çift sayı olanların toplamı, tek sayı olanların toplamından kaç fazladır?

Çözüm

4. İki sayının farkı 17'dir. Sayılardan küçüğü 38 olduğuna göre büyük olan sayının 5 fazlası kaçtır?

Çözüm

5.  Yandaki sayıları büyükten küçüğe doğru sıraladığımızda baştan 2. sayı ile sondan 2. sayının toplamları kaç olur?

Çözüm

---Mini Testim---

33 elmanın 5 tanesini yedim.
Geriye kaç elma kaldı?

93 sayfalık bir hikâye kitabının birinci gün 19 sayfasını, ikinci gün 17 sayfasını okudum.

Okuyacağım daha kaç sayfa kaldı?

58 yumurtanın 20 tanesi satıldı.

Geriye kaç yumurta kaldı?

2/A sınıfının öğrenci sayısı 34'tür. Bunlardan 15'i kız öğrenci olduğuna göre, erkek öğrenci sayısı kaçtır?

Hilal'in 20 fıncığı var. Fındıkların yarısından 3 fazlasını Büşra'ya verdi.

Geriye kaç fıncığı kaldı?