

Kazanım Değerlendirme

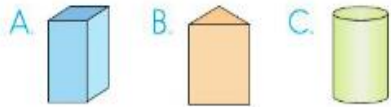
A. Doğru seçeneği işaretleyiniz.

(Her soru 3 puandır.)


1 Aşağıdaki cisimlerden hangisinin yüz ve yüzeyi aynıdır?



2 Aşağıdaki geometrik şekillerden hangisinin dokuz ayrıtı vardır?

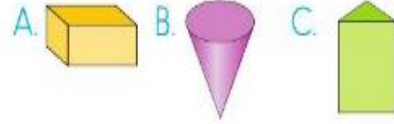


3 Yandaki geometrik cismin kaç yüzeyi vardır?



A. 1 B. 2 C. 3

4 Aşağıdaki geometrik cisimlerden hangisinin yüzey sayısı diğerlerinden daha çoktur?

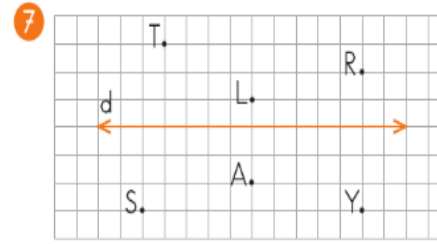

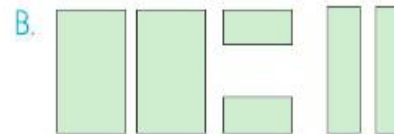



5 Aşağıdaki cisimlerden hangisinin köşesi yoktur?



6 Aşağıda bazı geometrik cisimlerin yüzeylerini oluşturan düzlemsel parçalar verilmiştir.

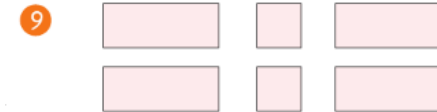
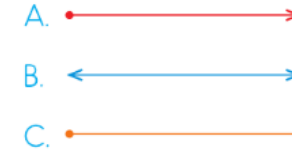
Hangisi dikdörtgenler prizmasının parçalarını göstermektedir?



Kareli kâğıttaki d doğrusuna paralel doğru çizen Ezgi, aşağıdaki noktalardan hangilerini birleştirmiştir?

A. T - R B. S - Y C. T - Y

8 Aşağıdakilerden hangisi ışın modelidir?

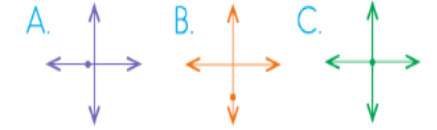


Yukarıdaki düzlem parçaları hangi geometrik cisme aittir?

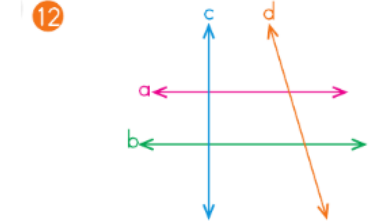


10 İki doğrunun kesiştiği yer nokta ile belirtilir.

Buna göre hangi seçenekte doğruların birleştiği yer nokta ile gösterilmiştir?



11 Aşağıdaki harflerin hangisinde dik doğru modeli vardır?



Yukarıdaki konumları verilen doğrulara göre;

- a doğrusu yatay konumdadır.
- b doğrusu eğik konumdadır.
- c doğrusu dikey konumdadır.
- d doğrusu eğik konumdadır.

Yukarıdaki bilgilerden kaç tane doğrudur?

A. 2 B. 3 C. 4

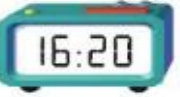


- 13 Ezgi 24 ₺ olan parasının önce 12 ₺ 50 kr.'sini, sonra 4 ₺ harcadı.

Ezgi'nin ne kadar parası kaldı?

- A. 7 ₺
B. 7 ₺ 50 kr.
C. 8 ₺ 50 kr.

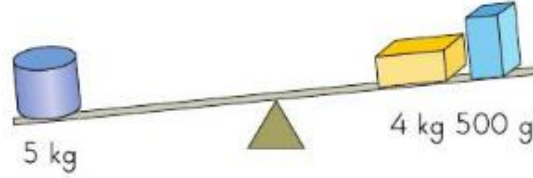
- 14 Saat 12.35'te yola çıkan bir otobüs 3 saat 45 dakika sonra gideceği yere ulaşıyor.

Otobüs gideceği yere saat kaçta ulaşmıştır?

- A.  B. 
C. 

15

?




Yukarıdaki terazinin dengede olması için sağ kefeye hangisi konulamaz?

- A. 1 tane yarım kilogram
B. 10 tane çeyrek kilogram
C. 5 tane 100 gram

(Her soru 5 puandır.)

- 1 Aşağıdaki kesirleri sayı doğrusu üzerinde gösteriniz.

?



- 2 Sayısal saatin gösterdiği zamanın 80 dakika sonrası kaç gösterir? Akrep ve yelkovanı çizerek gösteriniz.



- 3 Günde 5 dakika ileriye giden bir saat salı günü 12.00'de kuruluyor. Bu saat üç gün sonra 12.00'yi gösterdiğinde gerçek saat kaçtır?



- 4 Alinin 2 tane 20 ₺, 3 tane 10 ₺, 5 tane 5 ₺'si var. Ali, parası ile aşağıda fiyatları verilen ürünlerden hangisini alamaz? İşaretleyiniz.



35 ₺



100 ₺



60 ₺