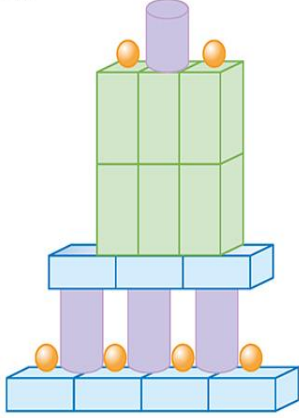


1. Yapılara uygun olarak tabloları doldurunuz.

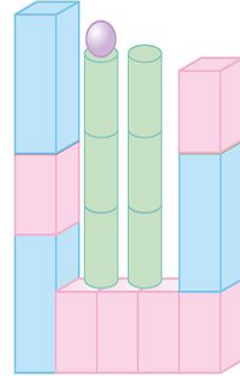
a.



Tablo: Cisimler

	7

b.



Tablo: Cisimler

2. Kemal, Mehmet ve Melike'nin çözdüğü soru sayılarıyla oluşturulan tabloyu doldurunuz.

Kemal : 80 soru
Mehmet : 70 soru
Melike : 90 soru

Tablo: Soru Sayıları

İsim	Sayı
Mehmet	
	90

3. Yandaki tabloda mavinin karşısına yazılacak sayı, 20'den küçüktür. Sayı, sarı rengin karşısında yazan sayıdan büyük ise noktalı yere hangi sayı yazılmalıdır?

Tablo: Renkler

Renk	Sayı
Sarı	18
Mavi
Yeşil	7

4. Yandaki çetele tablosunun başlığı aşağıdakilerden hangisi olabilir? İşaretleyiniz.

- Su Dolu Depo
 Kap Sayıları
 Sayısı

Tablo:.....

Kap	Sayı
Şişe	
Sürahi	
Kova	

Ayberk, arkadaşlarına en sevdiği hayvanın ismini sormuştur. Ayberk'in arkadaşlarının verdikleri cevaplar aşağıda verilmiştir.



at, kedi, at, tavşan, at, köpek, köpek, kedi, at, köpek, at, at, köpek, kedi, tavşan, tavşan

Yukarıda verilenlere göre 1, 2 ve 3. soruları cevaplayınız.

1. Ayberk, aldığı cevaplarla bir tablo oluşturmak isterse aşağıdakilerden hangisini elde eder?

A.	Hayvan	Sayı	B.	Hayvan	Sayı
	At	6		At	5
	Kedi	3		Kedi	4
	Tavşan	3		Tavşan	4
	Köpek	4		Köpek	3

C.	Hayvan	Sayı
	At	3
	Kedi	3
	Tavşan	6
	Köpek	4

2. Ayberk'in arkadaşları en çok hangi hayvanı seviyor?

A. Tavşan B. At
C. Köpek

3. Ayberk kaç arkadaşına en sevdiği hayvanı sormuştur?

A. 16 B. 17 C. 18



Üç arkadaş zıplama yarışı yapıyor ve en uzağa zıplayan arkadaş yarışı kazanıyor. Üç arkadaşın zıplarken aldıkları mesafeler aşağıda verilmiştir.

Ali : 20 santimetre
Ayşe : 18 santimetre
Berrin: 22 santimetre

4 ve 5. soruları yukarıda verilenlere göre cevaplayınız.

4. Yarışı kim kazanmıştır?

A. Ali B. Ayşe
C. Berrin

5. Ali, Ayşe'den kaç santimetre uzağa zıplamıştır?

A. 1 B. 2 C. 4



1.

Aşağıdaki soruları tabloya göre cevaplayınız.

- Okulumuzun spor odasında en çok hangi top vardır?
- Spor odasında en az hangi top vardır?
- Spor odasında kaç tane top vardır?




Tablo: Spor Odasındaki Toplar

Top türü	Sayısı
Futbol topu	7
Basketbol topu	5
Voleybol topu	6

2.

Ali, otoparkta bulunan arabaların renklerine göre aşağıdaki gibi bir tablo oluşturdu. Bu tabloyu inceleyerek, noktalı yerleri doldurunuz.

Tablo: Otoparktaki Arabalar

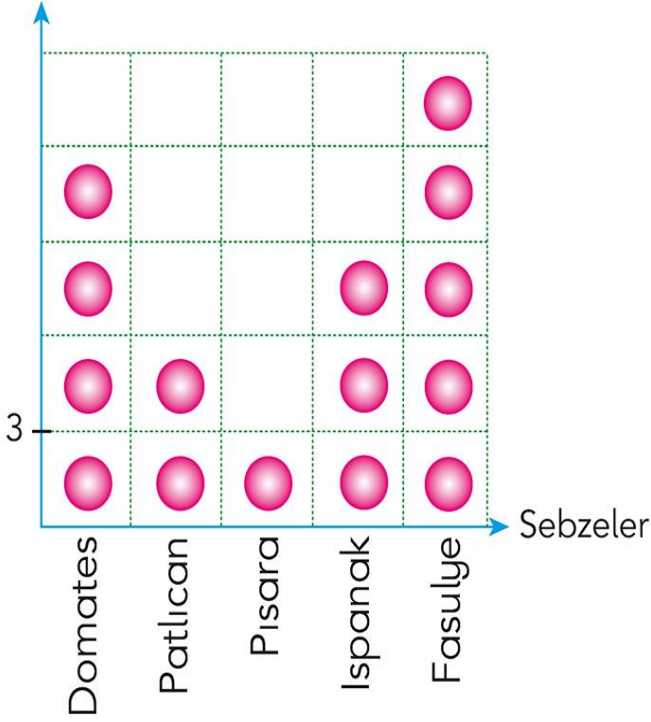
Kırmızı	
Mavi	
Sarı	

Her şekil 1 arabayı göstermektedir.

- Otoparkta kaç tane kırmızı araba vardır?
- Otoparkta kaç tane mavi araba vardır?
- Otoparkta kaç tane sarı araba vardır?
- Sarı arabaların sayısı, kırmızı arabaların sayısından tane daha azdır.
- Mavi arabaların sayısı, sarı arabaların sayısından tane daha fazladır.



Grafik: Sevilen Sebzeler Sayısı



Grafikte her şekil, 3 kişiyi göstermektedir.

Yukarıdaki grafikte sebzeleri kaç kişinin sevdiği gösterilmiştir.

İlk 5 soruyu grafiğe göre cevaplayınız.

1. Kaç kişi ıspanak sevmektedir?
A. 3 B. 9 C. 12
2. En az sevilen sebze kaç kişi sevmektedir?
A. 1 B. 2 C. 3
3. En fazla sevilen sebze kaç kişi sevmektedir?
A. 15 B. 12 C. 6

4. Domates sevenler, patlıcan sevenlerden kaç kişi fazladır?

- A. 2 B. 6 C. 10

5. Grafikte verilenlere göre hazırlanan tablo hangisidir?

A.

Tablo: Sevilen Sebzeler

domates	patlıcan	pırasa	ıspanak	fasulye
4	2	1	3	3

B.

Tablo: Sevilen Sebzeler

domates	patlıcan	pırasa	ıspanak	fasulye
12	5	3	8	15

C.

Tablo: Sevilen Sebzeler

domates	patlıcan	pırasa	ıspanak	fasulye
12	6	3	9	15

6. Tablo: Müzik Aletleri

Müzik aletinin adı	Kişi sayısı
Saz	16
Keman	4
Flüt	6

Yukarıdaki tabloda 2B sınıfında tercih edilen müzik aletleri verilmiştir. En çok tercih edilen ile en az tercih edilen müzik aleti sayıları arasındaki fark kaçtır?

- A. 15 B. 12 C. 10

1.

Aslı, sınıftaki arkadaşlarına hangi futbol takımını tuttuklarını sorarak isimlerini bir kâğıda yazdı.

Fenerbahçe	Beşiktaş	Galatasaray	Trabzonspor
Emre	Emine	Ahmet	Selen
Ali	Özgür	Çiğdem	Rıza
Murat	Necip	Nuran	Yusuf
Cem	Hatice	Hasan	
Aylin	Yağmur	Mehmet	
Ayşe	Kazım		
Havva			
Arzu			
Arda			
Semih			



Aslı'nın, topladığı bilgilerle önce tabloyu doldurunuz. Tabloya göre aşağıdaki nesne grafiğini oluşturunuz.

Tablo: Sevilen Takımlar

Takımlar	Sayısı
Fenerbahçe	10
Beşiktaş	
Galatasaray	
Trabzonspor	



















Grafik: Sevilen Takımlar

Fenerbahçe	
Beşiktaş	
Galatasaray	
Trabzonspor	

Oluşturduğumuz grafiğe göre sınıfta öğrenci Fenerbahçe'yi, öğrenci Beşiktaş'ı, öğrenci Galatasaray'ı ve öğrenci Trabzonspor'u tutuyor.

2. Büşra, sınıftaki arkadaşlarına en çok sevdiği çiçek türünü sorarak aşağıdaki grafiği oluşturdu. Grafiği inceleyerek aşağıdaki ifadelerde verilen noktalı yerleri doldurunuz.






Grafik: En Çok Sevilen Çiçekler

Gül									
Papatya									
Menekşe									

- a. En çok sevilmiştir.
- b. En az sevilmiştir.
- c. Gül ve papatyayı toplam kişi sevmektedir.
- ç. Menekşeyi sevenler gülü sevenlerden kişi fazladır.

3. Cemre, arkadaşlarının en çok hangi şarkıcıyı sevdiğini sorarak aşağıdaki nesne grafiğini oluşturuyor. Grafiği inceleyerek aşağıdaki ifadelerde verilen noktalı yerleri doldurunuz.

Grafik: En Çok Sevilen Şarkıcı

Tarkan										
Mustafa Sandal										
Sezen Aksu										


- a. En çok sevilmiştir.
- b. En az sevilmiştir.
- c. Sezen Aksu ve Mustafa Sandal'ı sevenlerin sayıları toplamı, Tarkan'ı sevenlerin sayısından fazladır.
- ç. Mustafa Sandal'ı sevenler, Tarkan'ı sevenlerden kişi daha azdır.



1. Elif, hayvanat bahçesinde gördüğü hayvanlar ile yandaki nesne grafiğini oluşturdu. Grafiğe göre aşağıdaki ifadelerde bulunan noktalı yerlere uygun sayıları yazınız.

- Elif, keçi görmüştür.
- Elif, zürafadan fazla sayıda aslan görmüştür.
- Elif, aslan görmüştür.
- Elif, toplam hayvan görmüştür.

Grafik: Elif'in Gördüğü Hayvanlar Sayısı

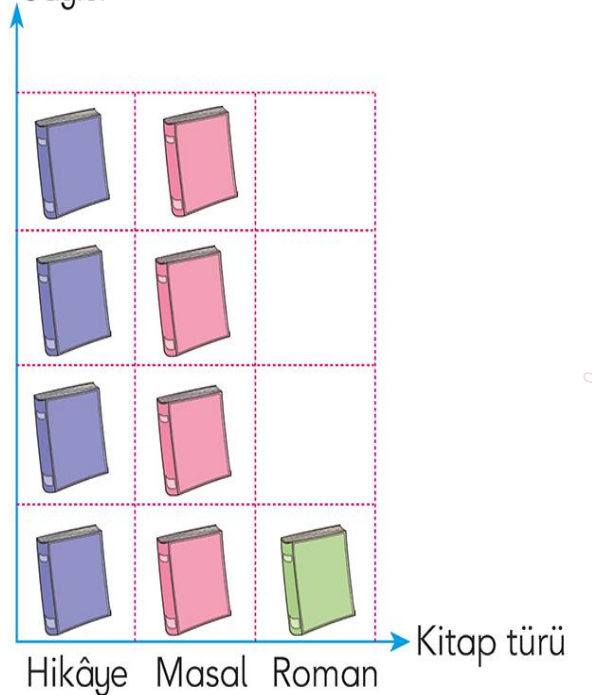


Her şekil, 3 hayvanı göstermektedir.

2. Sercan'ın okuduğu kitaplar yandaki nesne grafiğinde verilmiştir. Aşağıdaki soruları nesne grafiğine göre cevaplayınız.

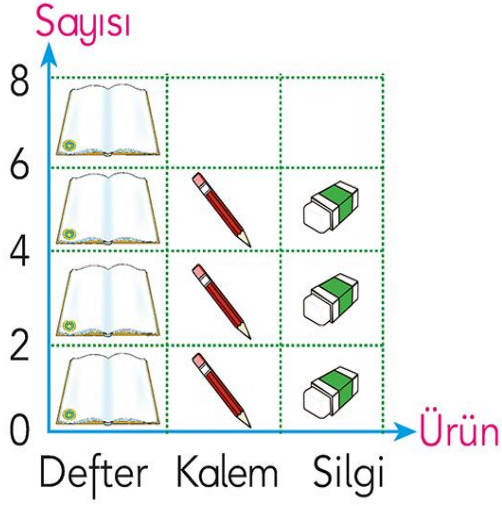
- Sercan, hangi tür kitaplardan eşit sayıda okumuştur?
- Sercan, toplam kaç kitap okumuştur?

Grafik: Kitaplar Sayısı



Her şekil, 2 kitabı göstermektedir.

Grafik: Satılan Ürünler



Kırtasiyeci Nesrin Hanım'ın bir günde sattığı ürünler, yukarıdaki nesne grafiğinde verilmiştir.

Nesne grafiğine göre 1, 2 ve 3. soruları cevaplayınız.

1. Nesrin Hanım en çok hangi üründen satmıştır?

- A. Defter B. Kalem
C. Silgi


2. Nesrin Hanım'ın sattığı defter ile kalem sayıları arasındaki fark kaçtır?

- A. 0 B. 1 C. 2

3. Grafikte her bir şekil kaç ürünü göstermektedir?

- A. 0 B. 1 C. 2

Grafik: Bahçedeki Hayvanlar



Her şekil 2 hayvanı belirtmektedir.

Ece'nin okulunun bahçesinde bulunan hayvanların sayıları nesne grafiğinde verilmiştir.

Nesne grafiğine göre 4, 5 ve 6. soruları cevaplayınız.

4. Bahçede hangi hayvan yoktur?

- A. Tavşan B. Kuş C. Kedi

5. Bahçede hangi hayvanlardan eşit sayıda vardır?

- A. Tavşan ile kedi
B. Tavşan ile köpek
C. Kedi ile köpek

6. Bahçede toplam kaç hayvan vardır?

- A. 7 B. 10 C. 14



1. 2A sınıfında en sevilen hayvanı belirlemek için bir oylama yapıldı. Bu oylama sonucu tablo halinde düzenlendi. Buna göre;

Hayvan Adı	Kişi Sayısı
Kedi	3
Köpek	5
Tavuk	8
Kuzu	6
İnek	5

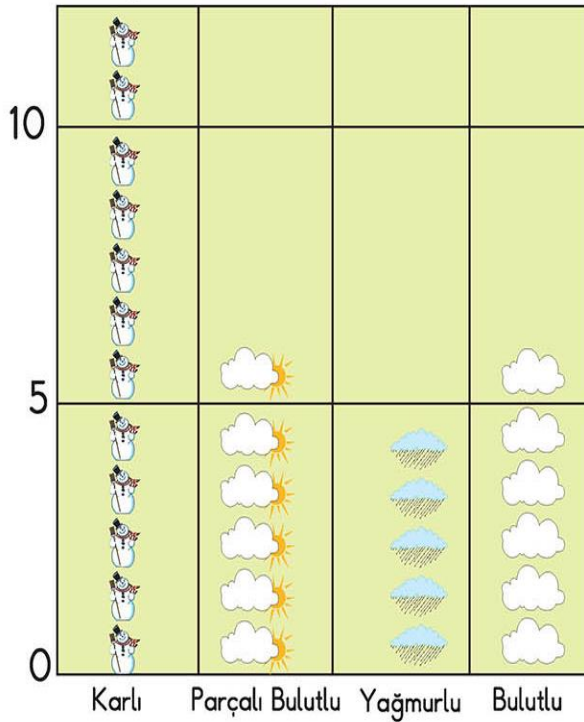
a. Tablonun adı ne olabilir?

b. Tabloya göre 2A sınıfında en sevilen hayvan hangisidir?.....

c. Oylamaya toplam kaç öğrenci katılmıştır?.....

2. Tabloyu grafiğe uygun olarak tamamlayınız.

Grafik: Hava Durumu




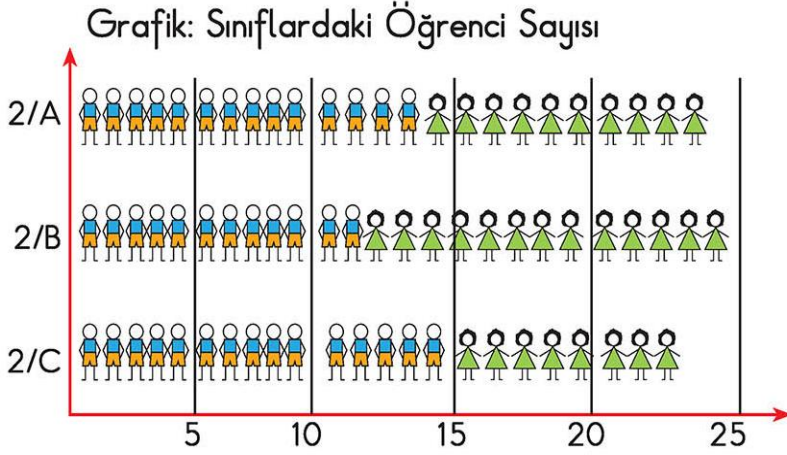
Tablo:

Hava Durumu	Gün Sayısı
Karlı	12
.....
.....
.....

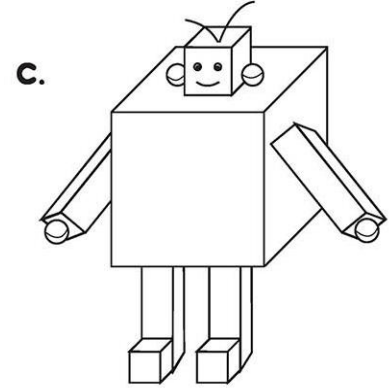

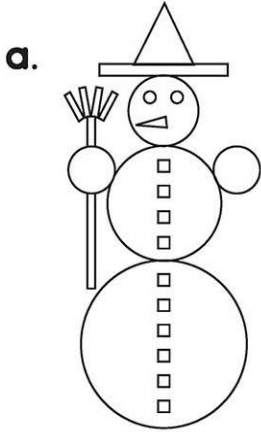
Grafikte verilen ay sizce hangi ay olabilir? Neden?

.....

3. Aşağıdaki grafik bir ilkokulun 2. sınıflarındaki kız ve erkek öğrenci sayılarının dağılımını göstermektedir. Grafiğe uygun olarak sınıflardaki kız ve erkek öğrenci sayılarını gösteren bir tablo düzenleyiniz.





4. Resimlerdeki geometrik şekillerin ya da cisimlerin sayılarını gösteren birer tablo düzenleyiniz.



Tablo: Hangi Şekiller?

Şeklin adı	Sayısı
Kare
Dikdörtgen
Üçgen
Çember



1. 2/A sınıfı öğrencilerine en çok sevdiği çizgi film soruluyor. Toplanan veriler sonucu yandaki tablo oluşturuluyor.

Tablo: Sevilen Çizgi Filmler

Çizgi Film	Kişi Sayısı
Keloğlan	13
Kedi ve Fare	12
Pembe Panter	5

Buna göre en çok sevilen çizgi film hangisidir?

- A. Keloğlan B. Kedi ve Fare C. Pembe Panter

2. Yandaki tabloda 2/B sınıfında tercih edilen müzik aletleri verilmiştir. En çok tercih edilen ile en az tercih edilen müzik aleti sayıları farkı kaçtır?

Tablo: Müzik Aletleri

Müzik Aletinin Adı	Kişi Sayısı
Saz	15
Keman	3
Flüt	8

- A. 15 B. 12 C. 7

3. Yanda kitaplarla ilgili bir tablo verilmiştir. Bu tablonun adı aşağıdakilerden hangisi olabilir?

Kitap Adı	Kişi Sayısı
Ali'nin Serüvenleri	19
İyilik ve Kötülük	28
Ayşe'nin Günlüğü	32

- A. Ayşe'nin Günlüğü B. Şubat Ayında Okunan Kitaplar
C. Ali'nin Serüvenleri

4. 2/A sınıfı, sınıflarını boyatmak istiyor. Öğretmenleri boyanın rengini seçmek için sınıfta oylama yapıyor. 12 öğrenci mavi, 4 öğrenci sarı, 15 öğrenci fıstık yeşili rengi istiyor.

Bu oylama sonucunun tabloda gösterimi aşağıdakilerden hangisidir?

- A.

Renkler	Kişi Sayısı
Sarı	3
Mavi	8
Fıstık Yeşili	12

 B.

Renkler	Kişi Sayısı
Sarı	15
Mavi	12
Fıstık Yeşili	14

 C.

Renkler	Kişi Sayısı
Sarı	4
Mavi	12
Fıstık Yeşili	15

5. Aşağıdakilerden hangisi verilen grafiğe ait bir tablodur?

Grafik: Sevilen Hayvanlar Grafiği

A.

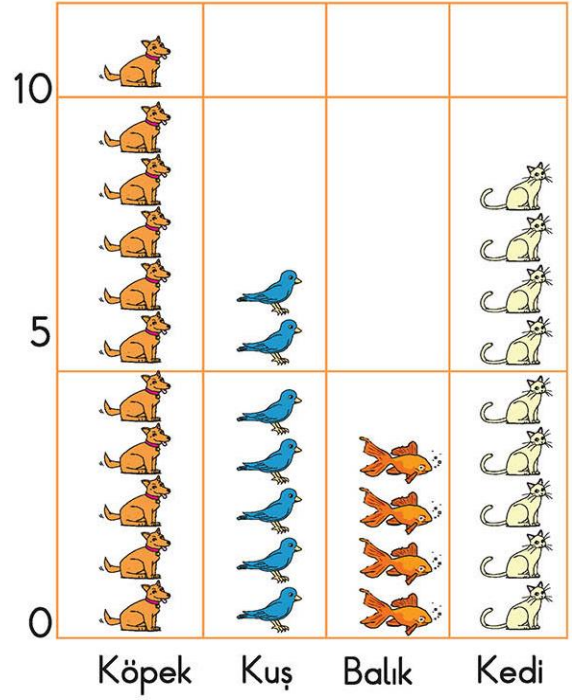
Hayvan Adı	Sayısı
Köpek	11
Kuş	7
Balık	4
Kedi	9

B.

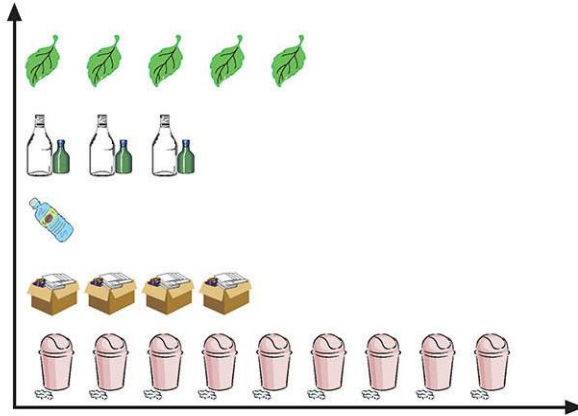
Hayvan Adı	Sayısı
Köpek	12
Kuş	9
Balık	4
Kedi	10

C.

Hayvan Adı	Sayısı
Köpek	9
Kuş	4
Balık	7
Kedi	11



6. Biyolojik atıklar
Cam atıklar
Plastik atıklar
Kâğıt, karton
Artık çöpler



Grafikte bir evden çıkan bir aylık atık miktarları verilmiştir. Her şekil bir kilogram atık miktarını gösterdiğine göre bu evde bir ayda toplam kaç kilogram atık çıkmıştır?

A. 9

B. 18

C. 22

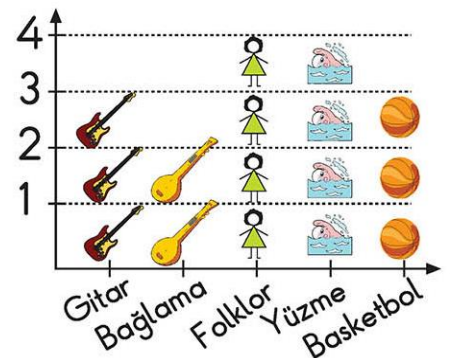
7. Grafikte bir sınıftaki kursa giden öğrenci sayıları verilmiştir.

Toplam kaç öğrenci kursa gitmektedir?

A. 15

B. 16

C. 17



➔ Nesne Grafiği Oluşturma


1. Atatürk İlkokulu 2. sınıf öğrencilerinin sayıları aşağıdaki tabloda verilmiştir. Tablonun yanındaki grafik, kız öğrenci sayılarına göre yapılmıştır.

Siz de aşağıdaki kareli bölüme benzer şekilde erkek öğrencilerin sayılarını gösteren nesne grafiğini oluşturunuz.

Tablo: Öğrenci Sayıları


Sınıflar	Kız Ö. S.	Erkek Ö. S.
2A	13	10
2B	11	13
2C	12	12
2D	10	11

Grafik: 2. Sınıflardaki Kız Öğrenci Sayıları



5

10







2. Bir sinema salonunda seyircilerin hangi tür filmlerden hoşlandığı ile ilgili bir anket yapılıyor. Alınan cevaplara göre aşağıdaki gibi bir tablo hazırlanıyor. Kişi sayılarına göre verilen yüz ifadelerini çizerek grafiği tamamlayınız.

Tablo: Hoşlanılan Film Türleri

Film türü	Kişi Sayısı
Komedi	14
Macera	10
Drama	6
Romantik	9

Grafik:

Komedi	 ○ ○ ○ ○ ○	○ ○ ○ ○ ○ ○	○ ○ ○ ○ ○ ○
Macera	 ○ ○ ○ ○ ○	○ ○ ○ ○ ○ ○	○ ○ ○ ○ ○ ○
Drama	 ○ ○ ○ ○ ○	○ ○ ○ ○ ○ ○	○ ○ ○ ○ ○ ○
Romantik	 ○ ○ ○ ○ ○	○ ○ ○ ○ ○ ○	○ ○ ○ ○ ○ ○


3. 2B sınıfında en çok sevilen meyve ve içecekler tablosuna göre, en çok tercih edilen meyve ve içecek hangisidir? Şekiller kullanarak tablolara uygun nesne grafiklerini oluşturunuz.

Tercih Edilen Meyveler

Meyve Adı	Kişi Sayısı
Elma 	8
Kiraz 	4
Muz 	6
Armut 	3

Tercih Edilen İçecekler

İçecek Adı	Kişi Sayısı
Meyve suyu 	5
Ayran 	8
Portakal suyu 	5
Kola 	3

































➔ Nesne Grafiği Yorumlama

1. Bir sınıftaki öğrencilerin en çok sevdiği meyveleri gösteren tablo aşağıdaki gibi düzenlenmiştir. Daha sonra tablodan yararlanarak nesne grafiği oluşturulmuştur.

Sevilen Meyveler

Meyve Adı	Kişi Sayısı
Elma	4
Portakal	6
Karpuz	7
Şeftali	4
Erik	3
Çilek	6

Sevilen Meyveler

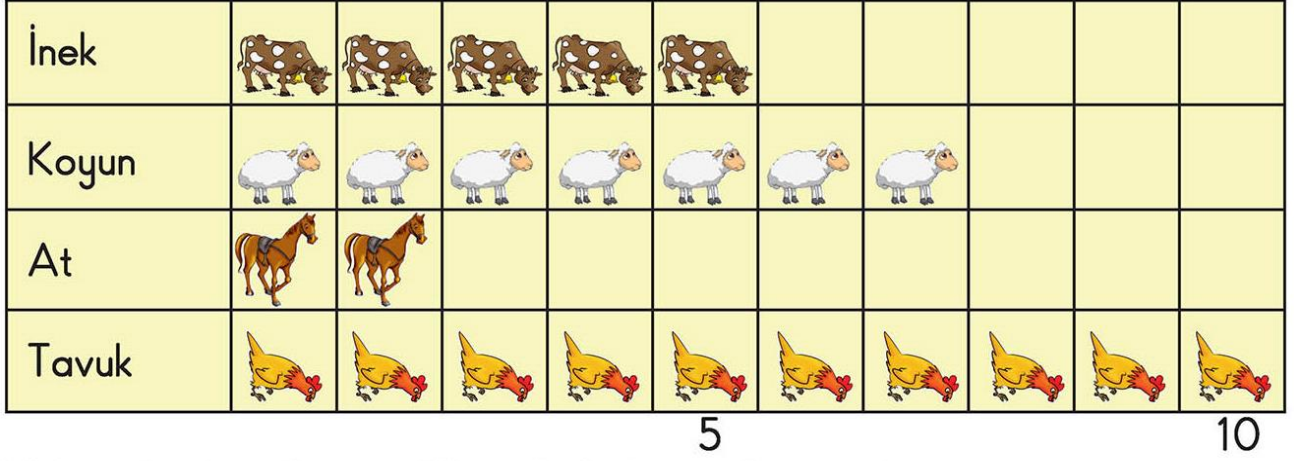
Elma							
Portakal							
Karpuz							
Şeftali							
Erik							
Çilek							

5

Bu grafiğe göre;

- En çok sevilen meyve hangisidir?
- Temsilci nesnelere (meyveler) kaç meyveyi temsil etmektedir?
.....
- En çok sevilen ve en az sevilen meyve arasındaki fark kaçtır?
.....
- Bu soru toplam kaç kişiye sorulmuştur?
- Siz de ailenizde en çok sevilen meyvelerle ilgili bir nesne grafiği düzenleyip, yorumlayınız.

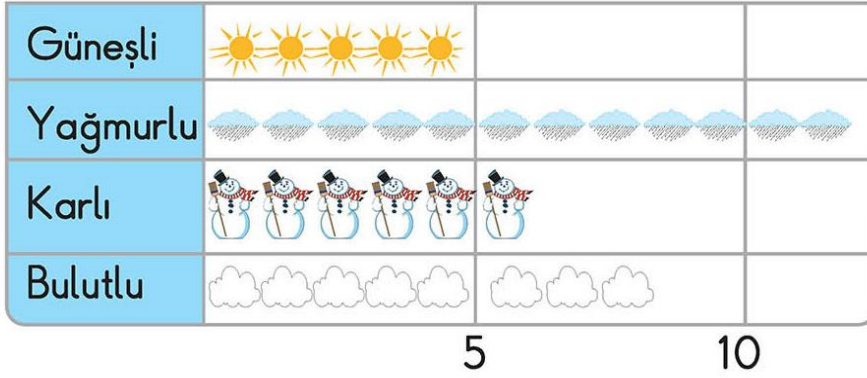
2. Grafik : Çiftlikteki Hayvanlar



Yukarıda Aşelerin çiftliğinde bulunan hayvanların sayısını gösteren bir grafik verilmiştir. Grafiğe göre;

- Tavukların sayısı, ineklerden kaç tane fazladır?.....
- Sayısı en az olan hayvan hangisidir?.....
- Bu çiftlikte toplam kaç tane hayvan vardır?.....

3. Grafik: Hava Durumu



Ozan mart ayında her gün hava durumunu takip ederek, havanın durumuna göre yukarıdaki gibi bir grafik düzenliyor. Grafiğe göre;

- Mart ayında kaç gün kar yağmıştır?.....
- Bu ayda güneşin görülmediği gün sayısı kaçtır?.....
- Mart ayının toplam gün sayısı kaçtır?.....



Yanda, 2B sınıfında en çok tercih edilen dondurma çeşitlerini gösteren bir grafik verilmiştir. Bu grafiğe göre bu sınıfta en çok tercih edilen dondurma çeşidi hangisidir?


A. kakaolu

B. çilekli

C. sade

2. Yandaki grafikte Akgün İlkokulunun bahçesindeki ağaç sayıları verilmiştir.


Okulun bahçesinde kaç ağaç vardır?



A. 13

B. 14

C. 15

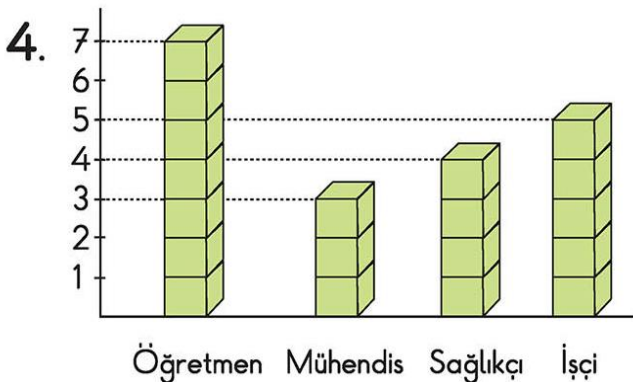


Yanda bir köylünün beslediği hayvanların tartıları verilmiştir. Grafiğe göre tartısı en fazla olan hayvan hangisidir ve kaç kilogramdır?

A. Tavşan 5 kilogram

B. Koyun 5 kilogram

C. Horoz 5 kilogram



Yanda 2C sınıfındaki öğrenci velilerinin meslekleri ile ilgili bir grafik verilmiştir. Bu grafiğe göre; bu sınıfta toplam kaç öğrenci vardır?

A. 7

B. 15

C. 19

Renk Adı	Kişi Sayısı
Yeşil	12
Mavi	10
Sarı	9

2A sınıfında duvar renginde beğenilen renklerin tablosu hazırlanıyor.

5, 6, 7 ve 8. soruları bu tablodan yararlanarak yapınız.

5. Tabloya göre sınıf mevcudu kaçtır?

- A. 22 B. 28 C. 31

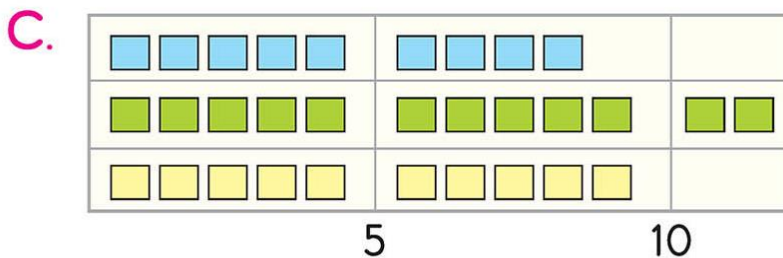
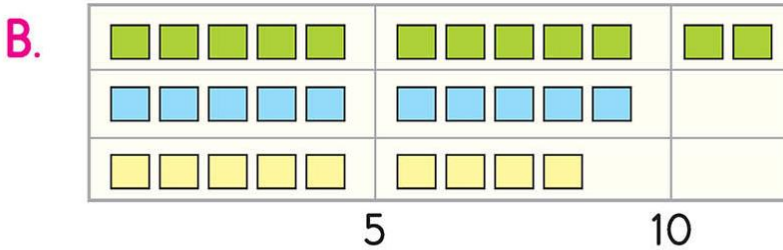
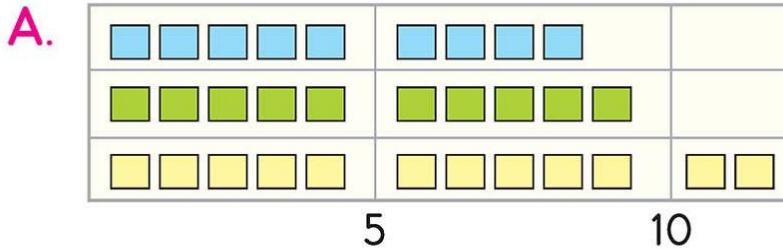
6. Sarı rengin en beğenilen renk olması için en az kaç oya daha ihtiyaç vardır?

- A. 4 B. 3 C. 2

















7. Yukarıdaki tabloda, tablo oluşturma kurallarına göre eksik olan nedir?

- A. Sınıf mevcudu B. Renkler C. Tablonun başlığı

8. Aşağıdakilerden hangisi tabloya uygun nesne grafiği olabilir?



2-C sınıfındaki öğrencilerin sevdiği çiçekler

							Her şekil 3 öğrenciyi gösterir.
							
							
							

Aşağıdaki soruları yukarıdaki nesne grafiğine göre yanıtlayınız.

1 2-C sınıfının mevcudu kaç öğrencidir?

.....

2 Bu sınıftaki kız öğrencilerin sayısı, erkek öğrencilerin sayısından kaç fazladır?

3 Karanfil seven kız öğrencilerin sayısı, papatya seven erkek öğrencilerden kaç fazladır?

4 Lale seven kız öğrencilerin sayısı, gül seven erkek öğrencilerden kaç azdır?






5 2-C sınıfında en çok sevilen çiçek hangisidir?

.....

6 Gül ve karanfil seven öğrencilerin sayısı kaçtır?

.....

Ali Baba'nın Çiftliği'ndeki hayvanların sayısı, tabloda verilmiştir. Aşağıdaki soruları tabloya göre yanıtlayınız.

Ali Baba'nın Çiftliği'ndeki Hayvanlar					
Sayılar	26	37	3	4	13
Hayvanlar					

1 Çiftlikteki 4 ayaklı hayvanların sayısı toplamı, 2 ayaklı hayvanların sayısı toplamından kaç fazladır?

2 Çiftlikte en az horoz vardır. D Y

3 Çiftlikte en fazla olan hayvan sayısından, en az olan hayvan sayısını çıkardığımızda bulduğumuz sayı, inek sayısından kaç fazladır?

4 Çiftlikteki koyun sayısı, inek sayısının 2 katıdır. D Y

5 Ali Baba'nın Çiftliği'ndeki hayvanların toplamı kaçtır?
.....

6 Çiftlikteki inek sayısı 1 desteden 1 fazladır. D Y

7 Çiftlikte doğurarak çoğalan hayvanların adını yazınız.
.....

Atatürk İlkokulunun ikinci sınıfındaki öğrencilere ait nesne grafiği verilmiştir. Soruları nesne grafiğine göre yanıtlayınız.

Her şekil 5 öğrenciy göstermektedir.	2/A						
	2/B						
	2/C						
	2/D						

a Atatürk İlkokulunun 2. sınıf öğrencilerinin mevcudu kaçtır?
.....

b Atatürk İlkokulunun 2. sınıflarında kaç kız, kaç erkek öğrenci okumaktadır?

c 2-C sınıfındaki kız ve erkek öğrencilerin sayıları birbirine eşittir.

D Y

d 2-D sınıfının mevcudu, 2-C sınıfının mevcudundan kaç eksiktir?
.....

e 2-C sınıfı, 2-A sınıfının mevcudunun iki katıdır.

D Y

f Kız öğrencilerin sayısı, erkek öğrencilerin sayısından kaç fazladır?

1 Yaşamın her alanında bizleri yönetenler seçimle iş başına getirilmelidir. Bir okulun 2-A sınıfının sınıf başkanlığı seçimi tablosunda verilmiştir. Soruları tabloya göre yanıtlayınız.

Aday adı	Fatih	Yaren	Murat	Ceyda	Ayça
Aldığı oy	4	16	7	13	3

a Sınıf başkanlığı seçimi için kaç öğrenci oy kullanmıştır?


b Ceyda başkan, Murat da başkan yardımcısı seçilmiştir.

c En çok ve en az oy alan öğrenci kimdir?

d Sınıf başkanı ve yardımcısı arasındaki oy farkı kaçtır?

e En az oy alan öğrenci Fatih'tir.

f Yaren, Fatih ve Ayça'nın aldığı oyların toplamından kaç fazla oy almıştır?



2 Ülkü İlkokulunda açılan kurslara katılan öğrenci sayısı belirtilmiştir. Verilere göre tabloyu doldurunuz.

Her şekil 5 öğrenciyi göstermektedir.

Kursun adı	Katılan kişi sayısı

Bağlama



Folklor



Flüt






Bilgisayar






İlk 7 soruyu nesne grafiğine göre yanıtlayınız.



2-E sınıfındaki öğrencilerin sevdiği hayvanlar

Her şekil 3 öğrenciyi gösterir.

- 1 2-E sınıfının mevcudu kaç kişidir?
A) 35 B) 37 C) 39
- 2 Sınıfta en fazla sevilen hayvan, seçeneklerde verilenlerden hangisidir?
A)  B)  C) 
- 3 2-E sınıfında kaç erkek öğrenci vardır?
A) 16 B) 18 C) 22

4 Eşit sayıda sevilen hayvanlar hangi seçenekte doğru verilmiştir?

- A)   B)  
- C)  

5 2-E sınıfında kaç kız öğrenci vardır?
A) 18 B) 21 C) 23

6 Sınıfta en az sevilen hayvan hangi seçenekte verilmiştir?

- A)  B)  C) 

7 At seven öğrenci sayısı, kuzu seven öğrencilerin sayısından kaç eksiktir?
A) 9 B) 6 C) 3

Sınıf Kitaplığı	Kitap türü	Kitap Sayısı
	Öykü	17
	Roman	24
	Şiir	11

8, 9, 10 ve 11. soruları tabloya göre yanıtlayınız.

- 8 Tablonun başlığı seçeneklerde verilenlerden hangisi olabilir?
- A) En çok sevilen yemekler
B) Sınıfımızdaki kitapların sayısı
C) Kitaplar ve öğrenciler

- 9 Tablodaki verilere göre, toplam kaç kitap vardır?
- A) 52 B) 41 C) 35

- 10 Tabloya göre, öyküler şiirlerden kaç fazladır?
- A) 13 B) 7 C) 6

- 11 En fazla kitapla en az kitap arasındaki fark kaçtır?
- A) 11 B) 13 C) 14

En sevilen renkler	Renkler	Kişi sayısı
	K	9
	M	14
	S	7
	Y	11
	K.RENGİ	5

12, 13, 14 ve 15. soruları tabloya göre yanıtlayınız.

- 12 En çok sevilen renk hangi seçenekte verilmiştir?
- A) K B) Y C) M
- 13 Renkleri sevenlerin sayılarının büyükten küçüğe doğru sıralanışı hangi seçenektir?
- A) 14 - 11 - 9 - 7 - 5
B) 5 - 7 - 9 - 11 - 14
C) 9 - 14 - 11 - 7 - 5
- 14 En az ve en çok sevilen renk arasındaki fark kaçtır?
- A) 5 B) 7 C) 9
- 15 Mavi ve sarı rengi sevenler, sarı ve kırmızı rengi sevenlerden kaç fazladır?
- A) 7 B) 5 C) 3