




1- Aşağıdakilerden hangisini diğerlerine göre daha az tüketmeliyiz?



2- Aşağıdaki görsellerden hangisi sağlıkla ilgili bir meslek çalışanıdır?



3- Aşağıdaki durumların hangisi hava kirliliğine neden olur?

- A) Fabrika bacalarından çıkan gazlar  
B) Çevreye atılan çöpler  
C) Denize dökülen kirli sular

4- Karşıdan karşıya geçerken kullanılması gereken en güvenli geçiş yeri hangisidir?

- A) Yaya geçidinin olduğu yerler  
B) Alt veya üst geçitler  
C) Trafik ışıklarının olduğu yerler

5- Karşıdan karşıya geçmeye çalışan Sinem, ilk önce hangisini yapmalıdır?

- A) Önce sola bakmalıdır.  
B) Önce sağa bakmalıdır.  
C) Hızla koşarak karşıya geçmelidir.



6- Yayalar yürümek için ..... kullanmalıdır.\*

Boş bırakılan yere hangisi yazılmalıdır?

- A) caddeyi  
B) sokağı  
C) yaya kaldırımını



7- Trafik işaret cihazındaki yanar kırmızı ışığın anlamı nedir?

- A) Dur B) Hazırlan C) Geç



8- Aşağıdakilerden hangisi doğru bir davranıştır?

- A) Okul servisinde camlardan sarkmak  
B) Kaldırımlarda itişip kakışmak  
C) Taşıtlarda emniyet kemerini takmak



9- "Öğle vakti, yavru tavşan yuvadan çıktı."

Yukarıdaki cümlede hangi sorunun cevabı yoktur?

- A) Ne zaman? B) Niçin? C) Kim?



10- Aşağıdaki olaylar, oluş sırasına göre sıralanırsa ilk sırada hangi olay olur?

- A) Manavdan taze soğan aldı.  
B) Evde soğan olmadığını gördü.  
C) Para alıp, manava gitti.

11- Tamirci televizyonu kontrol etti.

1 2 3 4

Yukarıdaki cümlede hangi kelimeler yanlış yazılmıştır?

- A) 2 ve 3 B) 1 C) 4

12- okuduk bu akşam kitap  
ailece koltuk

Yukarıdaki kelimelerden anlamlı ve kurallı bir cümle oluşturduğumuzda hangisi dışarıda kalır?

- A) ailece B) akşam C) koltuk

13- ..... : Parasını harcamaya kıyamayan kişi.

Yukarıda tanımı verilen sözcüğün anlamını hangi çocuk doğru bilmiştir?

- A) Tutumlu B) Cimri C) Cömert

14- Futbol denilince aşağıdakilerden hangisi zihnimize canlanmaz?



15- Evdeki küçük **onarım** işlerini babam yapar.\*

Yukarıdaki cümlede altı çizili sözcüğün eş anlamlısı hangi cümlede geçmektedir?

- A) Dedem musluğun tamirati için usta çağırdı.  
B) Okuldaki bazı işleri hizmetliler yapar.  
C) Bozuk kumandayı değiştirmeye gittik.

16- Hangi cümlede hayal ürünü olan bir olay vardır?

- A) Arkadaşım ödevini geç saatte yapmış.  
B) Otobüsün koltuğunda uykuya dalmış.  
C) Eniştem pazara uçan halı ile gidiyormuş.



17- Yandaki görselin konusu aşağıdakilerden hangisi olabilir?

- A) Çevre temizliği  
B) Çocukların oynadığı oyunlar  
C) Kitap okuma etkinliği



Yukarıdaki görseldeki keklerin sayısı verilen işlemlerden hangisi ile bulunur?

- A)  $4 \times 5 = 20$   
B)  $4 + 5 = 9$   
C)  $5 \times 3 = 15$



Yukarıdaki kalemler için hangisi yanlıştır?

- A) 5 tane 2  
B)  $2 \times 5$   
C)  $5 \times 2$

20- Vazolardaki çiçeklerin sayısını gösteren hangi çarpma işleminde yanlışlık yapılmıştır?

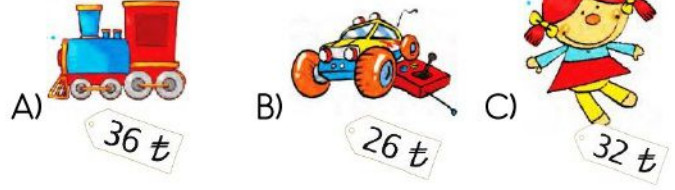
A)  $3 \times 3 = 9$

B)  $4 \times 3 = 12$

C)  $2 \times 3 = 6$



Yukarıdaki paraların tamamı ile aşağıdaki oyuncaklardan hangisi alınabilir?

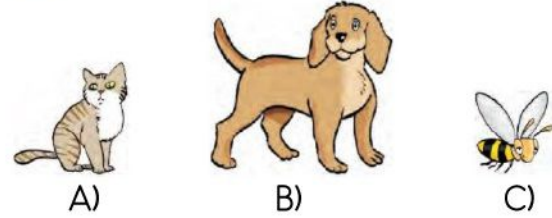


22- Bir aylık hava olayları raporuna göre hangisi söylenemez?


Hava Olayları	
Hava Olayı	Gün Sayısı
Güneşli	12
Yağışlı	10
Bulutlu	8

- A) Güneşli günlerin sayısı yağmurlu günlerden daha fazladır.  
B) Yağışlı günlerin sayısı bulutlu günlerden fazladır.  
C) En çok yağışlı gün yaşanmıştır.

23- Aşağıdaki varlıklardan hangisi en ağırdır?



24- Aşağıdaki kaplardan hangisi daha az sıvı alır?



Yukarıdaki görsele göre boşluğa hangi kelime yazılmalıdır?

- A) play basketball  
B) five  
C) swing