



1- Aşağıdaki trafik işaretlerinden hangisi yanlış ifade edilmiştir?

- A) üst geçit  
B) yaya geçidi  
C) okul geçidi

2- Yaya kaldırım olmayan yollarda nasıl yürümeliz?

- A) Yolun ortasından yürümeliz.  
B) Sürücülerin bizi rahatça görebileceği şekilde yürümeliz.  
C) Koyu renk elbiseler giyerek yanyana yürümeliz.

3- Toplu taşıma araçlarında ayakta gitmek zorunda kalırsak ne yapmalıyız?

- A) Pencereleden dışarı sarkmalıyız.  
B) Devamlı bir öne bir arkaya doğru yürümeliz.  
C) Mutlaka sıkıca bir yere tutunmalıyız.

4- Aşağıdaki ifadelerden kaç tanesine EVET demeliyiz?

	Evet	Hayır
Binmek ve inmek için her zaman aracın sağ kapısını kullanırım.	<input type="checkbox"/>	<input type="checkbox"/>
Özel araçlarda arka koltuğa otururum ve emniyet kemerini bağlarım.	<input type="checkbox"/>	<input type="checkbox"/>
Ellerimi, kollarımı aracın camlarından çıkarmam ve araçtan sarkmam.	<input type="checkbox"/>	<input type="checkbox"/>
Yolculuk sırasında sürücünün dikkatini dağıtacak hareketler yapmam.	<input type="checkbox"/>	<input type="checkbox"/>

- A) 4 B) 3 C) 2

5- Aşağıdakilerden hangisini kullanırken mutlaka kask takmalıyız?

- A) cep telefonu B) çakmak C) paten

6- Emniyet kemeri hangi taşıtta kullanılmaz?

- A) otobüs B) bisiklet C) minibüs

7- İnternet, cep telefonu ve tablet kullanırken hangisini yapmamalıyız?

- A) Özel bilgilerimizi herkesle paylaşabiliriz.  
B) Tanıklarımızla sohbet edebiliriz.  
C) Ödevlerimiz için araştırma yapabiliriz.

8- Çocuklar, okul çıkışında tanımadığınız biri sizi lunaparka götürmek istediğini söyledi, ne yaparsınız?

- A) Hemen kabul ederim.  
B) İsteğini ret ederim, oradan uzaklaşıyorum.  
C) Bir arkadaşımı da çağırır beraber gideriz.

9- Aşağıdaki olayları oluş sırasına göre sıraladığımızda ikinci sırada hangisi olur?

- A)   ☆  Sonra ağabeyi ile sinemaya gitti.  
B)   ♥  Birer kitap alıp eve döndüler.  
C)   △  Önce ailesiyle kahvaltı yaptı.  
 ○  Daha sonra kitabevine gittiler.

10- Hangi numaralı buluttaki sözcükler eş anlamlıdır?

- A) 1 vatan millet B) 2 öğrenci talebe C) 3 ucuz pahalı

11- Sıla ödevini yetiştiremedi; bu yüzden .....

Boş bırakılan yere hangisi yazılmalıdır?

- A) okula gitmek istemiyor.  
B) okula erken gitti.  
C) öğretmeni ona aferin dedi.

12- "Masanın üstündeki çatalı verir misin?"

Yukarıdaki cümlede altı çizili sözcüğün zıt anlamlısı hangisidir?

- A) yanındaki B) içindeki C) altındaki

13- Hangi görselin adı sözlükte en önce gelir?

- A) B) C)

14 ve 15. soruları aşağıdaki metne göre cevaplayınız.

Erhan, sabah erkenden kalktı. Çünkü bugün onun doğum günüydü. İçi içine sığmıyordu. Doğum gününde gelecek hediyeleri sabırsızlıkla bekliyordu. Doğum gününün en çok sevdiği tarafı, doğum günü hediyelerini açmaktı.

14- Yukarıdaki metnin konusu nedir?

- A) Erken uyanmak
- B) Doğum günü
- C) Alışveriş yapmak

15- Yukarıdaki metne göre hangi sorunun cevabı metinde yoktur?

- A) Erhan neden erken uyandı?
- B) Erhan sabırsızlıkla neyi bekliyordu?
- C) Erhan, en çok hangi hediyeyi beğendi?

16- Hangi cümlenin sonuna ünlem işareti (!) konulmalıdır?

- A) Eyvah, kalemliğimi evde unutmuşum
- B) Bana boyalarını verir misin
- C) Çantanın fermuarı açık kalmış

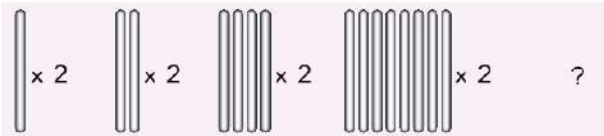
17- Aşağıdaki cümlelerin hangisinde yazım yanlışı yapılmıştır?

- A) Kızılırmak İlkokulu nerede biliyor musun?
- B) Ali ile Yusuf parkta karşılaştılar.
- C) Kuşum Maviş'e yeni kafes aldık.

18- 40 sayfalık hikâye kitabı aldım. Her gün 9 sayfa okuyorum,

3 gün sonra geriye okunmamış kaç sayfam kalır?

- A) 23
- B) 18
- C) 13

19-   
1. adım 2. adım 3. adım 4. adım 5. adım

Yukardaki işlemi 5. adıma kadar devam ettirdiğimizde 5. adımda hangi sayıya ulaşırız?

- A) 16
- B) 15
- C) 12

20-



Yukarıdaki balonların sayısını çarpma işlemi ile gösteren seçenek hangisidir?

- A)  $5 + 5 + 5$
- B)  $3 \times 5$
- C)  $5 + 3$

21-

Ben 9 yaşıdayım. Ablamın yaşı benim yaşımın 2 katından 3 fazladır. Ablamın yaşı kaçtır?

- A) 15
- B) 19
- C) 21

22- Aşağıdaki öğrencilerden hangisinin yaptığı işlemin sonucu en büyüktür?



Cevat

$$1 \times 9$$



İrfan

$$3 \times 4$$



Cevdet

- A) Cevat
- B) İrfan
- C) Cevdet

23- Yandaki çarpma işleminde verilmeyen çarpan hangisidir?

$$8 \times \square = 32$$




- A) 3
- B) 4
- C) 24

24-



4 kere 3, 12 eder.

Fatih'in ifadesini aşağıdakilerden hangi şekil gösterir?

- A. 
- B. 
- C. 

25- Aşağıdaki görseli ifade eden kelime hangisidir?

Emirhan

Kaan

- A) chess
- B) basketball
- C) hide and seek



\*\*\*\*\* BAŞARILAR \*\*\*\*\*

Her soru 4 (dört) puandır.

Cevaplarınızı kontrol ediniz.

Enes SERT  
2/A Sınıfı Çalışmaları

