


Adım Soyadım :


Okul Numaram :

1- 1-8-3 hangi acil durumlarda aranmalıdır?



- A) Bir yangın gördüğümüzde
B) Sokakta yalnız yaşayan birini gördüğümüzde
C) Bir trafik kazası ile karşılaştığımızda

2- Yolculuk sırasında aşağıdakilerden hangisi yapılmamalıdır?




- A) Sürücü ile sohbet etmek
B) Emniyet kemeri takmak
C) Araç içerisinde alçak sesle konuşmak

3- Aşağıdakilerden hangileri güvenli oyun alanlarıdır?

- 1- sokaklar 2- parklar 3- caddeler
4- okul bahçesi 5- piknik alanları

- A) 1 ve 3 B) 2 - 4 ve 5 C) Yalnız 1

4- Aşağıdakilerden hangisini kişilerle iletişimimizde kullanmak doğru değildir?



- A) Öff, tamam ya!
B) Hoşça kalın!
C) Rica ederim.

5- Evde bulunan aşağıdaki teknolojik araçlardan hangisini kullanmamızda sakınca yoktur?

- A)  B)  C) 

6- Aşağıda ifadelerden hangisi yanlıştır?

- A) Karşıdan karşıya geçerken kurallara uymalıyız.
B) Caddelerin sol tarafında kaykay kullanabiliriz.
C) Bisiklet kullanırken kask takmalıyız.

7- Bir yangın gördüğümüzde hangi numarayı armalıyız?

- A) 155 B) 112 C) 110

8- Benim ilacımdan iç. Öksürüğüne iyi gelir.



Deniz



Gülay


Gülay bu durumda arkadaşı Deniz'e hangisini söylemelidir?

- A) Doktora sormadan ilaç kullanmam.
B) Bir bardak su ver de ilacı içeyim.
C) İyi gelirse kullanayım.

9- Aşağıdaki cümlelerin hangisinde zıt anlamlı kelimeler bir arada kullanılmamıştır?

- A) Bu elmaların bazıları acı bazıları ise tatlıymış.
B) Yaş olan kazağımı çıkarıp kuru gömlek giydim.
C) Teyzem bana yeni çanta alacaktı.

10- Aşağıdaki kahramanlardan hangisi hayal ürünüdür?



- A) Nasrettin Hoca
B) Keloğlan
C) Seyit Onbaşı

11- "Dayım cumartesi günü bara ja gidecekti."

Yukarıdaki cümlede hangi sorunun cevabı yoktur?

- A) Nasıl?
B) Kim?
C) Ne zaman?

12- Simit alamadım param yetmedi. Beni okula annem babam bırakacak.

Yukarıdaki boş bırakılan yerlere aşağıdakilerden hangisi yazılamaz?

- A) çünkü B) ya da C) fakat

13- Adem, topunu ?

Yukarıdaki soru cümlesinde boş bırakılan yere hangisi yazılmalıdır?

- A) getirdi mi
B) bana verdi
C) suya attı

14- " terli - su - içince - terli - hastalandı - soğuk "



Yukarıdaki kelimelerle kurallı ve anlamlı bir cümle oluşturduğumuzda beşinci kelime hangisi olur?

- A) terli B) içince C) soğuk

15- Hey, sen Bana bakar mısın

Yukarıdaki cümlede boş bırakılan yerlere sırasıyla hangi noktalama işaretleri konulmalıdır?

- A) ? ? B) . , C) ! ?

16- : Tavuk, ördek, hindi gibi evcil hayvanların barındığı kapalı yer.

Yukarıdaki tanımları verilen sözcük hangisidir?

- A) kümes B) kovan C) ağıl

17- Annem yemek yapmak için malzeme almaya gitti.



Hangisi Selim'in annesinin gittiği yerlerden biri olamaz?

- A) Manav B) Bakkal C) Eczane

18- Annem, doğum günüm için pasta hazırladı. Bizim için pastayı 16 dilime ayırdı. Ben ve 3 arkadaşım kaç dilim pasta yedik?



- A) 5 B) 4 C) 3


19- Yanda verilen eşitliklere göre $\bigcirc + \triangle + \square$ kaçtır?

- A) 74
B) 72
C) 64

$$\begin{aligned} 4 \times 5 &= \bigcirc \\ 5 \times 8 &= \triangle \\ 7 \times 2 &= \square \end{aligned}$$

20- İki elde 10 parmak vardır. Beş elde kaç parmak vardır?

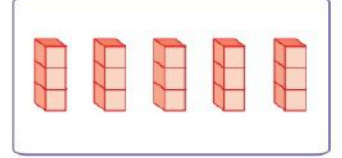
- A) 15 B) 25 C) 45



21- Yukarıdaki toplar beşerli gruplanırsa kaç grup oluşur?

- A) 3 B) 4 C) 5

22- Yandaki küplerin sayısını hangi çarpma işlemi ile bulabiliriz?



- A) 5×3
B) 5×5
C) $3 + 3 + 3 + 3 + 3$

23- Ben 7 yaşındayım. Ablamın yaşı benim yaşımın 3 katından 4 fazladır. Ablam kaç yaşındadır?

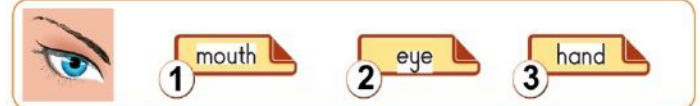


- A) 15 B) 23 C) 25

24- Esmâ'nın 8, Fadime'nin 10 lirası var. İkisi paralarını birleştirdiğinde tanesi 3 lira olan tokalardan kaç tane alabilirler?

- A) 5 B) 6 C) 7

25- Aşağıda vücudumuzun bölümlerini gösteren görsellerin adları hangi numaralarda doğru verilmiştir?



- A) 3 ve 4
B) 1 ve 5
C) 2 ve 6

***** BAŞARILAR *****

Her soru 4 (dört) puandır.

Cevaplarınızı kontrol ediniz.

Enes SERT 2/A Sınıfı Çalışmaları