



3. SINIF



2023-2024 Seti

# YAZ TATİL



100 TL  
7 PARÇA

TOPLU SİPARİŞLERDE  
KARNE KILIFI  
Hediye



Bilgi için bize ulaşın: 0543 724 96 90

Detaylı incelemek ve sipariş vermek için  
[www.ogretmenevdesatis.com](http://www.ogretmenevdesatis.com)

## İHANET

Balta girmemiş ormanlardan birine, bir adam gelmiş. Onu gören ilk ağaç, hüngür hüngür ağlamaya başlayınca uzaklardan bir başka ağaç: "Neden ağlıyorsun?" diye sormuş. Ağaç:

-Artık sonumuz geldi, demiş. İnsan denen canlı, ormanımızda hepimizi kesecek.

Uzaktaki ağaç:

-Korkma! demiş. Nasıl olsa o bir yabancı. Bizi yeterince tanımıyor bile. Eğer içimizden birinin ihaneti olmazsa bize hiçbir şey yapamaz.

Ağlayan ağaç:

-Evet, demiş. Bunları ben de biliyorum. Ancak içimizden birinin ihanetine uğradık bile. Çünkü, adamın elindeki baltanın sapı, ne yazık ki bizden.



Alıntıdır.

(Aşağıdaki ilk beş soruyu metne göre cevaplayınız.)

**1** Metindeki ilk ağaç neden ağlamış?

.....

.....

**2** Metinde kaç tane ağaçtan bahsedilmektedir?

.....

**3** Metnin başlığını siz olsaydınız ne koyardınız?

.....

**4** Uzaktaki ağaç, ne demiş?

.....

.....

**Etkinlik:** Aşağıdaki soruları metne göre cevaplayınız.

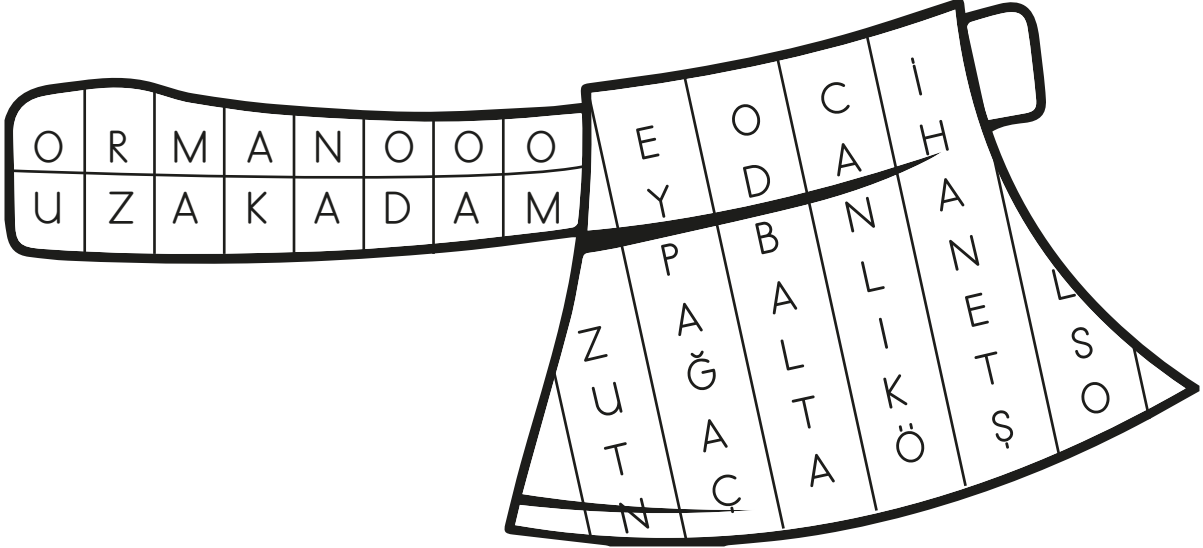
► Metnin konusu nedir?

.....

► Metnin ana fikri nedir?

.....

**Etkinlik:** Aşağıdaki bulmacada metinde geçen bazı kelimeler gizlenmiştir. Kelimeleri bulup cümlede kullanınız.



1) ..... : .....

2) ..... : .....

3) ..... : .....

4) ..... : .....

5) ..... : .....

6) ..... : .....


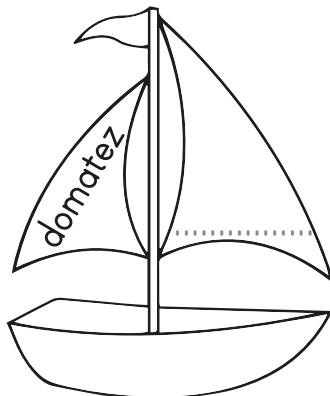
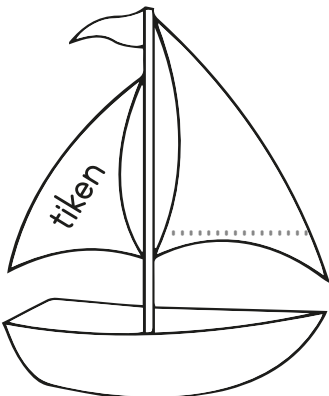
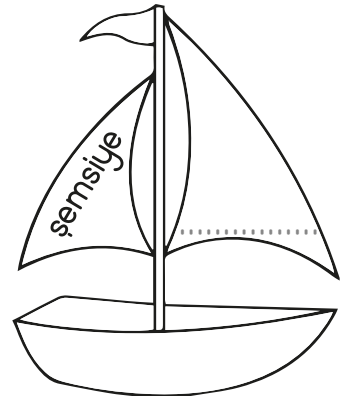
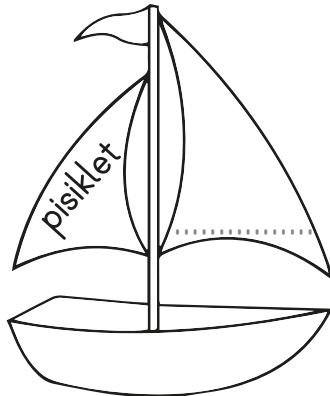
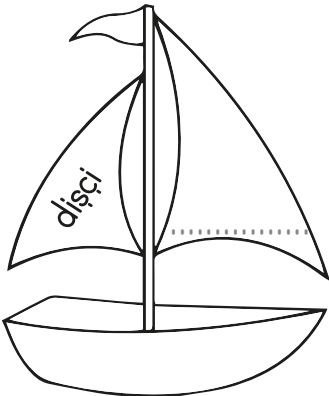
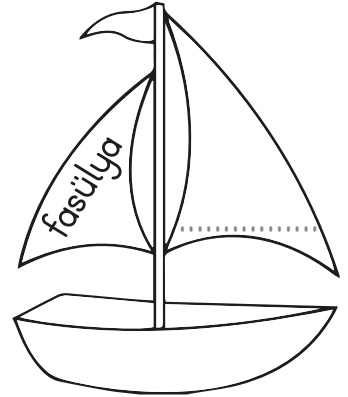
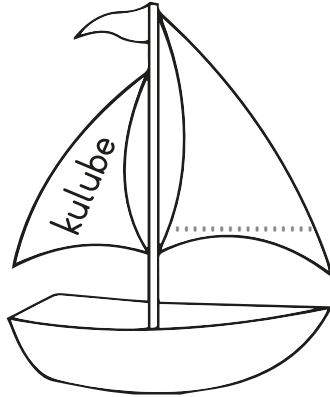
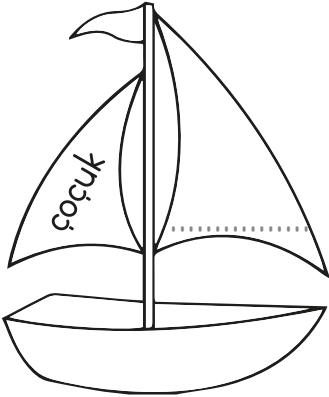
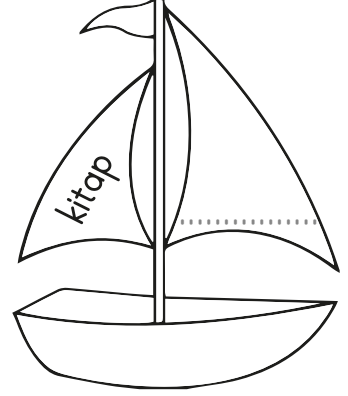
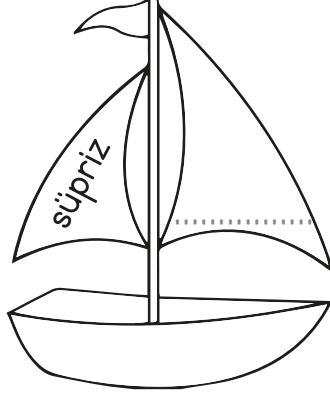
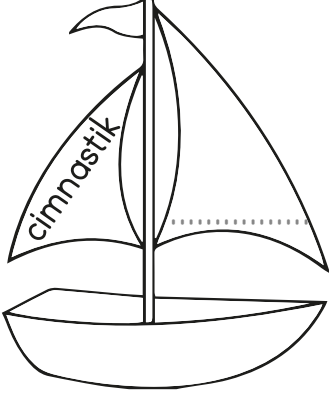
7) ..... : .....

**Etkinlik:** Aşağıdaki cümleleri, uygun deyimlerle tamamlayınız. Örnekteki gibi balonları numaralandırınız.

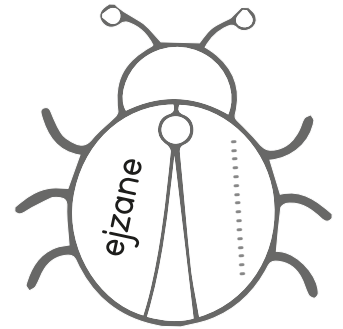
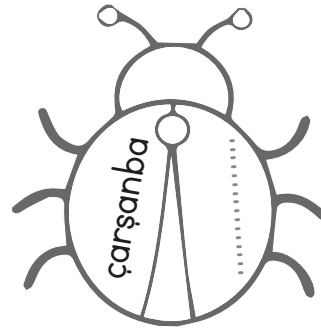
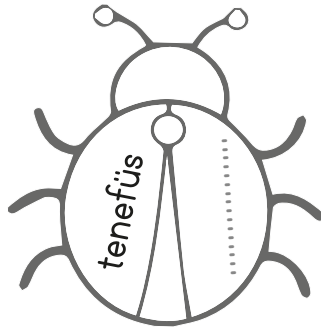
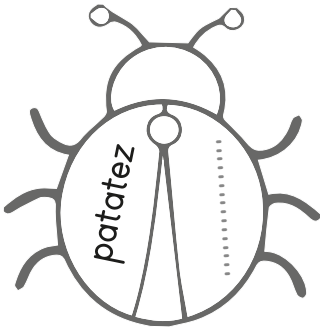
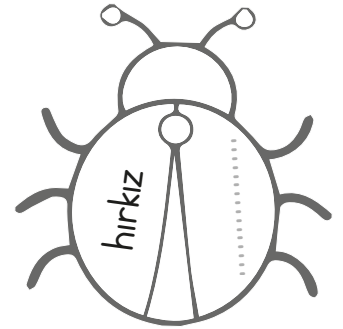
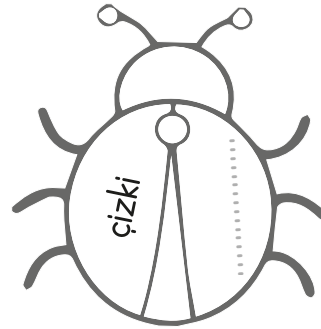

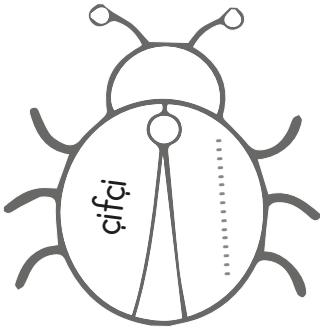
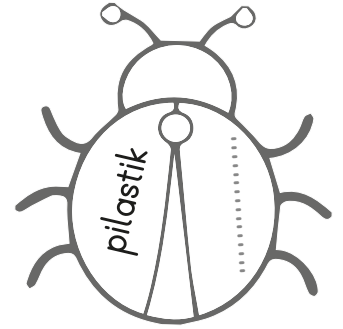


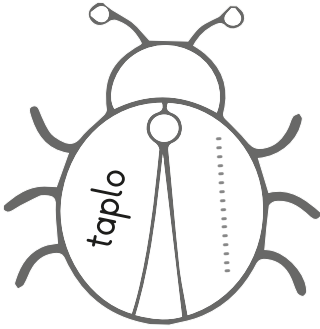
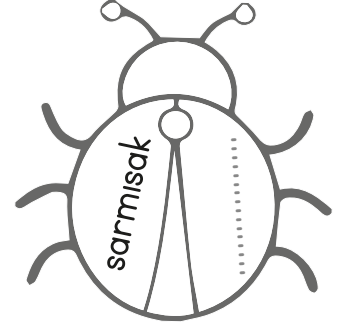
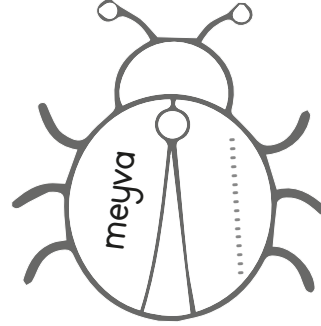
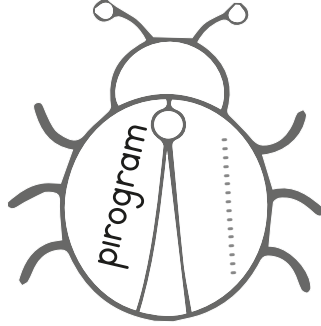

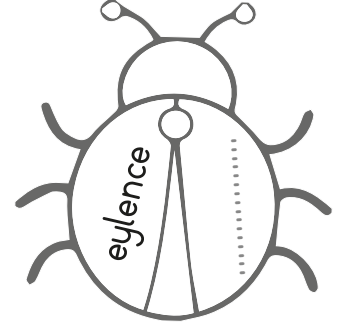



- 1 Yıllardır halamı görmedim, ..... **gözümde tütüyor** .....
- 2 Yazılıdan yüksek not aldığı duyunca .....
- 3 Annesinin sözlerini .....
- 4 Nasıl geçecek diye düşünürken zaman, ..... geçti.
- 5 Yaptıklarına bir türlü .....
- 6 Bu sınav onu çok zorlamış, adeta .....
- 7 Yaptıklarımı bir türlü beğenmiyor, sürekli .....
- 8 Bahçede fareyi görünce .....
- 9 Artık ..... ona inanmam.
- 10 Mutluluktan .....




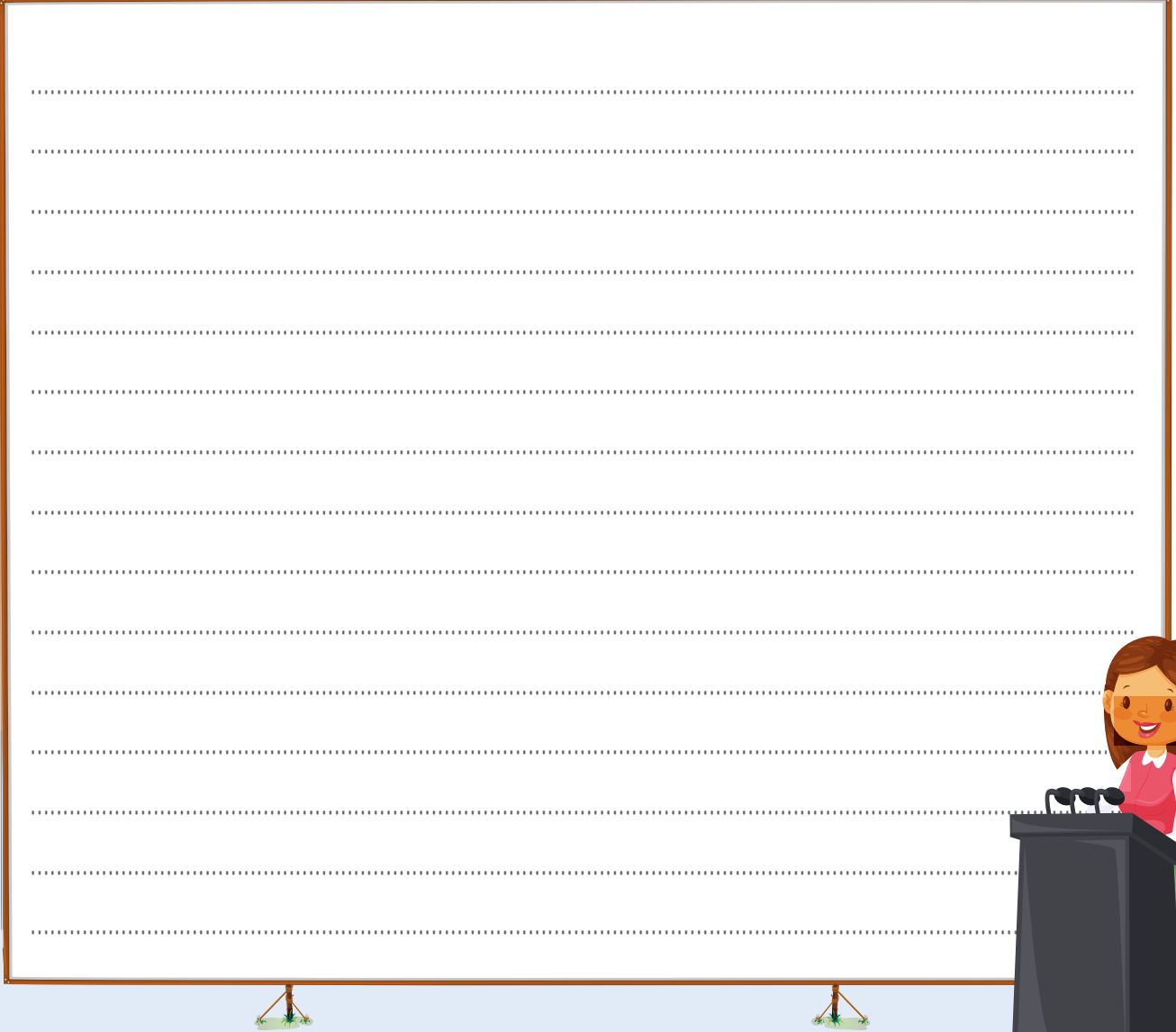
**Etkinlik:** Aşağıdaki kelimeleri okuyunuz. Doğru olanları kırmızıya, yanlış olanları maviye boyayınız. Yanlış olanları düzelterek tekrar yazınız.



**Etkinlik:** Aşağıdaki kelimelerin doğrusunu noktalı yerlere yazınız.

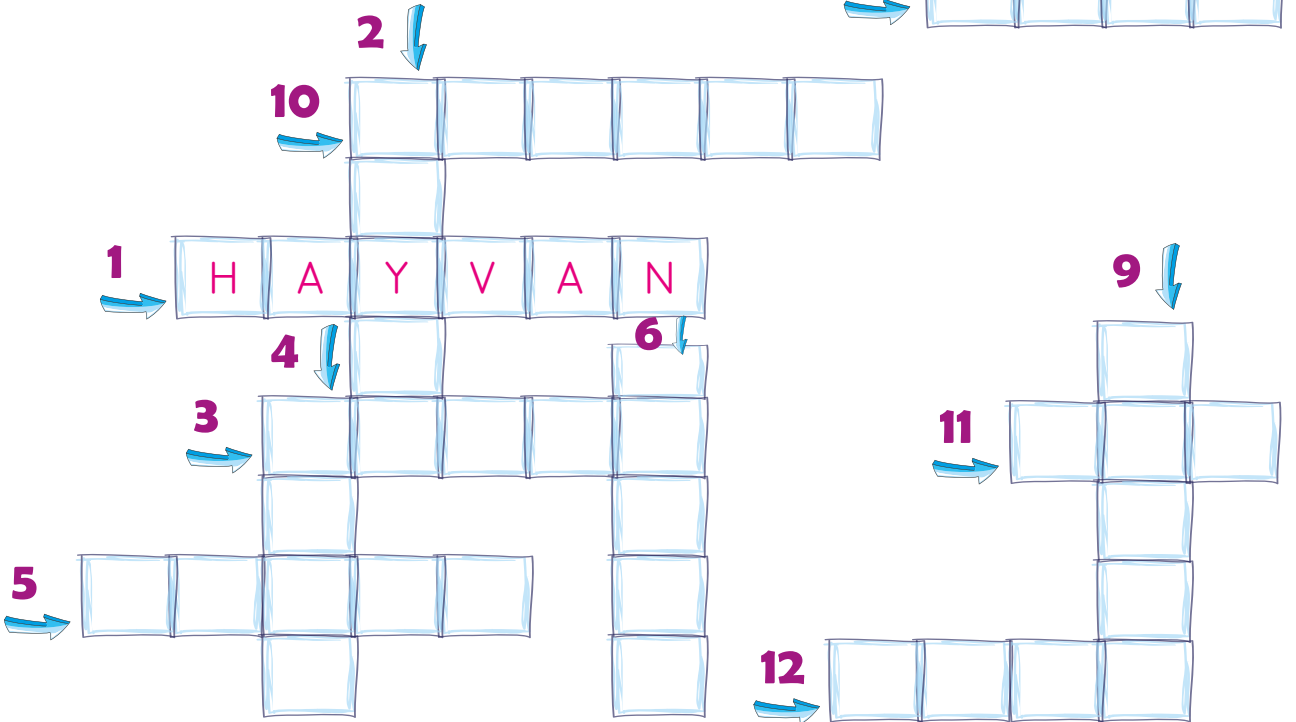


**Etkinlik:** İzleyicilere "Dengeli Beslenme" konulu, bir konuşma yapınız.



**Etkinlik:** Aşağıda verilen isimlerin ortak adlarını bulmacaya yazınız.

- 1- Kuş, kedi, fare, timsah ..... **hayvan** .....
- 2- Elma, armut, muz, çilek .....
- 3- Pırasa, ıspanak, karnabahar, kabak .....
- 4- Üç, beş, bin, yüz .....
- 5- Etek, elbise, pantolon, kazak .....
- 6- Ankara, İzmir, Antalya, Bursa, İstanbul .....
- 7- Koltuk, masa, sandalye, sehpa .....
- 8- Fransa, İngiltere, Rusya, Almanya .....
- 9- Gül, papatya, menekşe .....
- 10- İlkbahar, yaz, sonbahar, kış .....
- 11- İngilizce, Fransızca, Almanca .....
- 12- Mavi, mor, sarı, yeşil .....





**Etkinlik:** Aşağıdaki arabanın çıkışa gidebilmesi için soruların cevaplarını bulmacaya yazması gerekmektedir. Doğru cevapları bulunuz.

1. "Bir varmış, bir yokmuş" diye başlayan yazılara ne denir?
2. Yaşananların üzerinden belli bir zaman geçtikten sonra anlatılan yazılara ne denir?
3. Tanınmış bir kişinin kendi hayat hikâyesini, kendisinin yazdığı metinlere ne denir?
4. Günü gününe, tarih atılarak yazılan yazılara ne denir?
5. Önemli bir kişinin hayatını başkalarının anlattığı yazılara ne denir?
6. Yaşanmış ya da yaşanabilir olayların detaylı bir şekilde anlatıldığı uzun yazılara ne denir?
7. Yaşanmış ya da yaşanabilir olayların anlatıldığı kısa yazılara ne denir?



## Etkinlik:

## CEVAP ANAHTARI

1. "Bir varmış, bir yokmuş" diye başlayan yazılara ne denir?
2. Yaşananların üzerinden belli bir zaman geçtikten sonra anlatılan yazılara ne denir?
3. Tanınmış bir kişinin kendi hayat hikâyesini, kendisinin yazdığı metinlere ne denir?

4. Günü gününe, tarih atılarak yazılan yazılara ne denir?
5. Önemli bir kişinin hayatını başkalarının anlattığı yazılara ne denir?
6. Yaşanmış ya da yaşanabilir olayların detaylı bir şekilde anlatıldığı uzun yazılara ne denir?
7. Yaşanmış ya da yaşanabilir olayların anlatıldığı kısa yazılara ne denir?



## KARARSIZ BEDENE AİT GÖZLER

Güneş batmak üzereydi. Odanın içi sessiz bir atmosferle kaplıydı. Mum ışığında ders çalışan bir talebe, odanın tam ortasında oturuyordu. O, fikirleriyle aydınlatıyordu odanın içini. Ama günlerdir cevap bulamadığı bir soru vardı aklında. Karanlık kuyunun içinde kıvranıyor, ona yardım edecek düşünceyi arıyordu.

Evet doğru karar, yıllardır karanlık yolda ışık tutan fikirlerini aydınlatan bilgiye gitmekti. Yarın sabah ilk iş olarak onu bulacaktı. Yatağına uzandı, geceyi bir yorgan gibi üzerine örttü. Düşünceleri andıran yıldızları seyretmeye koyuldu. Gece onun beyni, yıldızlar ise her biri anında yeniden doğan kararsız bir bedene ait olan düşüncelerdi. Ertesi gün, güneş doğmuştu.

- Sorununu anladım evlat, dedi Bilge dede.  
- Nedir o zaman? diye sordu genç.  
- Sen hayallerini gerçekleştirmekten korkuyorsun evlat. Oysa bilmiyorsun ki hayallerini gerçekleştirebilmek için sadece bir ömür vaktin var. Bilge bir ara durup şaşkınlık içinde onu dinleyen öğrencisinin gözlerine baktı, kararsızlık vardı. Umutlu ama aynı zamanda da korkan gözlerle anlatmaya devam etti.

-Nasıl, ne zaman öleceğini bilemezsin evlat, sadece nasıl yaşayacağına karar verebilirsin. Bu kararı hayallerini dinleyerek vermelisin. Bunun için de güçlü olmalı, her zorluğu güçlü bir şekilde yıkarak ilerlemelisin. Ama şunu unutma, güçlü olman seni mutlu etmeyebilir fakat mutlu olman seni güçlendirecektir!










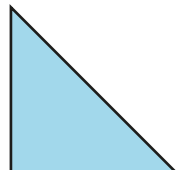









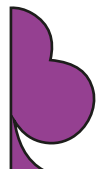







Evlat, hayallerinin peşinden git. İnsan kendi içinde derinlere indiğinde elde ettiklerinin, arzu ettiklerinden ibaret olduğunu görür. Sen başaracağına ya da başaramayacağına inanıyorsan eninde sonunda haklı çıkarsın çocuk, dedi.

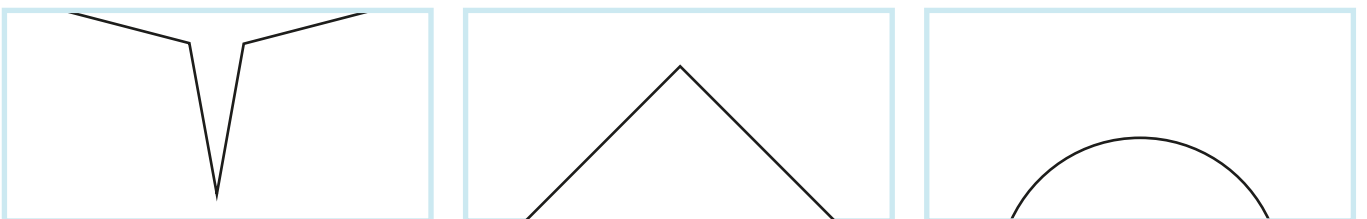
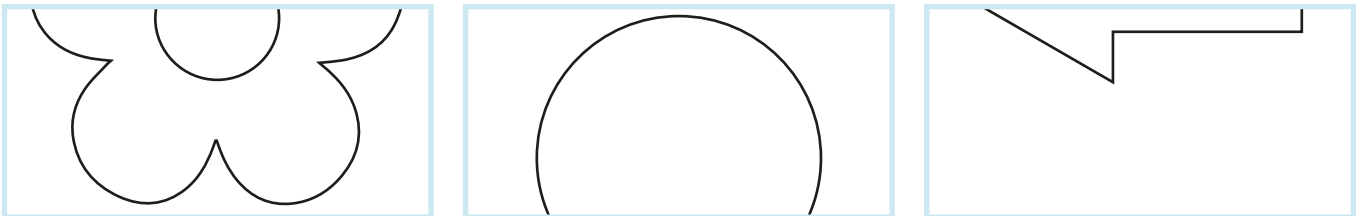

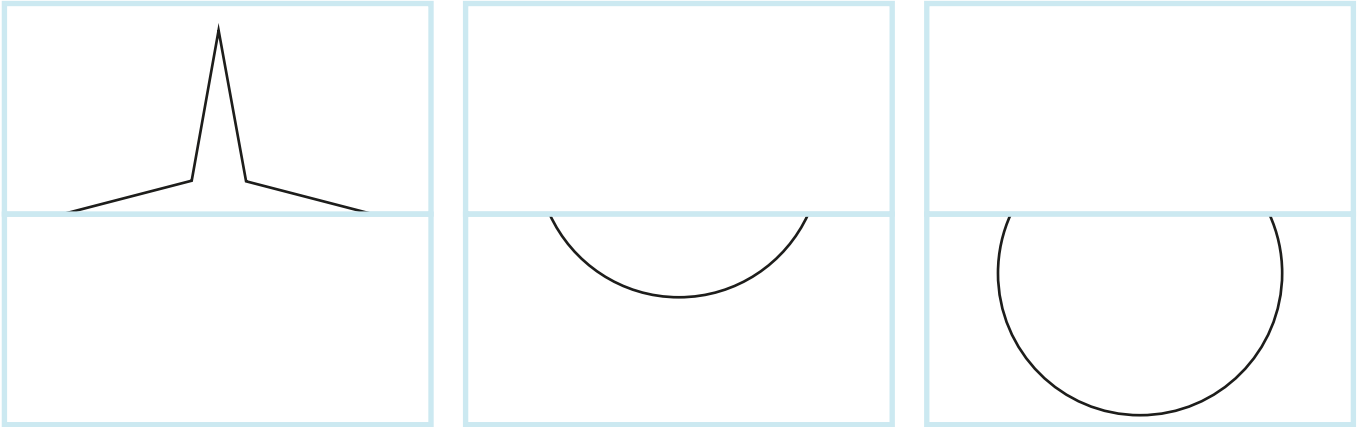
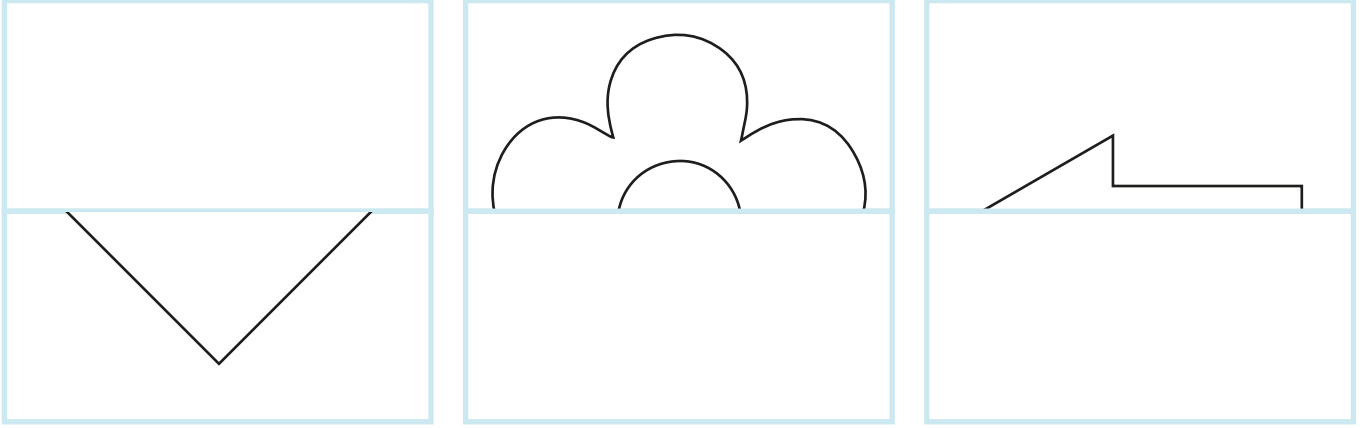
Şimdi tekrar o gözler kararlı, istekli gözlerdi. Başarıları için hayallerini dinleyerek ve asla yılmayacak bedene ait gözleri gördü Bilge.

Sedanur AKTAŞ  
(İzmir - 7.sınıf)

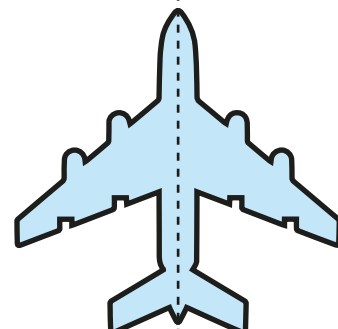

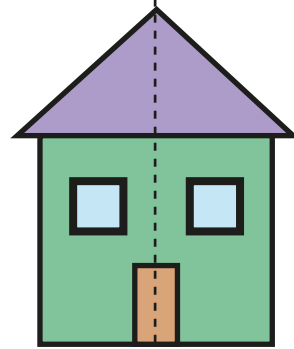



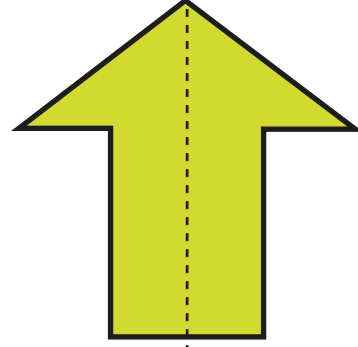

**Etkinlik:** Aşağıdaki şekillerin simetriğini işaretleyiniz.

1.		 <input type="radio"/>	 <input type="radio"/>	 <input type="radio"/>	 <input type="radio"/>
2.		 <input type="radio"/>	 <input type="radio"/>	 <input type="radio"/>	 <input type="radio"/>
3.		 <input type="radio"/>	 <input type="radio"/>	 <input type="radio"/>	 <input type="radio"/>
4.		 <input type="radio"/>	 <input type="radio"/>	 <input type="radio"/>	 <input type="radio"/>
5.		 <input type="radio"/>	 <input type="radio"/>	 <input type="radio"/>	 <input type="radio"/>

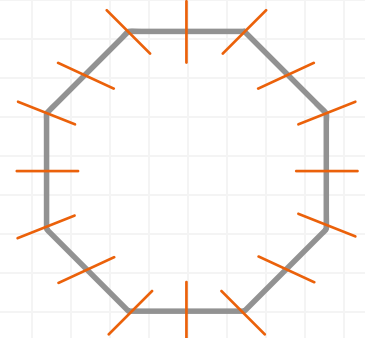
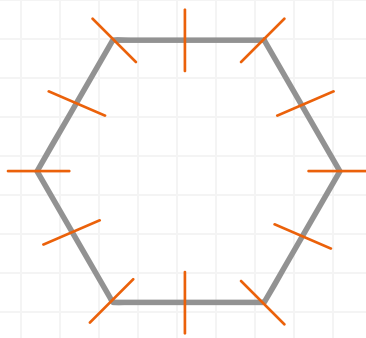
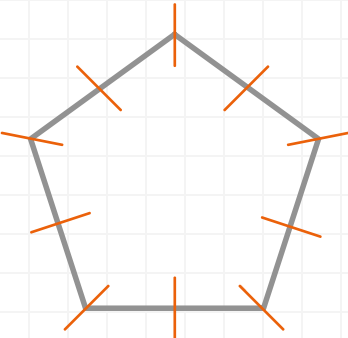
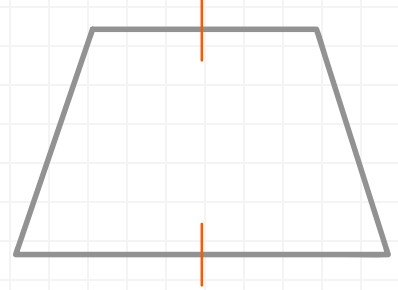
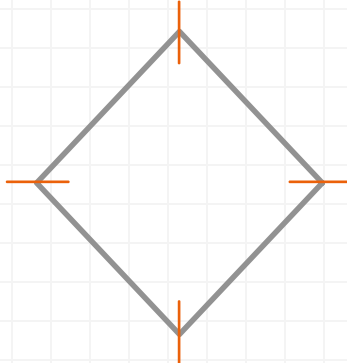
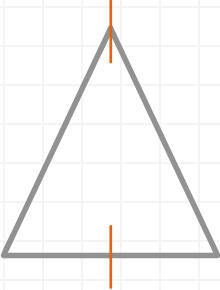
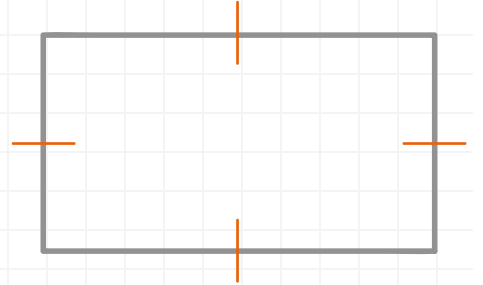
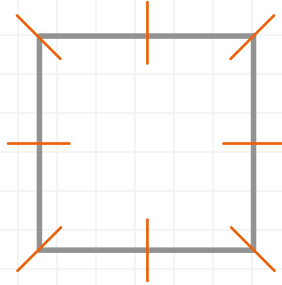
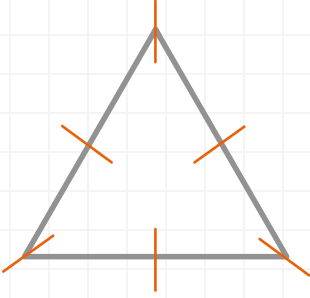
**Etkinlik:** Aşağıdaki şekilleri kesiniz. Simetriğini bulup yapıştırınız.



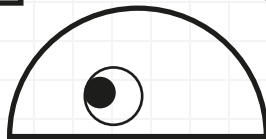
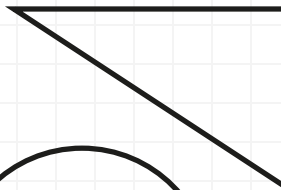
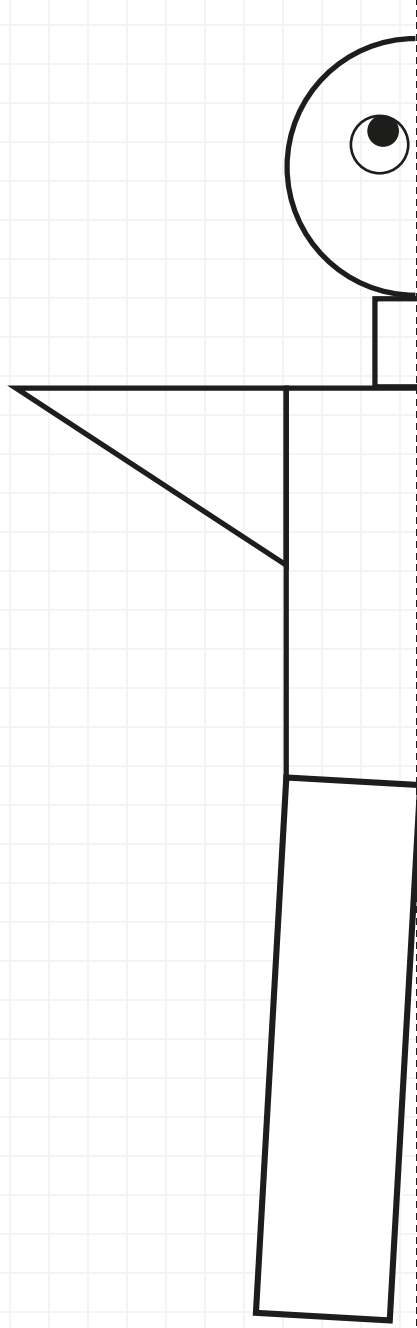
**Etkinlik:** Aşağıdaki şekilleri kesiniz. Katlayarak kaç simetri doğrusu olduğunu bulunuz.



**Etkinlik:** Aşağıdaki şekillerin simetri doğrularını cetvelle çizip kaç tane simetri doğrusu olduğunu yazınız.

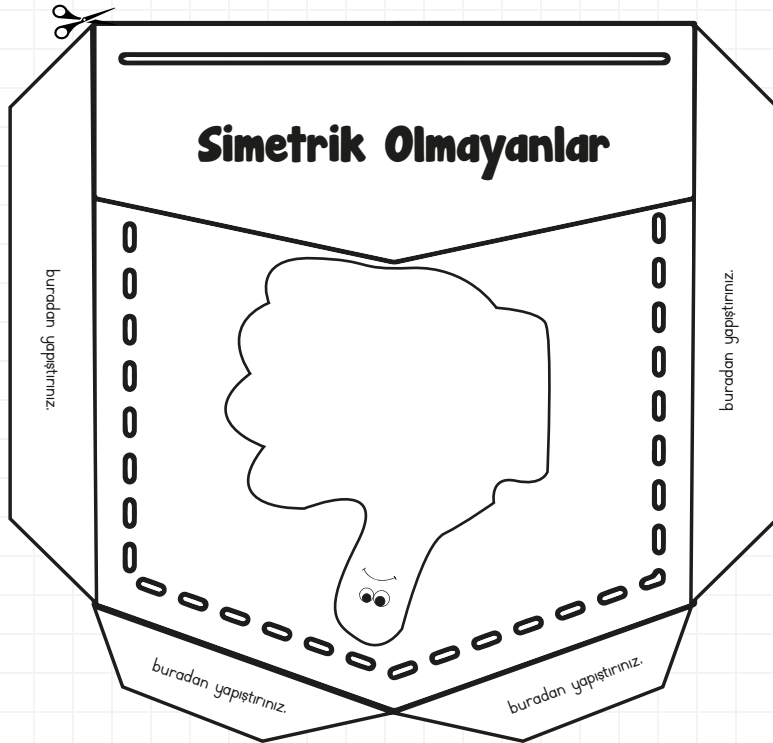


**Etkinlik:** Aşağıdaki şekillerle kes-yapıştır yöntemini kullanarak şekli, simetri doğru-  
suna göre tamamlayınız.

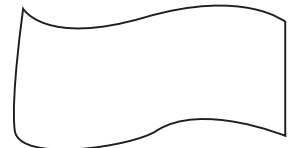

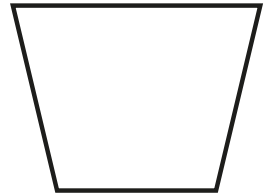

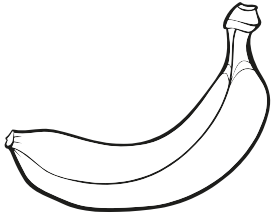




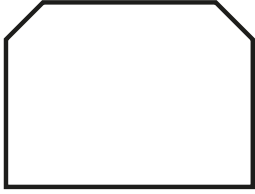






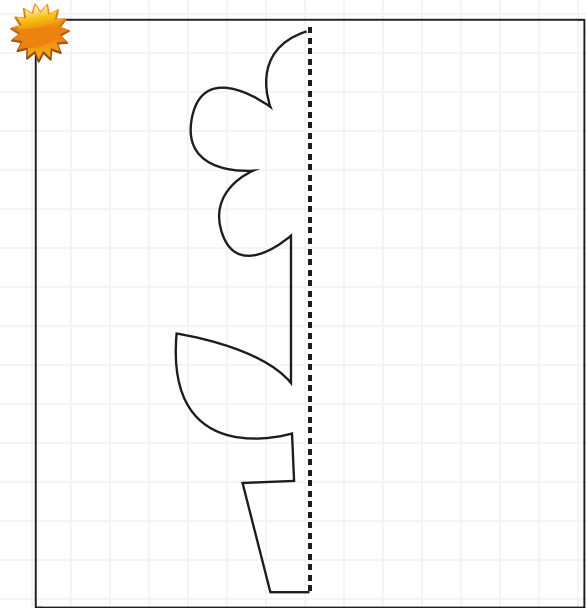
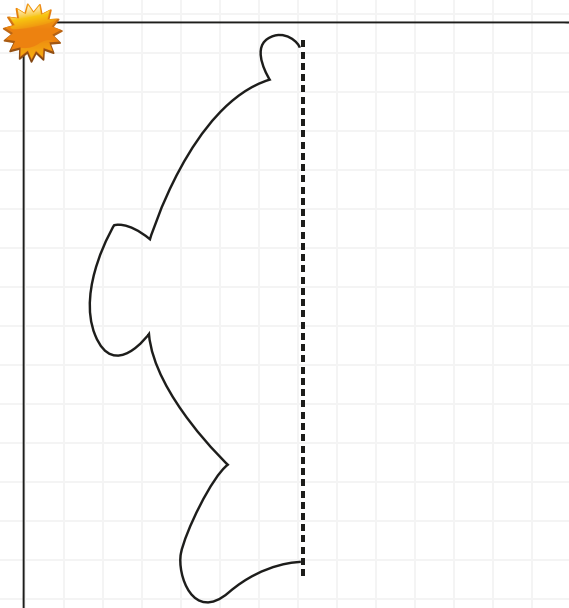
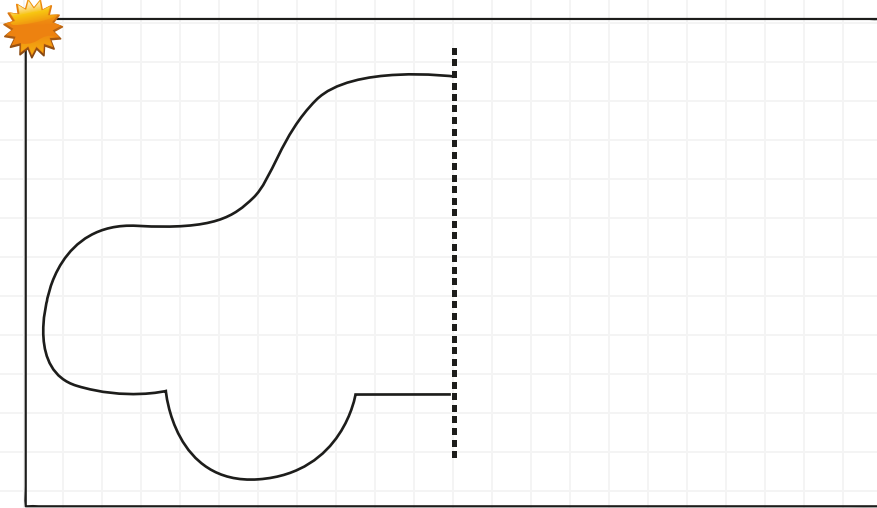
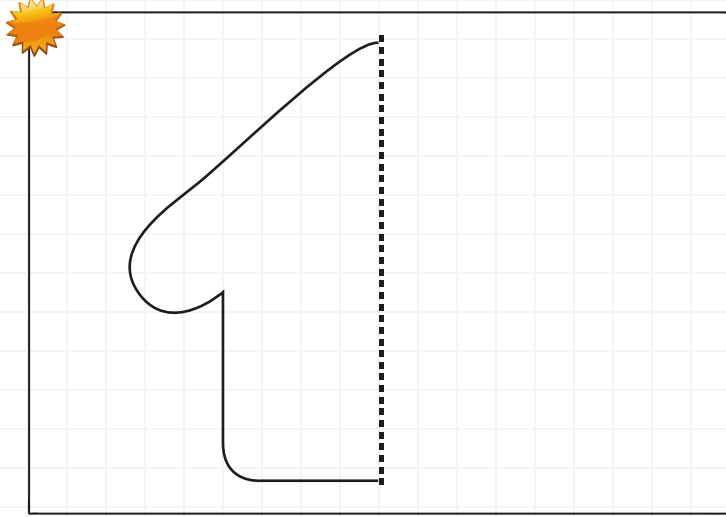
**Etkinlik:** Aşağıdaki şekilleri kenarlarından kesiniz. Buradan yapıştırın yazan yerlerden yapıştırıp en üst kısmı pantolan cebi gibi açık bırakınız. Diğer sayfadaki şekillerin simetri doğrularını çizin ve uygun ceplere yerleştiriniz.



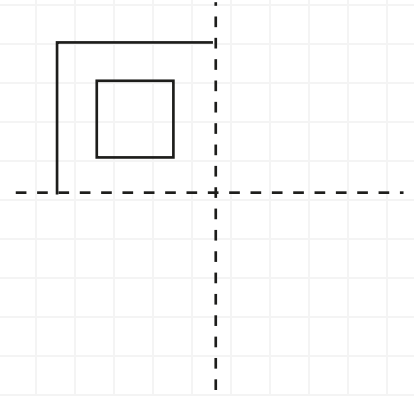
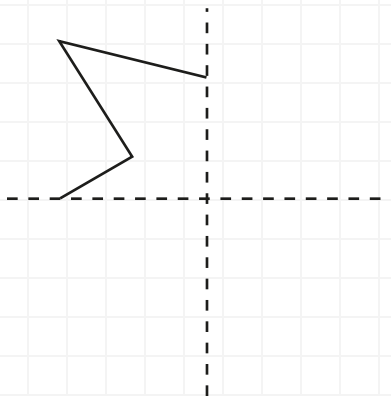
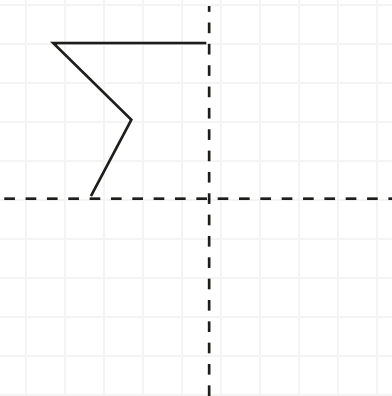
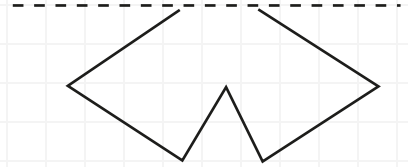
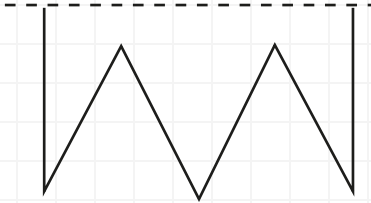
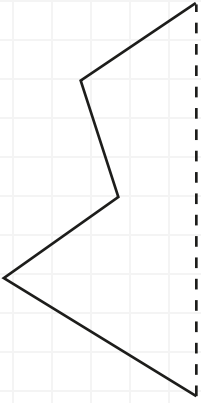
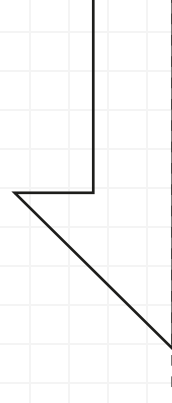
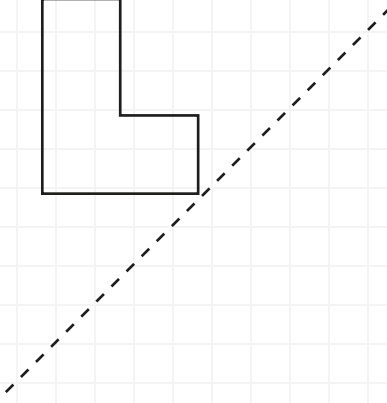
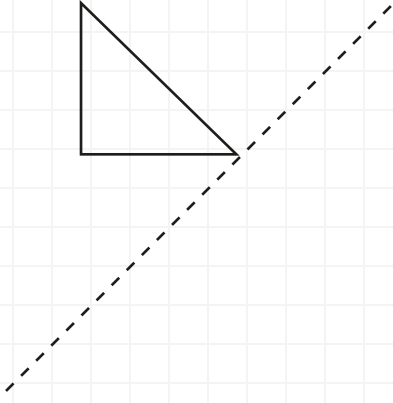
**Etkinlik:** Aşağıdaki şekilleri simetri doğrularını çizin. Simetrik olma ve olmama durumuna göre uygun ceplere yerleştiriniz.



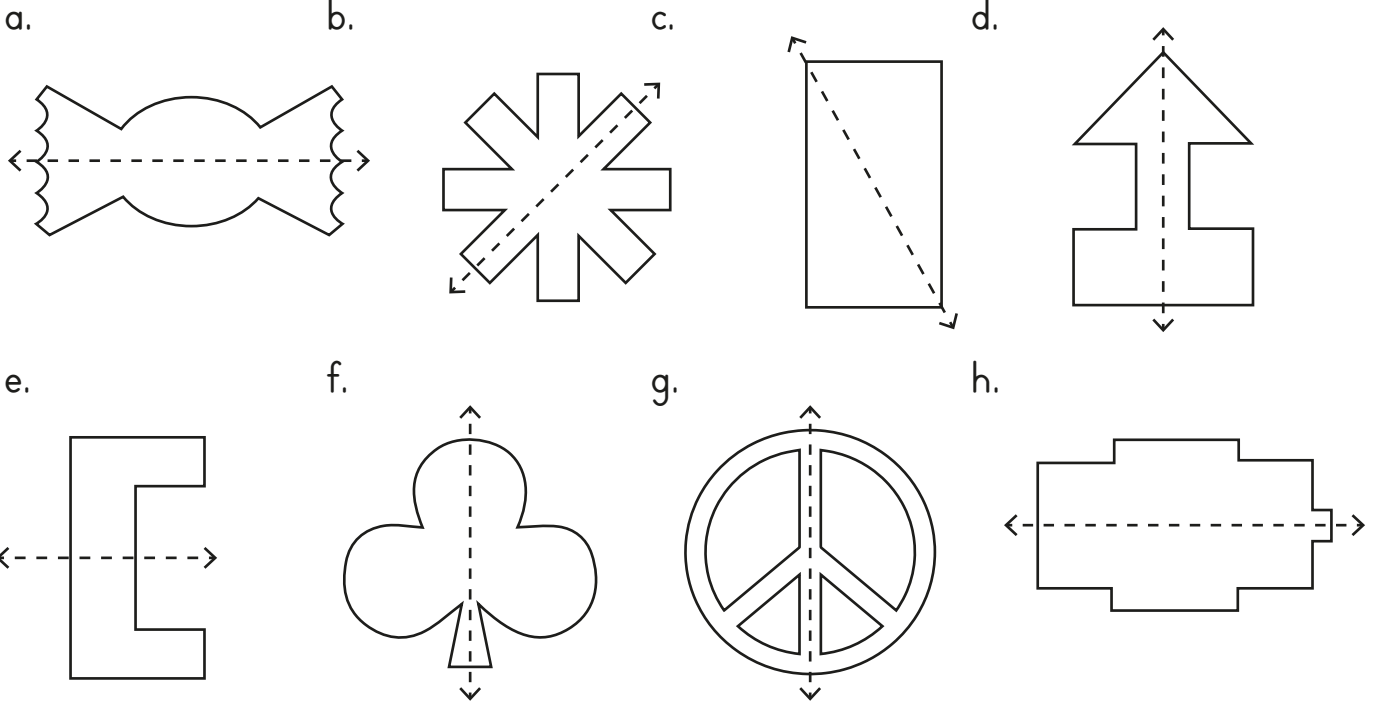
**Etkinlik:** Aşağıda şekiller üst üste gelecek şekilde kâğıdı simetri doğrusundan katlayınız. Şeklin çevresinden dikkatlice kesiniz ve sonuç: Simetri elde ettiniz.



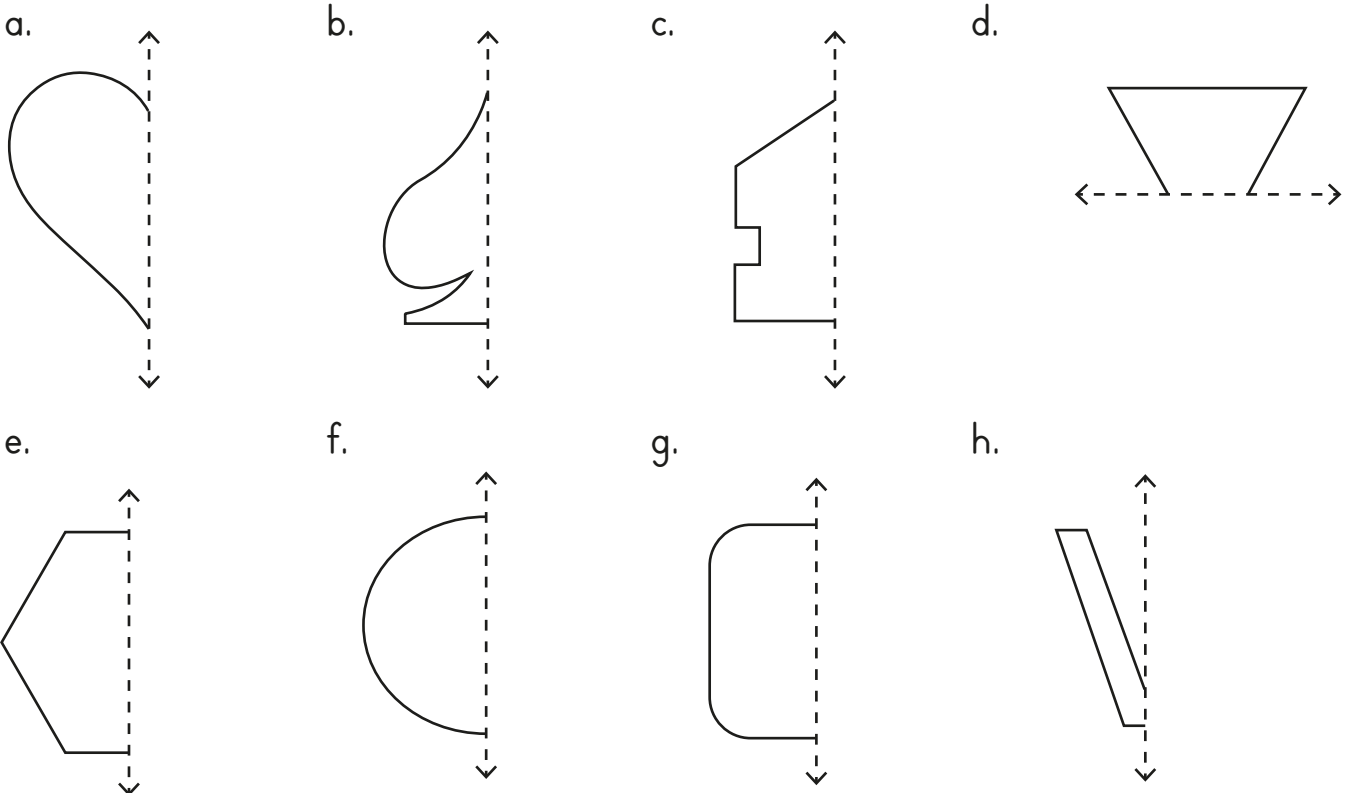
**Etkinlik:** Aşağıdaki şekilleri simetri doğrularına göre tamamlayınız.




**Etkinlik:** Aşağıdaki simetri doğrularının üzerinden geçerek tamamlayınız. Varsa yeni simetri doğrularını siz çiziniz.



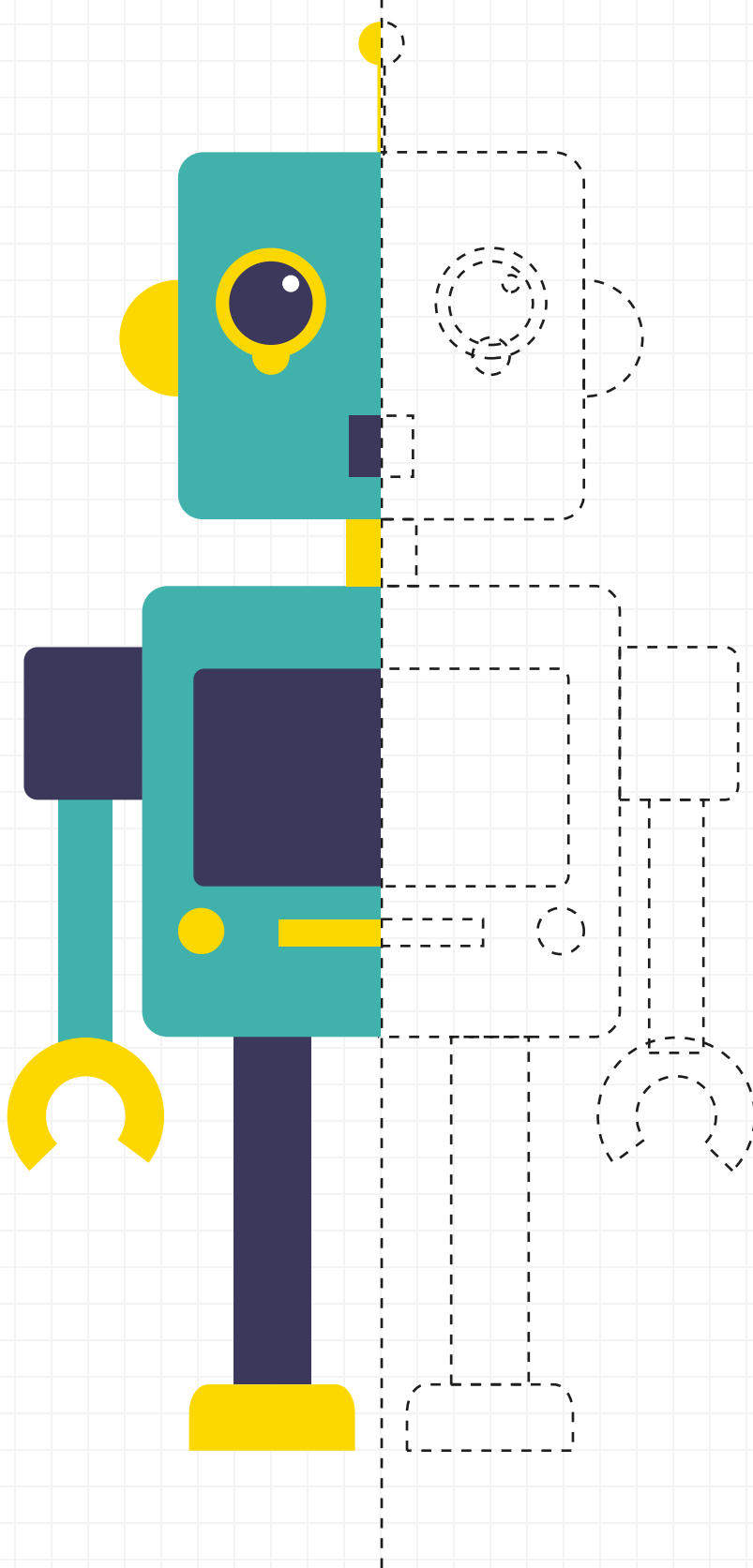
 Aşağıdaki şekillerin simetri doğrularına göre simetriğini çiziniz.




**Etkinlik:** Aşağıdaki şeklin simetri doğrusuna göre simetriğini çizin.



**Etkinlik:** Aşağıdaki robotu simetriğine göre tamamlayıp boyayınız.




**Etkinlik:** Aşağıdaki kurabiyeyi simetriğine göre tamamlayıp boyayınız.

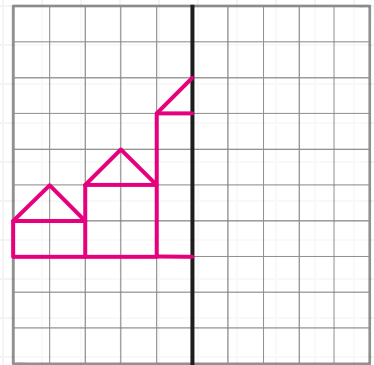
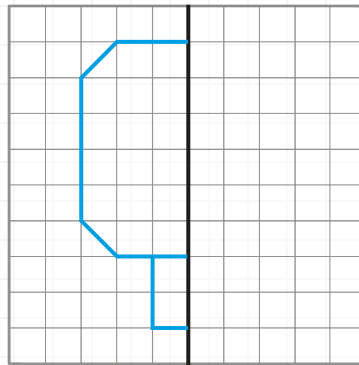
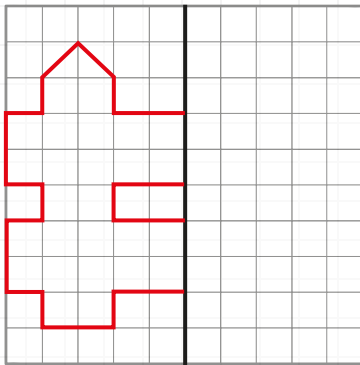
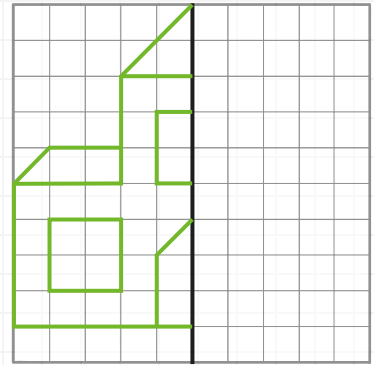
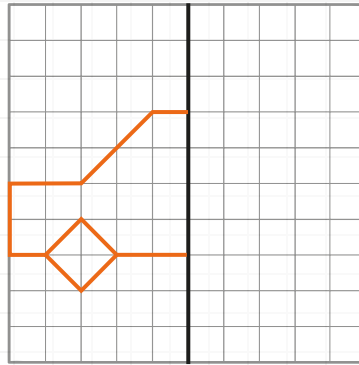
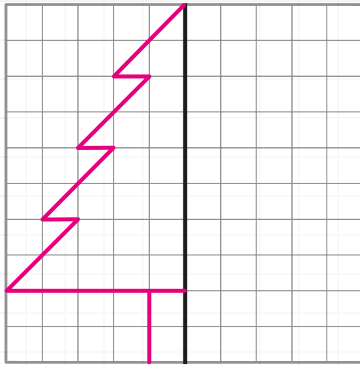
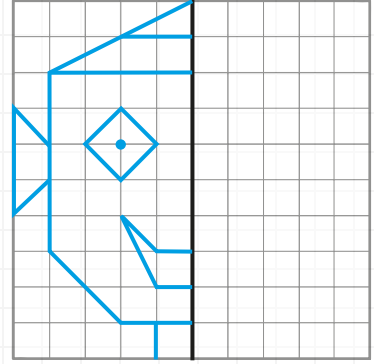
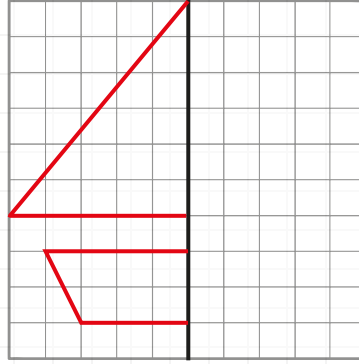
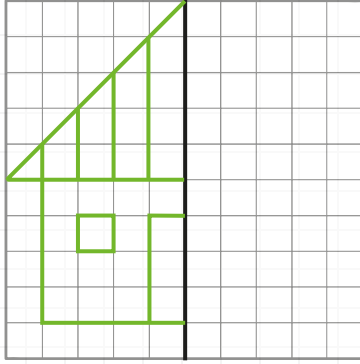
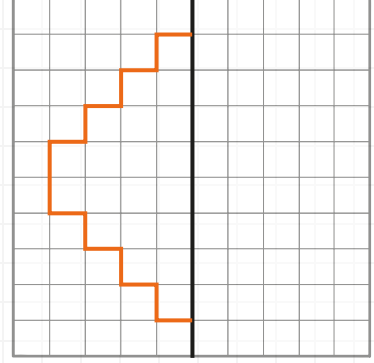
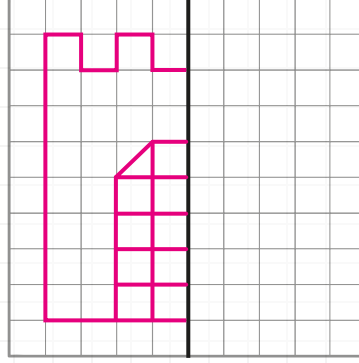
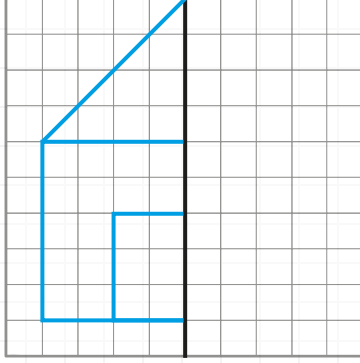




**Etkinlik:** Aşağıdaki şekilleri kesiniz. Şekilleri katlayarak kaç simetri doğrusu olduğunu bulunuz.


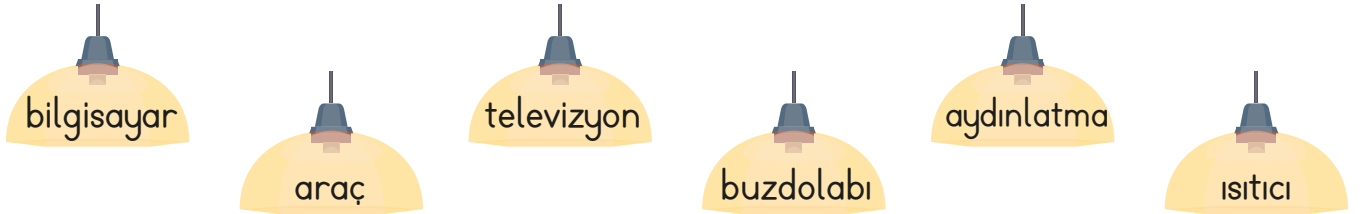


**Etkinlik:** Aşağıdaki şekillerin simetri doğrusuna göre simetriğini çizin.



**Etkinlik:** Aşağıdaki boşlukları uygun kelimelerle tamamlayınız. Bulmacaya yazınız.

- 1 ..... nın içine koyduğumuz yiyecek ve içecekler uzun süre bozulmadan kalabilir.
- 2 İnsanlar eskiden ..... amacıyla akşamları mum veya kandil yakarlardı.
- 3 Ülkemizdeki ve dünyadaki gelişmelerden ..... izleyerek habermiz olabilir.
- 4 Elektrikli ..... sayesinde ısınırız.
- 5 Ders çalışmak, oyun oynamak ve araştırma yapmak için ..... kullanırız.
- 6 Elektrikli ..... - gereçlerin günlük yaşamımızdaki kullanım amacı ve önemi farklıdır.




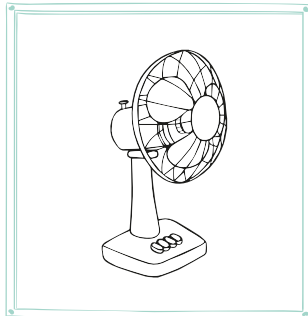

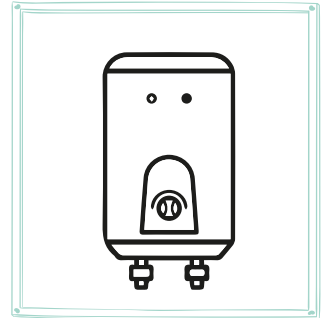






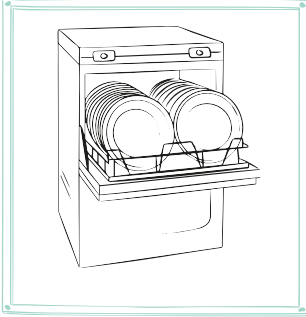


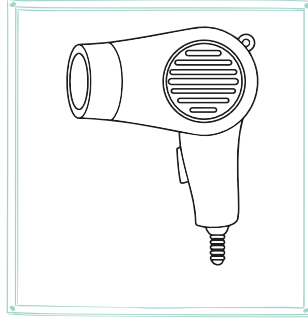

**Etkinlik:** Aşağıdaki görsellerin hangi elektrikli araç olduğunu bulmacaya yazınız.



1 -																			
2 -																			
3 -																			
4 -																			
5 -																			
6 -																			
7 -																			
8 -																			
9 -																			
10 -																			
11 -																			
12 -																			
13 -																			
14 -																			



**Etkinlik:** Aşağıdaki elektrikli araçların hangi amaçla kullanıldıklarını belirleyip uygun renge boyayınız.



**Etkinlik:** Aşağıdaki boşluklara uygun yerlerde kullanılan ikişer tane araç çiziniz.



EVDE KULLANILAN



OKULDA KULLANILAN



İŞ YERİNDE KULLANILAN



**Etkinlik:** Aşağıdaki soruları yanıtlayınız.

1 Elektrik enerjisi hangi kaynaklardan üretilir?

.....  
.....

2 Elektrikli aletler hayatımızı nasıl kolaylaştırır?

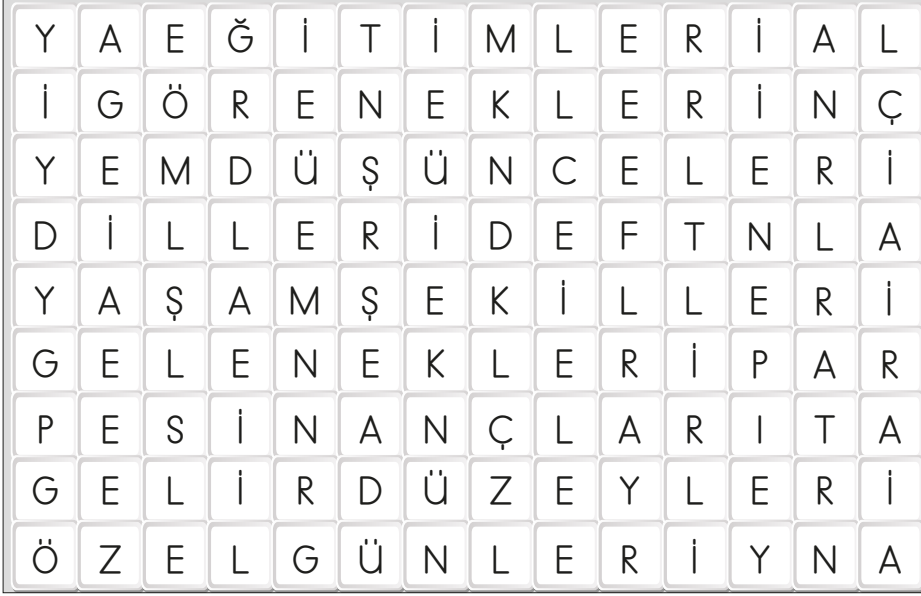
.....  
.....

3 Günlük hayatınızda hangi elektrikli aletleri kullanıyorsunuz?

.....  
.....

**Etkinlik:** Ülkemizde zorunlu veya isteğe bağlı olarak göç eden kişiler ile ne gibi farklılıklarımız olabilir? Bulmacadan bulup listeye yazınız.

## LİSTE



.....
.....
.....
.....
.....
.....
.....
.....
.....
.....

**Etkinlik:** Ülkemize ya da başka bir ülkeye zorunlu veya isteğe bağlı olarak göç eden kişiler ne gibi zorluklar yaşar? İşaretleyiniz.



İnsanlarla iletişim kurma.



Oyun oynama.



Eğitimde başarılı olma.



Dil öğrenme.



Toplu taşıma araçlarını kullanma.



Arkadaş edinme.

**Etkinlik:** Ülkemizde zorunlu veya isteğe bağlı göç eden kişilere nasıl yardımcı olabiliriz?

.....
.....
.....
.....
.....

**Etkinlik:** Aşağıdaki görsellere uygun cümleler yazınız.

Blank writing area for the first illustration.



Blank writing area for the second illustration.

Blank writing area for the third illustration.



Blank writing area for the fourth illustration.



**Etkinlik:** Aşağıda Atatürk'ün söylediği sözler ve kişilik özellikleri verilmiştir. Uygun olanları birbiriyle eşleştiriniz.

Yurt toprağı! Sana her şey feda olsun!	ileri görüşlü olması	Sanatsız kalan bir milletin hayat damarlarından biri kopmuş demektir.
Milletin sevgisi kadar büyük mükafat yoktur.	çocuk sevgisi	Medeniyet yolunda başarı, yenileşmeye bağlıdır.
Çocuk sevgisi, insan sevgisi için bir ihtiyaçtır.	vatan severliği	Geldikleri gibi giderler.
Geleceğin güvencesi sağlam temellere dayalı bir eğitime, eğitim ise öğretmene dayalıdır.	azimli ve kararlı olması	Hayatın her safhasında olduğu gibi özellikle öğretim hayatın da disiplin başarının esasıdır.
	millet sevgisi	
	sanat sevgisi	
	disiplinli olması	
	yenilikçi olması	
	eğitime önem vermesi	

Ona "Cephane yok!" dediler, "Bulunur." dedi. "Ordu yok!" dediler, "Kurulur." dedi, "Düşman çok!" dediler, "Yenilir" dedi.

**Etkinlik:** Aşağıda Atatürk'ün kişilik özelliğini yansıtan sözler verilmiştir. Sözlerin hangi kişilik özelliğini yansıttığını altlarına yazınız. Bu özellikleri bulmacadan bulup boyayınız. Boyamadığınız harfleri sırasıyla yazarak şifreyi bulunuz.

1. "Akıl ve mantığın halledemeyeceği mesele yoktur." .....
2. "Ben düşündüklerimi daima halkın huzurunda söylemeliyim. Yanlışım varsa halk beni eleştirir." .....
3. "Vatanın her karış toprağı vatandaşın kanıyla sulanmadıkça terk olunamaz." .....
4. "Sanatsız kalan bir milletin hayat damarlarından biri kopmuş demektir." .....
5. "Yolunda yürüyen bir yolcunun yalnız ufku görmesi yeterli değildir. Mutlaka ufkun ötesini de görmesi şarttır." .....
6. "Benim her emrim yapılır çünkü benden yapılmayacak emirler çıkmaz." .....

G	E	R	Ç	E	K	Ç	İ	O	L	U	Ş	U	1. ....
S	V	A	T	A	N	S	E	V	E	R	E	N	2. ....
İ	S	A	N	A	T	S	E	V	E	R	S	E	3. ....
İ	L	E	R	İ	G	Ö	R	Ü	Ş	V	İ	Y	4. ....
O	R	L	İ	D	E	R	L	İ	K	U	Z	A	5. ....
A	Ç	İ	K	S	Ö	Z	L	Ü	T	A	M	♥	6. ....

## ATATÜRK'ÜN KİŞİLİK ÖZELLİKLERİ

ŞİFRE :)

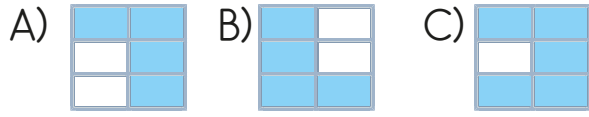


1. 

perşembe	meyva
yanlış	patatez
yalnız	herkez

 Yandaki tabloda yazımı yanlış olan kelimeler

boyanınca ortaya çıkan şekil hangisidir?



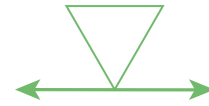
2. Aşağıdaki kelimelerden hangisi doğru yazılmıştır?
- A) pisiklet B) çocuk  
C) şemsiye

3. Aşağıdaki cümlelerde kullanılan deyimlerden hangisi yanlış anlamda kullanılmıştır?
- A) Heyecandan etekleri zil çalıyordu.  
B) Bahçede fareyi görünce ağızım bir karış açık kaldı.  
C) Bu sınav onu çok zorlamış ağız kulaklarına varmıştı.

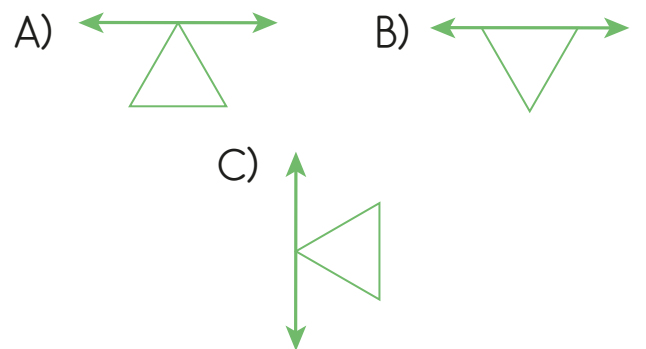
4. Aşağıdakilerden hangisi atasözüdür?
- A) Ne ekersen onu biçersin  
B) Gözünde tütmek  
C) Burun kıvrırmak

5. Aşağıdaki cümlelerin hangisinde özel isim vardır?
- A) Onlar oyun oynuyor.  
B) Kedim Tekir, bahçede uyuyor.  
C) Masanın üstünde kitap var.

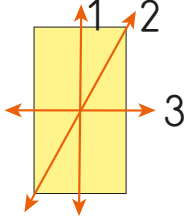
6.



Yukarıdaki şeklin simetri doğrusuna göre simetriği hangisidir?



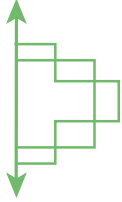
7.



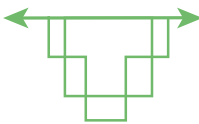
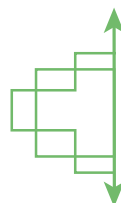
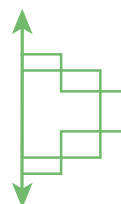
Yukarıda numaralandırılmış doğru parçalarından hangisi dikdörtgenin simetri doğrusu değildir?

- A) 1                      B) 2                      C) 3

8.






Yukarıdaki şeklin simetri doğrusuna göre simetriği aşağıdakilerden hangisidir?

- A)                       B) 
- C) 


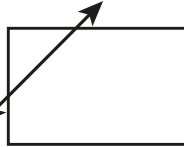
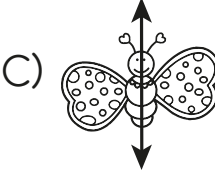
9. Aşağıdaki harflerden hangisinin birden fazla simetri doğrusu vardır?

- A) Y                      B) A                      C) H

10. Aşağıdaki şekillerden hangisinin simetri doğrusu sayısı en fazladır?

- A)                       B)                       C) 


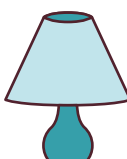

11. Aşağıdaki şekillerden hangisinin simetri doğrusu yanlış çizilmiştir?

- A)                       B) 
- C) 

12. Aşağıdakilerden hangisi pil ile çalışır?

- A) Jeneratör                      B) Buzdolabı  
C) Duvar saati

13. Aşağıdakilerden hangisi aydınlatma için kullanılır?

- A)                       B)                       C) 

14. Aşağıdaki ifadelerden hangisi doğrudur?
- A) Prizlere ıslak elle dokunabiliriz.  
B) Prizlere çocukların güvenliği için kapak takılmalıdır.  
C) Prizlere kalem benzeri şeyler sokulmalıdır.

15.



Yandaki araç ne amaçla kullanılmaktadır?

- A) Isınma  
B) İletişim  
C) Aydınlatma

16. Aşağıdakilerden hangisi ülkemize göç etmek zorunda kalan insanların göç etme nedenlerinden değildir?
- A) Salgın hastalık  
B) Gönüllü olarak yerleşme  
C) Ülkelerinde çıkan savaş

17. Aşağıdakilerden hangisi ülkemize farklı kültürlerden insanların bulunmasının faydalarındandır?
- A) İletişim sağlamada zorlanmak.  
B) Farklı kültürleri tanımak.  
C) Geçim sıkıntısı çekmek.

18. Aşağıdakilerden hangisi isteğe bağlı ya da zorunlu göç eden kişilerle farklılıklarımızdan değildir?
- A) Geleneklerimiz  
B) Konuşulan dil  
C) Gülüşlerimiz

19. Aşağıdakilerden hangisi bir ülkeye göç eden kişilerin yaşadığı zorluklardan biri değildir?
- A) Su içmek  
B) Arkadaş edinme  
C) İnsanlarla iletişim kurma

## CEVAP ANAHTARI



1 - A

2 - C

3 - C

4 - A

5 - B

6 - A

7 - B

8 - B

9 - C


10 - C

11 - B

12 - C

13 - B

14 - C



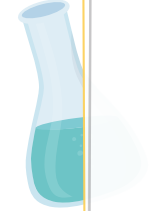
15 - A

16 - B

17 - B

18 - C

19 - A





# 1 MAYIS

## EMEK VE DAYANIŞMA GÜNÜ

### KUTLU OLSUN



# 10 ALTIN İŞ SAĞLIĞI VE GÜVENLİĞİ KURALI

- 1 İŞ SAĞLIĞI VE GÜVENLİĞİ KURALLARINA DAİMA UYUN, UYMAYANLARI UYARIN.
- 2 İŞİNİZE BAŞLAMADAN ÖNCE RİSKLERİ DEĞERLENDİRİN. RİSK ALARAK HİÇBİR İŞ YAPMAYIN.
- 3 GÖREVİNİZ DIŞINDAKİ İŞLERİ YAPMAYIN. YAPTIĞINIZ İŞE ODAKLANIN VE ÇEVRENİZE DİKKAT EDİN.
- 4 İŞİNİZE UYGUN VE GÜVENLİ DURUMDA OLAN ARAÇ, MAKİNA, ALET VE EKİPMANI SEÇİN. KURALLARA UYGUN ŞEKİLDE KULLANIN.
- 5 İŞİNİZ İÇİN GEREKLİ OLAN KİŞİSEL KORUYUCU DONANIMI DAİMA KULLANIN.
- 6 YAPILACAK İŞ İÇİN GEREKLİ İŞ İZİNLERİNİ ALMADAN İŞE BAŞLAMAYIN.
- 7 ÇEVRENİZİ DAİMA TEMİZ VE DÜZENLİ TUTUN.
- 8 KARŞILAŞTIĞINIZ TEHLİKELERİ, RAMAK KALA OLAYLARI VE KAZALARI İLGİLİLERE BİLDİRİN.
- 9 KENDİNİZİN VE DİĞERLERİNİN GÜVENLİĞİNİ GÖZETİN.
- 10 UNUTMAYIN! TÜM İŞ KAZALARI VE MESLEK HASTALIKLARI ÖNLENEBİLİR.



**ÖNCE İŞ SAĞLIĞI GÜVENLİĞİ!**